





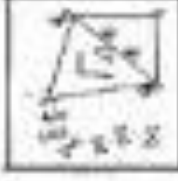


**1º ANO – ATIVIDADES REMOTAS, 8º QUINZENA.**  
**LÍNGUA PORTUGUESA.**  
**RECUPERAÇÃO**

ALUNO (A): \_\_\_\_\_

PROFESSOR (A): \_\_\_\_\_ DATA: \_\_\_\_/\_\_\_\_/\_\_\_\_

## FAMÍLIA SILÁBICA

FORME AS SÍLABAS CORRETAMENTE:

<b>P</b>	A	_____	
	E	_____	
	I	_____	
	O	_____	
	U	_____	

# FAMÍLIA SILÁBICA

## P

COMPLETE AS PALAVRAS COM PA, PE, PI, PO OU PU:




		T	O
--	--	---	---




		I	X	E
--	--	---	---	---



		P	O	C	A
--	--	---	---	---	---



		R	C	O
--	--	---	---	---



		D	I	M
--	--	---	---	---

# CAÇA-PALAVRAS: COMIDAS COM A LETRA P

P	U	D	I	M	A	S	D
A	S	P	I	P	O	C	A
P	A	S	T	E	L	D	F
F	P	I	C	O	L	É	G
P	I	Z	Z	A	K	N	H
C	V	B	P	Ã	O	V	J
P	E	R	A	Z	X	C	K



PERA



PÃO



PICOLÉ



PIZZA



PIPOCA



PUDIM



PASTEL

# FAMÍLIA SILÁBICA

PA PE PI PO PU

1- COMPLETE AS PALAVRAS COM O SOM INICIAL:



NELA



IXE



PA



RCO



MA

www.aartedeensinareaprender.com

COMPLETE O NOME DAS FIGURAS COM A SÍLABA QUE ESTÁ FALTANDO E DEPOIS COPIE.



PI \_\_\_\_



\_\_\_\_TECA



\_\_\_\_ANO



SA \_\_\_\_



\_\_\_\_IXE



\_\_\_\_TA




\_\_\_\_LHAÇO



\_\_\_\_TO

# CRUZA = P





**1º ANO – ATIVIDADES REMOTAS, 8º QUINZENA.**  
**MATEMÁTICA.**  
**RECUPERAÇÃO**

ALUNO (A): \_\_\_\_\_

PROFESSOR (A): \_\_\_\_\_ DATA: \_\_\_\_/\_\_\_\_/\_\_\_\_

**NUMEROS NATURAIS**

1 – PINTE DE AMARELO A QUANTIDADE QUE REPRESENTA  
**UMA DEZENA** E DE AZUL A QUANTIDADE QUE  
REPRESENTA **MEIA DEZENA**.




2 – QUANTOS DOCINHOS SOBRARAM SEM PINTAR?




3 – QUANTOS DOCINHOS VOCÊ PINTOU AO TODO?



COMPLETE OS NÚMEROS QUE ESTIVEREM FALTANDO NA SEQUÊNCIA DE 0 A 15



PINTE DE VERMELHO OS NÚMEROS PARES E DE AZUL OS ÍMPARES.



# TREINANDO ADIÇÃO

$$\begin{array}{r} 4 \\ + 1 \\ \hline \square \end{array}$$

$$\begin{array}{r} 2 \\ + 4 \\ \hline \square \end{array}$$

$$\begin{array}{r} 5 \\ + 1 \\ \hline \square \end{array}$$



$$\begin{array}{r} 6 \\ + 3 \\ \hline \square \end{array}$$

$$\begin{array}{r} 7 \\ + 2 \\ \hline \square \end{array}$$

$$\begin{array}{r} 5 \\ + 4 \\ \hline \square \end{array}$$

$$\begin{array}{r} 2 \\ + 6 \\ \hline \square \end{array}$$

$$\begin{array}{r} 4 \\ + 3 \\ \hline \square \end{array}$$

$$\begin{array}{r} 6 \\ + 1 \\ \hline \square \end{array}$$



LIGUE CADA OPERAÇÃO DE ADIÇÃO AO SEU RESULTADO.

$7 + 1 =$

9

$5 + 2 =$

6

$4 + 2 =$

8

$9 + 0 =$

7






OBSERVE O EXEMPLO E RESOLVA AS SUBTRAÇÕES.

$5 - 2 = 3$  

$8 - 3 = \square$  

$9 - 1 = \square$  

$3 - 2 = \square$  

$9 - 5 = \square$  

$9 - 3 = \square$  

$7 - 5 = \square$  

$9 - 2 = \square$  

1º ANO – ATIVIDADES REMOTAS, 8º QUINZENA.  
GEOGRAFIA  
RECUPERAÇÃO

ALUNO (A): \_\_\_\_\_

PROFESSOR (A): \_\_\_\_\_ DATA: \_\_\_\_ / \_\_\_\_ / \_\_\_\_

**AJUDE LUCIANA ARRUMAR A ESTANTE DO QUARTO DELA.**



**DESENHE NA ILUSTRAÇÃO ACIMA:**

- UM VASO DE FLORES NA PRATELEIRA MAIS ALTA.
- TRÊS LIVROS NA PRATELEIRA MAIS BAIXA, EMPILHADOS.
- DUAS BONECAS EM CADA UMA DAS PONTAS DA PRATELEIRA DO MEIO.
- UM AQUÁRIO ENTRE AS BONECAS.



**ESCOLA MUNICIPAL LAURO LUIZ**  
Anos Iniciais do Ensino Fundamental  
Rua Treze de Maio, nº 311 Fone: (45) 3233-1222  
Email: escolalauro Luiz@hotmail.com  
CAMPO BONITO CEP: 85.450-000 PARANÁ

1º ANO – ATIVIDADES REMOTAS, 8º QUINZENA.

## HISTÓRIA RECUPERAÇÃO

ALUNO (A): \_\_\_\_\_

PROFESSOR (A): \_\_\_\_\_ DATA: \_\_\_\_ / \_\_\_\_ / \_\_\_\_

ESTA É A FAMÍLIA DO JOÃO, O FILHO MAIS VELHO DO CASAL. ELE ESTÁ MUITO FELIZ COM A CHEGADA DA SUA IRMÃZINHA



DEPOIS DE OBSERVAR A FAMÍLIA DO JOÃO, PINTE QUEM VOCÊ ACHA SER O JOÃO.

A IRMÃZINHA DO JOÃO AINDA NÃO TEM NOME, ESCOLHA VOCÊ UM NOME PARA ELA E ESCREVA.

\_\_\_\_\_

QUANTAS PESSOAS TEM A FAMÍLIA DO JOÃO?

\_\_\_\_\_

QUANTAS PESSOAS COMPÕEM A SUA FAMÍLIA?

\_\_\_\_\_

AGORA ESCREVA O NOME DAS PESSOAS QUE COMPÕEM A SUA FAMÍLIA INCLUINDO O SEU.

\_\_\_\_\_

\_\_\_\_\_

\_\_\_\_\_



**ESCOLA MUNICIPAL LAURO LUIZ**  
*Anos Iniciais do Ensino Fundamental*  
Rua Treze de Maio, nº 311 Fone: (45) 3233-1222  
Email: escolalauroluiz@hotmail.com  
CAMPO BONITO CEP: 85.450-000 PARANÁ

**1º ANO – ATIVIDADES REMOTAS, 8º QUINZENA.**  
**CIÊNCIAS**  
**RECUPERAÇÃO**

ALUNO (A): \_\_\_\_\_

PROFESSOR (A): \_\_\_\_\_ DATA: \_\_\_\_ / \_\_\_\_ / \_\_\_\_

**RECORTE E COLE OS UTENSÍLIOS DE HIGIENE NOS DEVIDOS LUGARES**




**ESCOLA MUNICIPAL LAURO LUIZ**  
*Anos Iniciais do Ensino Fundamental*  
Rua Treze de Maio, nº 311 Fone: (45) 3233-1222  
Email: escolalauroluiz@hotmail.com  
CAMPO BONITO CEP: 85.450-000 PARANÁ

**1º ANO – ATIVIDADES REMOTAS, 8º QUINZENA.**  
**ARTE**  
**RECUPERAÇÃO**

ALUNO (A): \_\_\_\_\_

PROFESSOR (A): \_\_\_\_\_ DATA: \_\_\_\_/\_\_\_\_/\_\_\_\_

USANDO LÁPIS COM AS CORES PRIMÁRIAS CUBRAS OS DIFERENTES TIPOS DE LINHAS.



**ESCOLA MUNICIPAL LAURO LUIZ**  
*Anos Iniciais do Ensino Fundamental*  
Rua Treze de Maio, nº 311 Fone: (45) 3233-1222  
Email: escolalauroluiz@hotmail.com  
CAMPO BONITO CEF: 05.450-000 PARANÁ

1º ANO – ATIVIDADES REMOTAS, 8º QUINZENA.  
EDUCAÇÃO FÍSICA

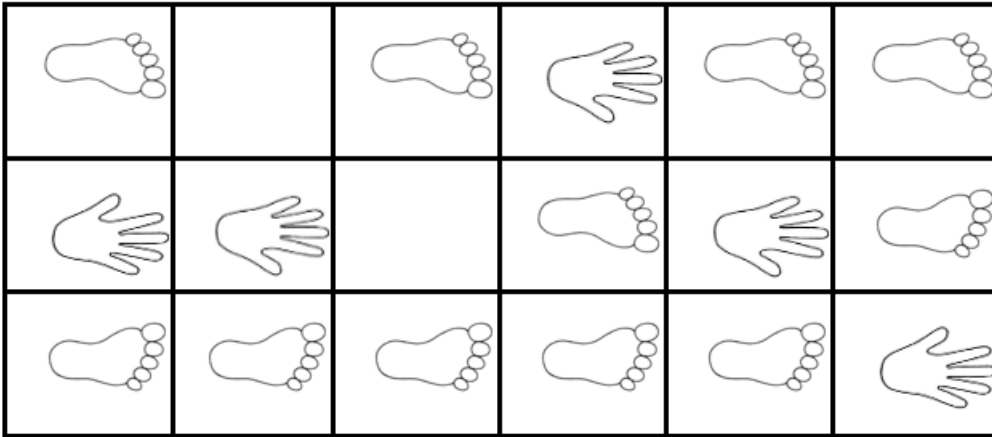
## RECUPERAÇÃO

ALUNO (A): \_\_\_\_\_

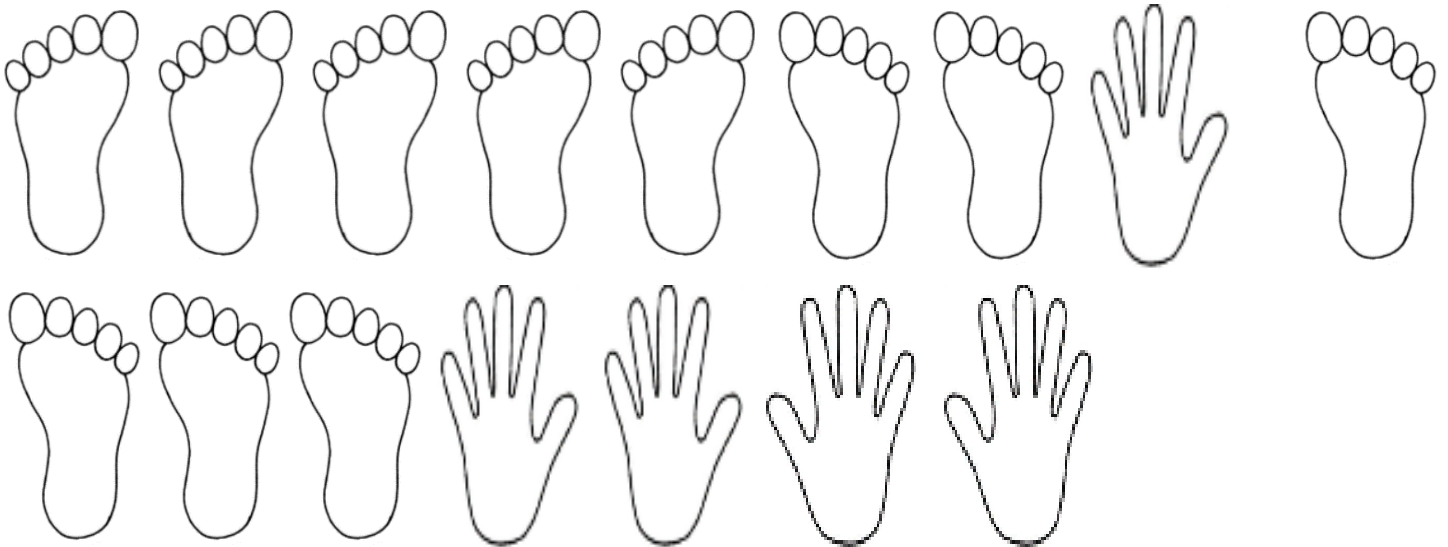
PROFESSOR (A): \_\_\_\_\_ DATA: \_\_\_\_ / \_\_\_\_ / \_\_\_\_

### Atividade 1 – AMARELINHA MALUCA

Nessa atividade vamos brincar de pular amarelinha, mas será uma amarelinha um pouco diferente, veja o exemplo abaixo:



Para facilitar podem ser recortados os desenhos abaixo e colocados na amarelinha.



**OBSERVAÇÃO:** todos os materiais citados podem ser trocados por outros similares.