



ESCOLA MUNICIPAL LAURO LUIZ
Anos Iniciais do Ensino Fundamental
Rua Treze de Maio, nº 311 Fone: (45) 3233-1222
Email: escolalauro Luiz@hotmail.com
CAMPO BONITO CEP: 85.450-000 PARANÁ

1º ANO - ATIVIDADES REMOTAS

LÍNGUA PORTUGUESA.

ALUNO (A): _____

PROFESSOR (A): _____ DATA: _____



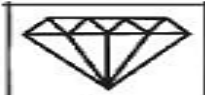


VAMOS APRENDER A LETRA **D**.

COM AJUDA DE SUA FAMÍLIA FAÇA A LEITURA DAS SÍLABAS ABAIXO:


DA- DE – DI- DO- DU- DÃO.

da – de – di - do – du- dão.

FORME AS SÍLABAS CORRETAMENTE:

D	A	_____	
	E	_____	
	I	_____	
	O	_____	
	U	_____	

PINTE E ESCREVA O NOME DAS FIGURAS QUE INICIAM COM A LETRA **D**



LETRA D

WENIDARC CINTRA

A LETRA **D** ESTÁ DOENTE.
PERDEU A ALEGRIA.
CHAMA O DOUTOR,
CHORA NOITE E DIA.



ATIVIDADES:

1) CIRCULE NO TEXTO TODAS AS PALAVRAS QUE TENHA A LETRA **D**. DEPOIS COPIE-AS.

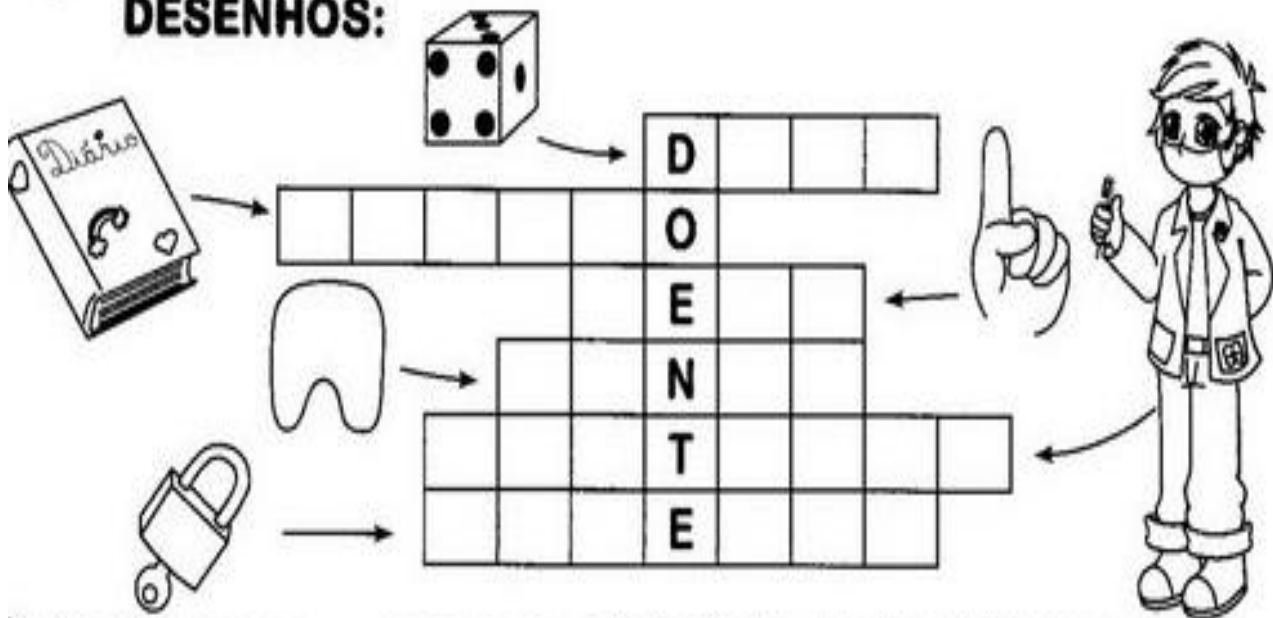
2) COM AJUDA DE SUA FAMÍLIA, RECORTE E COLE 5 PALAVRAS QUE TENHA A LETRA **D**.

PINTE AS FICHAS DAS PALAVRAS QUE INDICAM OS NOMES DOS DESENHOS:

			
BOCA	DEDO	CABO	DICA
DOCE	EDUCA	CADEADO	CABIDE
BODE	DADÃO	DAMA	DIABO

			
EDU	COCADA	EDU	DIA
CADEADO	COCA-COLA	DOCE	IDA
DOIDO	CUIDADO	DADO	DADO






⇒ 2) COMPLETE A CRUZADINHA DE ACORDO COM OS DESENHOS:




The crossword puzzle grid is shown with the following words filled in:

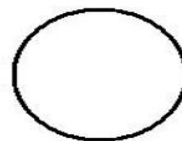
- Vertical word 1: D O E N T E
- Horizontal word 2: D O I D O
- Horizontal word 3: D A D O

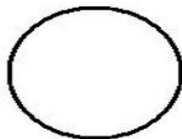
Clues and illustrations provided:

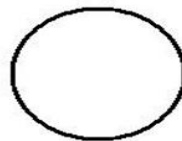
-  → DADO
-  → DENTE
-  → CADEADO
-  → DIÁRIO
-  → DOUTOR

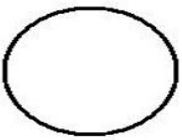
ESCREVA OS NOMES E CONTE AS LETRAS:

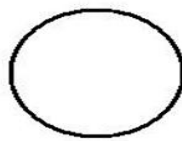












2)


OBSERVE AS FIGURAS ABAIXO E PINTE APENAS AQUELAS QUE SE INICIAM COM A LETRA D.



ESTUDO DA LETRA “D”


1. PINTAR TODAS AS LETRAS “D” QUE VOCÊ ENCONTRAR NO POEMA ABAIXO:

LETRA D




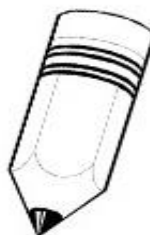
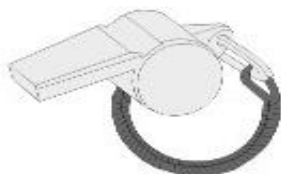
APARECE NO DUDU,
QUE NÃO GOSTA DE COMIDA.
MAS NÃO VEM COM A MAGALI,
A GULOSA MAIS QUERIDA.

ELA ESTÁ NA NOTA DÓ,
ESTÁ NO DEDO E NO DEDAL.
NO DRAGÃO, NO DOMINÓ,
NO DIAMANTE E NO DEGRAU.



(ABC da Mônica – Maurício de Souza)

2. PINTAR AS FIGURAS QUE INICIAM COM A LETRA “D”.





3. ESCREVA AS 10 PALAVRAS QUE VOCÊ PINTOU NO POEMA. PODE USAR O VERSO DA FOLHA.

3. LEIA AS SÍLABAS ABAIXO E ESCREVA O NOME DOS NUMERAIS.

DE	DO	NO	IS	DEZ	ZE
VE	ZES	TO	ZOI	SE	TE

2				
10				
12				
16				
17				
18				
19				

ENCONTRE NO DIAGRAMA PALAVRAS INICIADAS COM A LETRA **D**.



DADO


DEDO

DIA

DIDI

DÓI

DICA



SEJA CRIATIVO COM AJUDA DE SUA FAMÍLIA FAÇA UM DESENHO ALGUMA COISA QUE TENHA A LETRA D.

USE O VERSO DA FOLHA.



ESCOLA MUNICIPAL LAURO LUIZ
Anos Iniciais do Ensino Fundamental
Rua Treze de Maio, nº 311 Fone: (45) 3233-1222
Email: escolalauro Luiz@hotmail.com
CAMPO BONITO CEP: 85.450-000 PARANÁ


ALUNO (A): _____

PROFESSOR (A): _____ DATA: _____

MATEMÁTICA

PINTE O DESENHO CONFORME A LEGENDA:

• RESULTADO 4 - MARROM	• RESULTADO 6 - AZUL
• RESULTADO 5 - AMARELO	• RESULTADO 2 - ROSA
• RESULTADO 3 - VERDE	• RESULTADO 7 - VERMELHO



PROBLEMAS DE SUBTRAÇÃO

I. RESOLVA OS PROBLEMAS:

A) HAVIA 9 MENINAS NA SALA. SAÍRAM 3. QUANTAS FICARAM?

DESENHO	OPERAÇÃO					
	<table border="1"><tr><td data-bbox="922 568 1031 680"></td><td data-bbox="1031 568 1134 680">-</td><td data-bbox="1134 568 1238 680"></td><td data-bbox="1238 568 1342 680">=</td><td data-bbox="1342 568 1450 680"></td></tr></table>		-		=	
	-		=			

RESPOSTA: FICARAM _____ MENINAS.

B) JOANA TINHA 7 PIRULITOS. CHUPOU 5. COM QUANTOS PIRULITOS FICOU?

DESENHO	OPERAÇÃO					
	<table border="1"><tr><td data-bbox="916 1061 1024 1173"></td><td data-bbox="1024 1061 1128 1173">-</td><td data-bbox="1128 1061 1232 1173"></td><td data-bbox="1232 1061 1335 1173">=</td><td data-bbox="1335 1061 1444 1173"></td></tr></table>		-		=	
	-		=			

RESPOSTA: JOANA FICOU COM _____ PIRULITOS.

C) PEDRO TINHA 6 BALÕES. ESTOURARAM 4. COM QUANTOS BALÕES PEDRO FICOU?

DESENHO	OPERAÇÃO					
	<table border="1"><tr><td data-bbox="911 1556 1019 1668"></td><td data-bbox="1019 1556 1123 1668">-</td><td data-bbox="1123 1556 1227 1668"></td><td data-bbox="1227 1556 1331 1668">=</td><td data-bbox="1331 1556 1439 1668"></td></tr></table>		-		=	
	-		=			

RESPOSTA: PEDRO FICOU COM _____ BALÕES.

D) HAVIA 8 BORBOLETAS NO JARDIM. VOARAM 5. QUANTAS BORBOLETAS FICARAM NO JARDIM?

DESENHO	OPERAÇÃO					
	<table border="1"><tr><td data-bbox="895 477 999 577"></td><td data-bbox="999 477 1102 577">-</td><td data-bbox="1102 477 1206 577"></td><td data-bbox="1206 477 1310 577">=</td><td data-bbox="1310 477 1414 577"></td></tr></table>		-		=	
	-		=			

RESPOSTA: FICARAM _____ BORBOLETAS NO JARDIM.

E) NA ROSEIRA HAVIA 7 FLORES. BRUNA COLHEU 4. QUANTAS FLORES FICARAM?

DESENHO	OPERAÇÃO					
	<table border="1"><tr><td data-bbox="895 1021 999 1122"></td><td data-bbox="999 1021 1102 1122">-</td><td data-bbox="1102 1021 1206 1122"></td><td data-bbox="1206 1021 1310 1122">=</td><td data-bbox="1310 1021 1414 1122"></td></tr></table>		-		=	
	-		=			

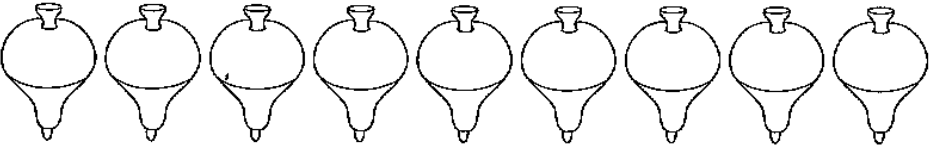
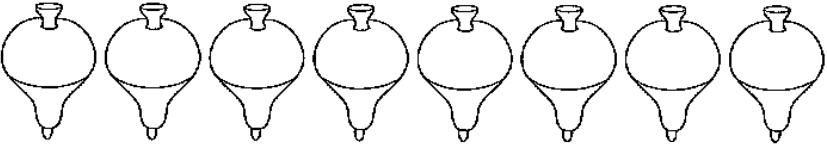
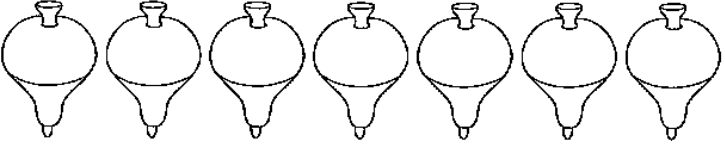
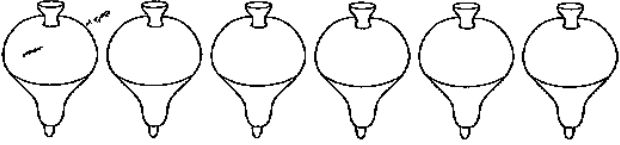
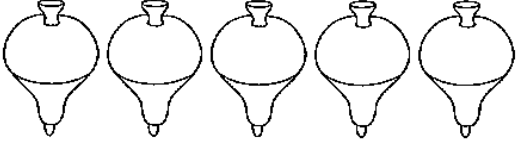
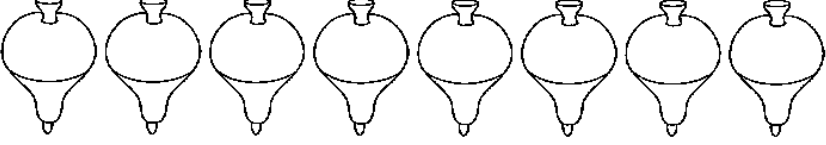
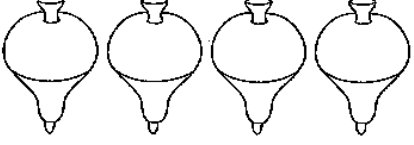
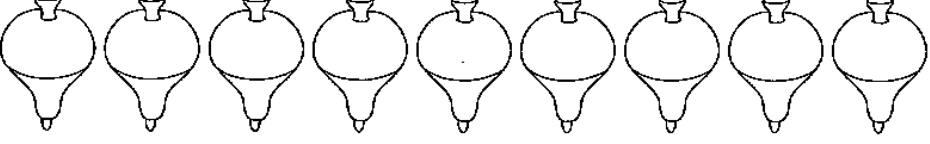
RESPOSTA: FICARAM _____ FLORES.

F) GABRIEL TEM UMA COLEÇÃO DE 8 CARRINHOS. DEU 5 PARA SEU PRIMO. COM QUANTOS CARRINHOS FICOU?









DESENHO	OPERAÇÃO					
	<table border="1"><tr><td data-bbox="895 1559 999 1659"></td><td data-bbox="999 1559 1102 1659">-</td><td data-bbox="1102 1559 1206 1659"></td><td data-bbox="1206 1559 1310 1659">=</td><td data-bbox="1310 1559 1414 1659"></td></tr></table>		-		=	
	-		=			

RESPOSTA: GABRIEL FICOU COM _____ CARRINHOS.


2. RESOLVA AS SUBTRAÇÕES:

	$9 - 3 = \dots\dots\dots$
	$8 - 2 = \dots\dots\dots$
	$7 - 4 = \dots\dots\dots$
	$6 - 3 = \dots\dots\dots$
	$5 - 2 = \dots\dots\dots$
	$8 - 5 = \dots\dots\dots$
	$4 - 2 = \dots\dots\dots$
	$9 - 7 = \dots\dots\dots$

.. OBSERVE OS DESENHOS E ARME AS OPERAÇÕES:


ERAM	SAÍRAM	OPERAÇÃO VERTICAL
		$ \begin{array}{r} 6 \\ \dots\dots\dots \\ - 2 \\ \hline \dots\dots\dots \end{array} $
		$ \begin{array}{r} \dots\dots\dots \\ - \\ \hline \dots\dots\dots \end{array} $
		$ \begin{array}{r} \dots\dots\dots \\ - \\ \hline \dots\dots\dots \end{array} $
		$ \begin{array}{r} \dots\dots\dots \\ - \\ \hline \dots\dots\dots \end{array} $

3. OS LÁPIS ESTÃO ORGANIZADOS EM GRUPOS DE 10. REPRESENTE NO Q.V.L COM DESENHOS E NÚMEROS:




DEZENAS	UNIDADES

DEZENAS	UNIDADES




DEZENAS	UNIDADES

DEZENAS	UNIDADES




DEZENAS	UNIDADES

DEZENAS	UNIDADES




DEZENAS	UNIDADES

DEZENAS	UNIDADES



DEZENAS	UNIDADES






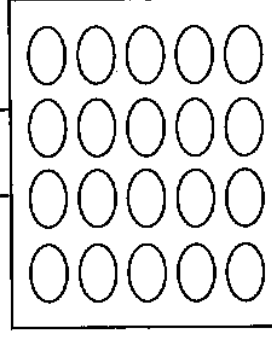
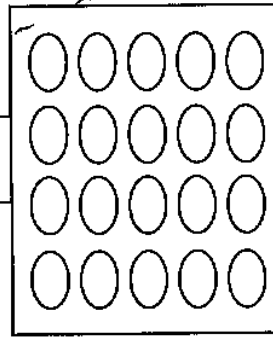
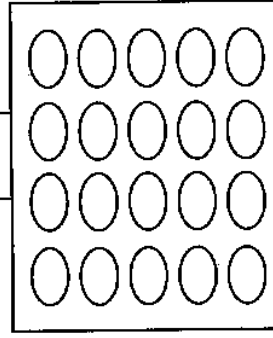
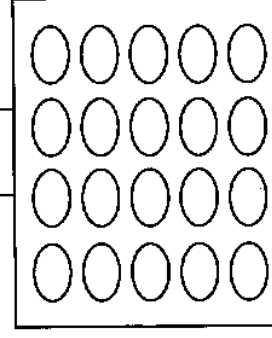


DEZENAS	UNIDADES



DEZENAS	UNIDADES

DEZENAS	UNIDADES

. PINTE CONFORME O NÚMERO PEDIDO:

11		15		12	
16		13		18	
14		10		17	
20		19			





ESCOLA MUNICIPAL LAURO LUIZ

Anos Iniciais do Ensino Fundamental
Rua Treze de Maio, nº 311 Fone: (45) 3233-1222
Email: escolalauro Luiz@hotmail.com
CAMPO BONITO CEP: 85.450-000 PARANÁ

TURMA 1º ANO – ATIVIDADES REMOTAS

ALUNO (A): _____

PROFESSOR(A): _____ DATA ____/____/____

HISTÓRIA

ATIVIDADE 01

TODAS AS PESSOAS PRECISAM TER DOCUMENTOS. ELES TRAZEM INFORMAÇÕES

IMPORTANTES SOBRE NÓS E PERMITEM QUE SEJAMOS IDENTIFICADOS COMO CIDADÃOS. EXISTEM DIFERENTES TIPOS DE DOCUMENTOS PESSOAIS, POR EXEMPLO: CERTIDÃO DE NASCIMENTO, CARTEIRA DE VACINAÇÃO ETC. CADA UM DELES

TRAZ INFORMAÇÕES ESPECÍFICAS PARA NOSSA CIDADANIA.

- a) COM AJUDA DE UM ADULTO PESQUISE QUAIS SÃO OS DOCUMENTOS QUE VOCÊ

POSSUI E PINTE DE VERMELHO O ESPAÇO QUE ESTÁ ESCRITO O NOME.

CERTIDÃO DE NASCIMENTO

CARTEIRA DE VACINA

CARTEIRA DE IDENTIDADE - RG

CADASTRO DE PESSOA FÍSICA - CPF

TÍTULO DE ELEITOR

CARTEIRA NACIONAL DE HABILITAÇÃO

- b) AGORA ESCREVA O NOME DOS DOCUMENTOS CITADOS ACIMA QUE VOCÊ AINDA NÃO TEM.

TURMA 1º ANO – ATIVIDADES REMOTAS

ALUNO (A): _____
PROFESSOR(A): _____ DATA ____/____/____

HISTÓRIA

ATIVIDADE 02

AGORA QUE VOCÊ JÁ CONHECE SEUS DOCUMENTO, CONVIDE ALGUÉM DA SUA FAMÍLIA

PARA AJUDAR PREENCHER SEUS DADOS NA CERTIDÃO DE NASCIMENTO



REGISTRO CIVIL DAS PESSOAS NATURAIS

NOME:

MATRÍCULA:

999999 99 99 9999 9 99999 999 99999999 99

CERTIDÃO DE NASCIMENTO

DATA DE NASCIMENTO POR EXTENSO

DIA

MÊS

ANO

HORA MUNICÍPIO DE NASCIMENTO E UNIDADE DA FEDERAÇÃO

MUNICÍPIO DE REGISTRO E UNIDADE DA FEDERAÇÃO

LOCAL DE NASCIMENTO

SEXO

FILIAÇÃO

AVÓS

GÊMEO

NOME E MATRÍCULA DO(S) GÊMEO(S)

DATA DO REGISTRO POR EXTENSO

NÚMERO DA DECLARAÇÃO DE NASCIDO VIVO

OBSERVAÇÕES / AVERBAÇÕES

NOME DO OFÍCIO
OFICIAL REGISTRADOR
MUNICÍPIO/UF
ENDEREÇO

Data e local:

Assinatura do Oficial

O conteúdo da certidão é verdadeiro. Dou fé



ESCOLA MUNICIPAL LAURO LUIZ

Anos Iniciais do Ensino Fundamental
Rua Treze de Maio, nº 311 Fone: (45) 3233-1222
Email: escolalauro Luiz@hotmail.com
CAMPO BONITO CEP: 85.450-000 PARANÁ

TURMA 1º ANO – ATIVIDADES REMOTAS

ALUNO (A): _____
PROFESSOR(A): _____ DATA ___ / ___ / ___

GEOGRAFIA

ATIVIDADE 01

01) PESQUISE E PREENCHA AS INFORMAÇÕES SOBRE SUA ESCOLA:

O NOME DA MINHA ESCOLA É?

O ENDEREÇO DELA É?

02) ASSINALE COM UM CÍRCULO A PALAVRA QUE CORRESPONDE A RESPOSTA CORRETA:

a) ESTUDO NUMA ESCOLA?

PÚBLICA
PARTICULAR.

b) MINHA ESCOLA ?

GRANDE
PEQUENA

c) ESTUDO NO HORÁRIO DA?

MANHÃ
TARDE

TURMA 1º ANO – ATIVIDADES REMOTAS

ALUNO (A): _____


PROFESSOR(A): _____ DATA ___ / ___ / ___

GEOGRAFIA

ATIVIDADE 02

COM AJUDA DA SUA FAMÍLIA, FAÇA A LEITURA DAS PALAVRAS NO RETÂNGULO E ESCREVA OS NOMES DESTES OBJETOS QUE ENCONTRAMOS NA SALA DE AULA:

JANELA – ARMÁRIO – LIXEIRA – CADEIRA – QUADRO MURAL – PORTA – MESA - CARTEIRA





ESCOLA MUNICIPAL LAURO LUIZ

Anos Iniciais do Ensino Fundamental
Rua Treze de Maio, nº 311 Fone: (45) 3233-1222
Email: escolalauro Luiz@hotmail.com
CAMPO BONITO CEP: 85.450-000 PARANÁ

ALUNO (A): _____

PROFESSOR (A): _____ DATA: _____

CIÊNCIAS 1º ANO – ATIVIDADES 5,6 – 4ª QUINZENA

SAÚDE É O QUE INTERESSA!

PARA A SAÚDE PRESERVAR
DE TODO O CORPO, VOU CUIDAR
COMEÇANDO PELOS DENTES
DO CABELO AO CALCANHAR!



ISABEL CRISTINA S. SOARES

COMPLETE COM AS LETRAS FALTOSAS E
COLOQUE O NÚMERO DE LETRAS.

D N T



 S C V



S B N T



T L H



6) DESENHE OU RECORTE FIGURAS DE OUTROS ITENS QUE VOCÊ USA PARA SUA HIGIENE PESSOAL (PODE USAR O VERSO DA FOLHA):

ARTE 1º ANO – ATIVIDADES 4 – 3ª QUINZENA



ESCOLA MUNICIPAL LAURO LUIZ

Anos Iniciais do Ensino Fundamental
Rua Treze de Maio, nº 311 Fone: (45) 3233-1222
Email: escolalauroluiz@hotmail.com
CEP: 85.450-000 PARANÁ

TURMA 1º ANO – ATIVIDADES REMOTAS

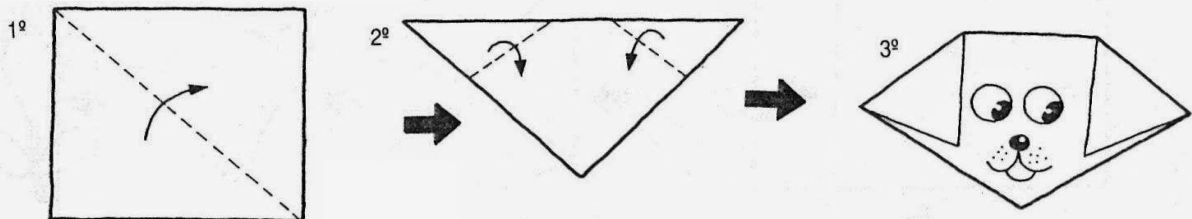
ARTES

ALUNO (A): _____

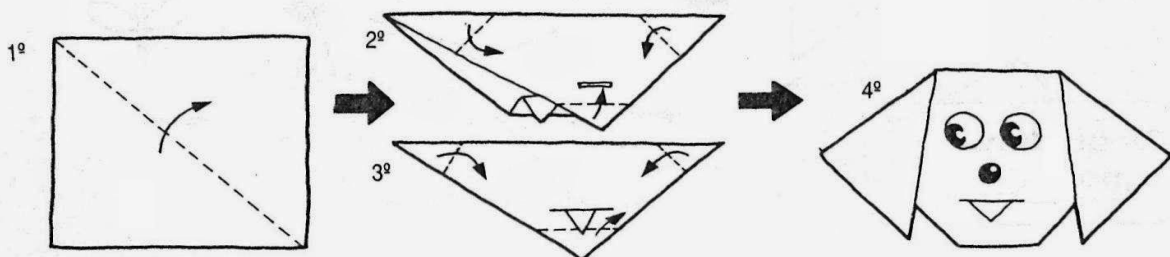
PROFESSOR: _____

4) COM A AJUDA DE UM ADULTO USE A FOLHA EM BRANCO PARA CONSTRUIR AS CABEÇAS DE CACHORROS FAZENDO DOBRADURA. MEIA FOLHA PARA CADA CABEÇA, NÃO SE ESQUEÇA DE COLORIR E MANDAR UMA FOTO NO GRUPO (NÃO PRECISA DEVOLVER).

Cabeça de cachorrinho



Cachorrinho com a língua para fora.



OBSERVAÇÃO:

VOCÊ VAI INICIAR SUA DOBRADURA A PARTIR DE UM QUADRADO, SEGUINDO OS PASSOS ACIMA.



ESCOLA MUNICIPAL LAURO LUIZ

Anos Iniciais do Ensino Fundamental
Rua Treze de Maio, nº 311 Fone: (45) 3233-1222
Email: escolalauroluiz@hotmail.com

CAMPO BONITO

CEP: 85.450-000

PARANÁ

TURMA 1º ANO – ATIVIDADES REMOTAS

ALUNO (A): _____

PROFESSOR: _____

EDUCAÇÃO FÍSICA

GINÁSTICA

Para essa atividade não serão necessários materiais, pois o aluno usará somente o próprio corpo para realizar a atividade. Mostre as imagens a seguir para a criança e peça que ela imite a figura

