



ESCOLA MUNICIPAL LAURO LUIZ

Anos Iniciais do Ensino Fundamental
Rua Treze de Maio, nº 311 Fone: (45) 3233-1222
Email: escolalauro Luiz@hotmail.com
CAMPO BONITO CEP: 85.450-000 PARANÁ

1º ANO - ATIVIDADES REMOTAS 13º QUINZENA (23/10 a 06/11).

LÍNGUA PORTUGUESA.

ALUNO (A): _____

PROFESSOR (A): _____ DATA: _____

FAMÍLIA SILÁBICA

FORME AS SÍLABAS CORRETAMENTE:

A

E

I

O

U

COMPLETE AS PALAVRAS COM A LETRA Z:



____ IRALDO



____ UMBI



____ EBRA



____ ORRO



____ AZÁ

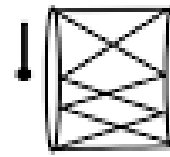
COMPLETE COM O SOM INICIAL ZA, ZE, ZI, ZO E ZU:



__NGÃO



__NGADO

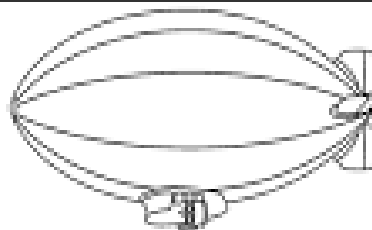


__BUMBA

ZA



__RO



__PELIM



__BRA

ZE



__RALDO




__PER




__CO

ZI



__NA URBANA



__OLÓGICO



__RRO


ZO



__MBI



__ZU



__LEICA

ZU



ESCOLA MUNICIPAL LAURO LUIZ

Anos Iniciais do Ensino Fundamental
Rua Treze de Maio, nº 311 Fone: (45) 3233-1222
Email: escolalauro Luiz@hotmail.com
CAMPO BONITO CEP: 85.450-000 PARANÁ

1º ANO - ATIVIDADES REMOTA 13ª QUINZENA (23/10 A 06/11/2020)

MATEMÁTICA

ALUNO (A): _____

PROFESSOR (A): _____

➤ GRANDEZAS E MEDIDAS NO DIA A DIA

COMPRIENTO, CAPACIDADE, TEMPERATURA, MASSA ("PESO")
E TEMPO SÃO EXEMPLOS DE **GRANDEZAS**.

1 CABELO, CABELO MEU

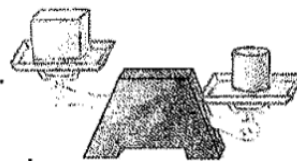
A) QUEM TEM O CABELO MAIS COMPRIDO? MARQUE UM X.



B) COMPLETE: NESTA ATIVIDADE A GRANDEZA É

2 CAIXAS E MAIS CAIXAS

A) CONTORNE A CAIXA MAIS LEVE NESTA BALANÇA.



B) COMPLETE: AQUI A GRANDEZA É

3 DIFERENTES RELÓGIOS

A) QUE HORÁRIO ESTES RELÓGIOS ESTÃO MARCANDO? HORAS.



RELÓGIO DE
PONTEIROS.



RELÓGIO
DIGITAL.

AS IMAGENS NÃO ESTÃO
REPRESENTADAS EM PROPORÇÃO...

B) COMPLETE: NESTA ATIVIDADE TEMOS A GRANDEZA

INSTRUMENTOS DE MEDIDAS

PARA MEDIR AS GRANDEZAS USAMOS DIFERENTES INSTRUMENTOS.

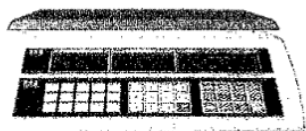
A) LIGUE CADA INSTRUMENTO À GRANDEZA QUE ELE MEDE.

AS IMAGENS NÃO ESTÃO REPRESENTADAS EM PROPORÇÃO...



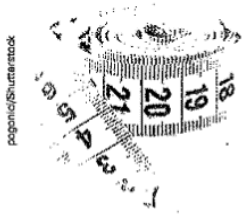
RELÓGIO.

• MEDE O COMPRIMENTO.



BALANÇA.

• MEDE A TEMPERATURA.



FITA MÉTRICA.

• MEDE A MASSA ("PESO").




TERMÔMETRO.

• MEDE O TEMPO.

MEDIDA DE COMPRIMENTO

ATIVIDADE ORAL EM GRUPO (TODA A TURMA) OLHE SÓ! HUMBERTO, XAVECO E CEBOLINHA ESTÃO TOMANDO CHUVA, MAS CASÇÃO E ANJINHO NÃO. POR QUÊ? CONVERSE COM OS COLEGAS.

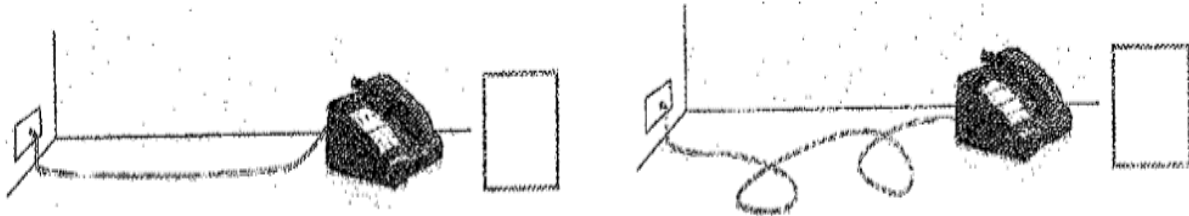


MAURICIO DE SOUSA. CAPA DO ALMANAQUE DO CASÇÃO, N. 5, 2007.

OBSERVE AS PERNAS DE PAU DOS PERSONAGENS DA ATIVIDADE ANTERIOR E RESPONDA.

- A) QUAL PERSONAGEM ESTÁ USANDO AS PERNAS DE PAU MAIS COMPRIDAS?
- B) QUANTOS PERSONAGENS TÊM PERNAS DE PAU DE MESMA MEDIDA DE COMPRIMENTO? PERSONAGENS.
- C) ESSES PERSONAGENS ESTÃO ACIMA OU ABAIXO DAS NUVENS?
- D) QUEM ESTÁ ACIMA DAS NUVENS?
- E) E QUEM ESTÁ ABAIXO?

OBSERVE AS IMAGENS COM ATENÇÃO. MARQUE UM X NO QUADRINHO DA IMAGEM EM QUE O FIO É MAIS COMPRIDO.



RUI QUER PEGAR SUA BOLA E GUARDÁ-LA NA CAIXA. ELE PRECISA DAR 5 PASSOS PARA A FRENTE PARA CHEGAR ATÉ A BOLA.

A) DESENHE ONDE ESTÁ A BOLA.

AS IMAGENS NÃO ESTÃO REPRESENTADAS EM PROPORÇÃO...



Gr. de Cera/Arquivo da Editora

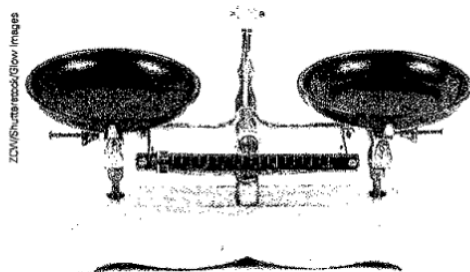
B) RUI CHEGOU ATÉ A BOLA. E AGORA, QUANTOS PASSOS FALTAM PARA ELE CHEGAR ATÉ A CAIXA? PASSOS.

C) QUANTOS PASSOS RUI PRECISA ANDAR SE ELE FOR ATÉ A CAIXA E VOLTAR?


R: _____

MEDIDAS DE MASSA. (QUILOGRAMA)

2 COM AS BALANÇAS MEDIMOS A MASSA DE OBJETOS. VEJA 2 TIPOS DE BALANÇA.




BALANÇA MECÂNICA.




BALANÇA DIGITAL.

MARQUE UM X NO QUADRINHO DO QUE, EM GERAL, COMPRAMOS DE ACORDO COM A MEDIDA DA MASSA OU O "PESO".

AS IMAGENS NÃO ESTÃO REPRESENTADAS EM PROPORÇÃO.



ALFACE.



ARROZ.



CHUCHU.



FARINHA.




CARNE.



LEITE.



TOMATE.



LIVRO.



PÃO.



ESCOLA MUNICIPAL LAURO LUIZ

Anos Iniciais do Ensino Fundamental
Rua Treze de Maio, nº 311 Fone: (45) 3233-1222
Email: escolalauro Luiz@hotmail.com
CAMPO BONITO CEP: 85.450-000 PARANÁ

1º ANO - ATIVIDADES REMOTAS 13º QUINZENA (23/10 a 06/11).

GEOGRAFIA




ALUNO (A): _____
PROFESSOR (A): _____ DATA: _____

MEIOS DE TRANSPORTES

OS MEIOS DE TRANSPORTE SÃO FUNDAMENTAIS PARA O DESLOCAMENTO E TRANSPORTE DE PESSOAS, ANIMAIS, ALIMENTOS E OBJETOS EM GERAL.

SÃO CONSIDERADOS FACILITADORES EM NOSSA VIDA, SENDO PRATICAMENTE IMPOSSÍVEL NOS IMAGINAR SEM ELES.

OS MEIOS DE TRANSPORTE SÃO CONHECIDOS COMO TERRESTRES, AÉREOS E AQUÁTICOS.

TRANSPORTES TERRESTRES	TRANSPORTES AÉREOS	TRANSPORTES AQUÁTICOS
<p>SÃO AQUELES QUE SE DESLOCAM EM RUAS, AVENIDAS E RODOVIAS, COMO CARROS, ÔNIBUS, MOTOS ETC. O TREM TAMBÉM É CONSIDERADO UM TRANSPORTE TERRESTRE, POIS SE MOVIMENTA SOBRE OS TRILHOS.</p> 	<p>SÃO AQUELES QUE SE MOVIMENTAM PELO AR E ALCANÇAM VELOCIDADES ALTÍSSIMAS, COMPARADOS AOS TRANSPORTES TERRESTRES. SÃO EXEMPLOS OS AVIÕES E OS HELICÓPTEROS.</p> 	<p>SÃO AQUELES QUE SE DESLOCAM PELOS RIOS, MARES, LAGOS ETC., OU SEJA, SE MOVIMENTAM PELA ÁGUA. SÃO ELES: NAVIOS, BARCOS, CANOAS ETC.</p> 

AGORA QUE VOCÊ JÁ APRENDEU A DIFERENÇA ENTRE OS TRANSPORTES, ESCREVA OS NOMES DOS TRANSPORTES QUE VOCÊ CONHECE E UTILIZA.

a) TRANSPORTE QUE VOCÊ CONHECE.

b) TRANSPORTE QUE VOCÊ UTILIZA.



ESCOLA MUNICIPAL LAURO LUIZ

Anos Iniciais do Ensino Fundamental
Rua Treze de Maio, nº 311 Fone: (45) 3233-1222
Email: escolalauro Luiz@hotmail.com
CAMPO BONITO CEP: 85.450-000 PARANÁ

1º ANO - ATIVIDADES REMOTAS 13º QUINZENA (23/10 a 06/11).

HISTÓRIA

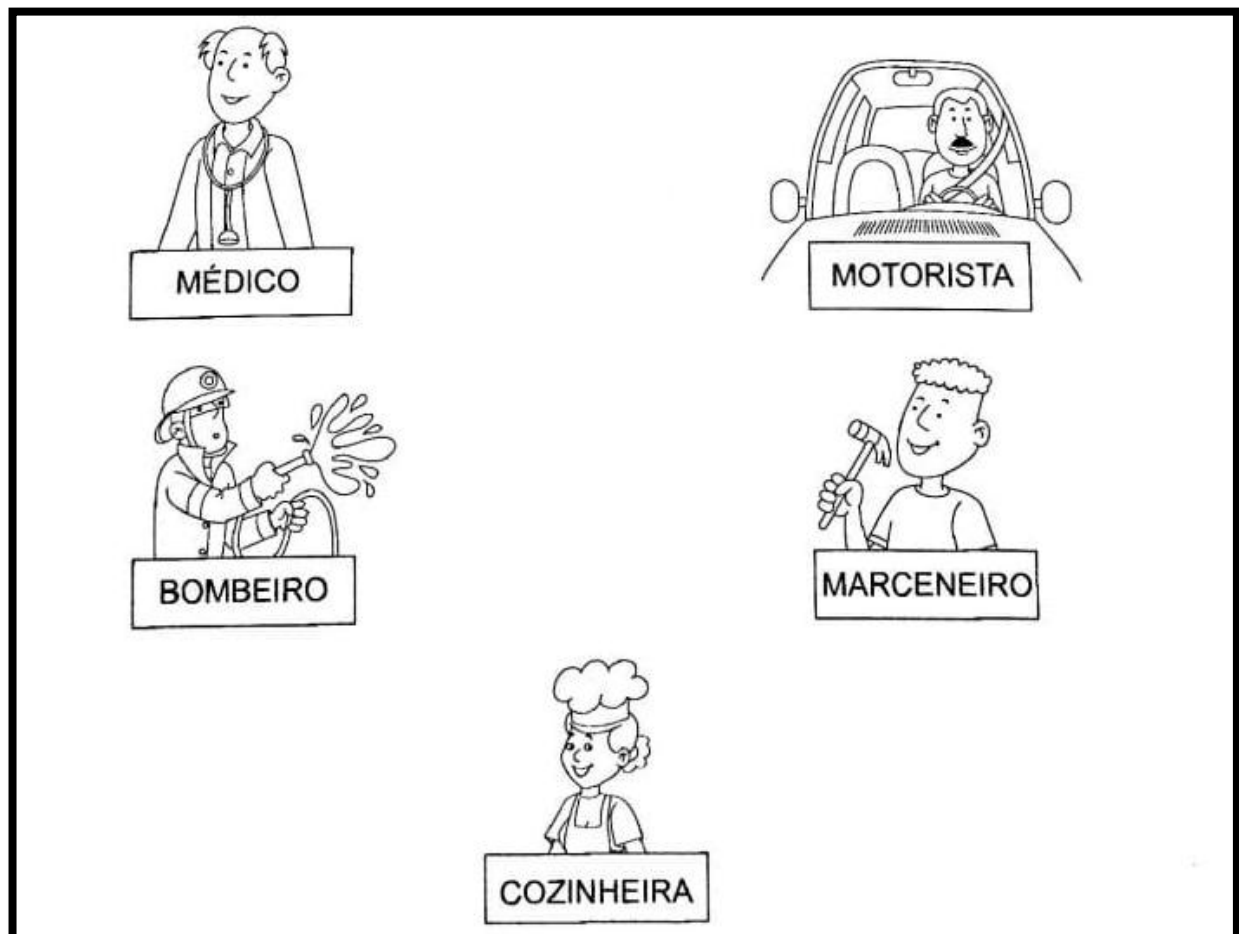
ALUNO (A): _____

PROFESSOR (A): _____ DATA: _____

CONVIDE ALGUÉM DA SUA FÁMÍLIA PARA FAZER A LEITURA DO TEXTO E PINTE AS IMAGENS, SOBRE AS PROFISSÕES E JUNTOS CONVERSEM SOBRE A IMPORTÂNCIA DE CADA PROFISSÃO CITADA E OUTRAS QUE SEU FAMILIAR CONHEÇA.

PROFISSÕES

AS PROFISSÕES FAZEM PARTE DA VIDA DAS PESSOAS, JÁ QUE TODAS PRECISAM TRABALHAR PARA CONSEGUIR SOBREVIVER. POR ISSO, É TÃO IMPORTANTE ESTUDAR PRESTAR ATENÇÃO NAS REALIZAÇÕES DAS TAREFAS ESCOLARES, SER UM BOM ALUNO, PARA QUE AO LONGO DOS ANOS VOCÊ TENHA CONHECIMENTOS FUNDAMENTAIS PARA SER UM BOM PROFISSIONAL. TODAS AS PROFISSÕES SÃO IMPORTANTES, UMA COMPLETA A OUTRA E FAZEM AS PESSOAS TEREM UMA MELHOR CONDIÇÃO DE VIDA.





ESCOLA MUNICIPAL LAURO LUIZ

Anos Iniciais do Ensino Fundamental
Rua Treze de Maio, nº 311 Fone: (45) 3233-1222
Email: escolalauro Luiz@hotmail.com
CAMPO BONITO CEP: 85.450-000 PARANÁ

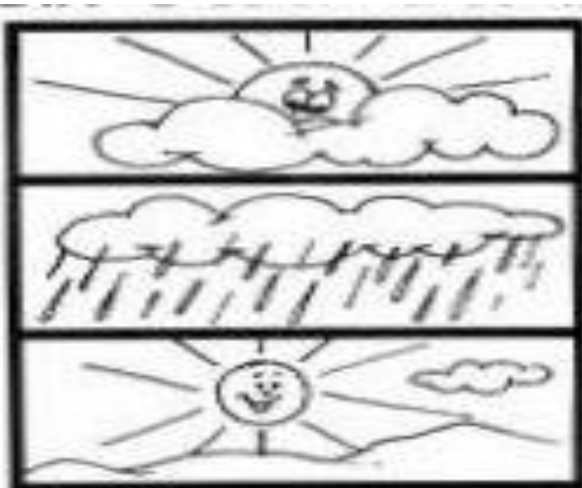

1º ANO - ATIVIDADES REMOTAS 13º QUINZENA (23/10 a 06/11).

CIÊNCIAS

ALUNO (A): _____

PROFESSOR (A): _____ DATA: _____

VEJA AS CENAS E COLOQUE O NÚMERO 1 QUANDO FOR DIA E O NÚMERO 2 QUANDO FOR NOITE NOS CIRCULOS:



PINTE A CENA DE COMO ESTÁ O DIA
HOJE E ESCREVA UMA FRASE:



ESCOLA MUNICIPAL LAURO LUIZ

Anos Iniciais do Ensino Fundamental
Rua Treze de Maio, nº 311 Fone: (45) 3233-1222
Email: escolalauro Luiz@hotmail.com
CAMPO BONITO CEP: 86.450-000 PARANÁ

1º ANO - ATIVIDADES REMOTAS 13º QUINZENA (23/10 a 06/11).

ARTE

ALUNO (A): _____

PROFESSOR (A): _____ DATA: _____

VOCÊ JÁ OUVIU A CANTIGA A CASINHA DA VOVÓ VAMOS CANTA – LÀ?

A CASINHA DA VOVÓ
É CERCADINHA DE CIPÓ.
O CAFÉ ESTÁ DEMORANDO,
COM CERTEZA NÃO TEM PÓ.



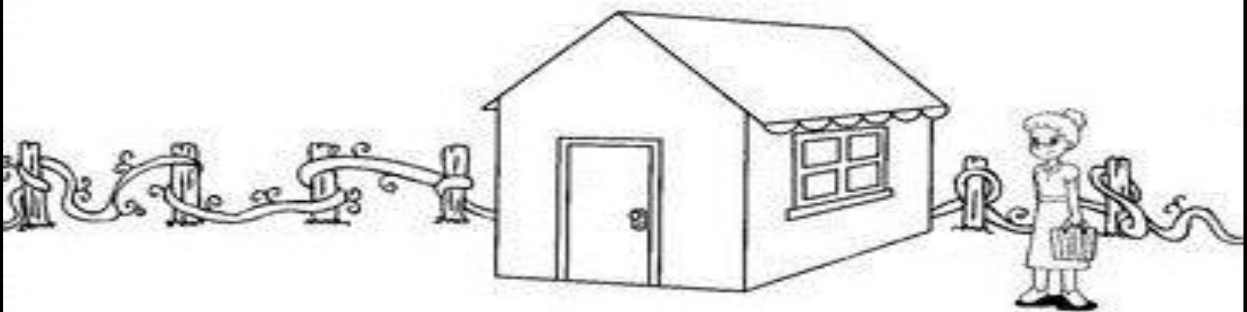
(Música: A barata diz que tem – Faixa 39 do CD)

Adaptação: Rogéria Araújo

RÁ, RÁ, RÁ, RÓ, RÓ, RÓ
ONDE ESTÁ A VOVÓ?
RÁ, RÁ, RÁ, RÓ, RÓ, RÓ
ELA FOI BUSCAR O PÓ.

 PINT E RECORTE AS FIGURAS ABAIXO, DEPOIS COLE-AS ONDE SE PEDE:

- AS FLORES NA FRENTE DA CASA DA VOVÓ;
- O SOL ACIMA DA CASA.





ESCOLA MUNICIPAL LAURO LUIZ

Anos Iniciais do Ensino Fundamental
Rua Treze de Maio, nº 311 Fone: (45) 3233-1222
Email: escolalauro Luiz@hotmail.com
CAMPO BONITO CEP: 85.450-000 PARANÁ

TURMA 1º ANO – ATIVIDADES REMOTAS

ALUNO (A): _____

PROFESSOR: MAYCON

DATA: ____/____/2020

EDUCAÇÃO FÍSICA

ATIVIDADE – GOLFE DE ASSOPRO

ESSA ATIVIDADE É PARECIDA COM A ATIVIDADE “GOLFE” QUE FIZEMOS HÁ ALGUMAS SEMANAS. PARA ELA VAMOS PRECISAR 5 ARGOLAS FEITAS COM GARRAFA PET, UMA BOLINHA E UM CANUDO. DEPOIS DE ESPALHAR E FIXAR AS ARGOLAS PELO CHÃO O ALUNO DEVERÁ ASSOPRAR A BOLINHA COM O CANUDO A FIM DE FAZÊ-LA PASSAR DENTRO DAS ARGOLAS. INICIALMENTE AS ARGOLAS PODERÃO SER COLOCADAS EM LINHA RETA, EM SEGUIDA AS DEIXE ESPALHADAS EM ZIGUE-ZAGUE.

OBSERVAÇÃO: TODOS OS MATERIAIS CITADOS PODEM SER TROCADOS POR OUTROS SIMILARES