



ESCOLA MUNICIPAL LAURO LUIZ

Anos Iniciais do Ensino Fundamental
Rua Treze de Maio, nº 311 Fone: (45) 3233-1222
Email: escolalauro Luiz@hotmail.com
CAMPO BONITO CEP: 86.450-000 PARANÁ

1º ANO - ATIVIDADES REMOTAS - 9ª QUINZENA (DE 28/08 Á 11/09/2020)

LÍNGUA PORTUGUESA.

ALUNO (A): _____

PROFESSOR (A): _____ DATA: ____/____/____

UNA A LETRA **R** COM CADA VOGAL E FORME AS SÍLABAS:

A

E

I

O

U

FAMÍLIA SILÁBICA

R

COMPLETE AS PALAVRAS COM RA, RE, RI, RO OU RU:



		D	I	O
--	--	---	---	---



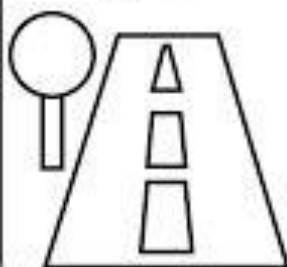
		L	Ó	G	I	O
--	--	---	---	---	---	---



		O
--	--	---



		D	O
--	--	---	---



		A
--	--	---

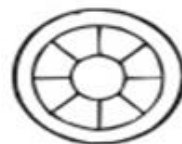
ALFABETIZAÇÃO - LETRA R

CIRCULE EM CADA QUADRO O NOME QUE CORRESPONDE AO DESENHO.



REDE REMO REI RELÓGIO

ROCA ROLA ROSA RODA



REI REMO RELÓGIO REDE

ROLO ROBÔ RODA ROMA



RÁDIO RAMO RALO RATO

ROTA ROLA ROMA RODO



ESCREVA AS PALAVRAS QUE VOCÊ CIRCULOU E SEPRE-AS EM SÍLABAS.














DITADO RECORTADO



ROBÔ

RODA

ROSA

RÉGUA

RABANETE

RELÓGIO

RENA

RÁDIO



ESCOLA MUNICIPAL LAURO LUIZ

Anos Iniciais do Ensino Fundamental
Rua Treze de Maio, nº 311 Fone: (45) 3233-1222
Email: escolalauro Luiz@hotmail.com
CAMPO BONITO CEP: 86.450-000 PARANÁ

1º ANO - ATIVIDADES REMOTAS - 9ª QUINZENA (DE 28/08 À 11/09/2020)

MATEMÁTICA.

ALUNO (A): _____

PROFESSOR (A): _____ **DATA:** ____/____/____

COM AJUDA DE SUA FAMÍLIA FAÇA A LEITURA DO TEXTO ABAIXO:

SISTEMA MONETÁRIO BRASILEIRO.

O NOSSA SISTEMA MONETÁRIO BRASILEIRO É COMPOSTO POR CÉDULAS E MOEDAS.
TEMOS CÉDULAS DE:

- 2 REAIS
- 5 REAIS
- 10 REAIS
- 20 REAIS
- 50 REAIS
- 100 REAIS

JÁ PARA AS MOEDAS OS VALORES SÃO DE:

- 1 CENTAVO
- 5 CENTAVOS
- 10 CENTAVOS
- 25 CENTAVOS
- 50 CENTAVOS
- 1 REAL

PARA QUE USAMOS O DINHEIRO?

O DINHEIRO É O MEIO USADO NA TROCA DE BENS, USAMOS NA COMPRA DE BENS, DE MANEIRA MAIS SIMPLES, USAMOS O DINHEIRO PARA COMPRAS, VENDAS E TAMBÉM PARA O PAGAMENTO DE CONTAS COMO: SUPERMERCADO, ÁGUA, LUZ, TELEFONE, INTERNET E ETC.



RECORTE AS CÉDULAS E AS MOEDAS ABAIXO, APÓS COLE NO CADERNO DE MATEMÁTICA NA ORDEM DO MENOR PARA O MAIOR VALOR. MANDE FOTO DA ATIVIDADE FEITA NO GRUPO DA TURMA. EXEMPLO:



UM CENTAVO




CINCO CENTAVOS




LIGUE O PRODUTO À MOEDA EQUIVALENTE AO SEU PREÇO.

25 centavos		
1 centavo		
5 centavos		
1 real		
10 centavos		
50 centavos		

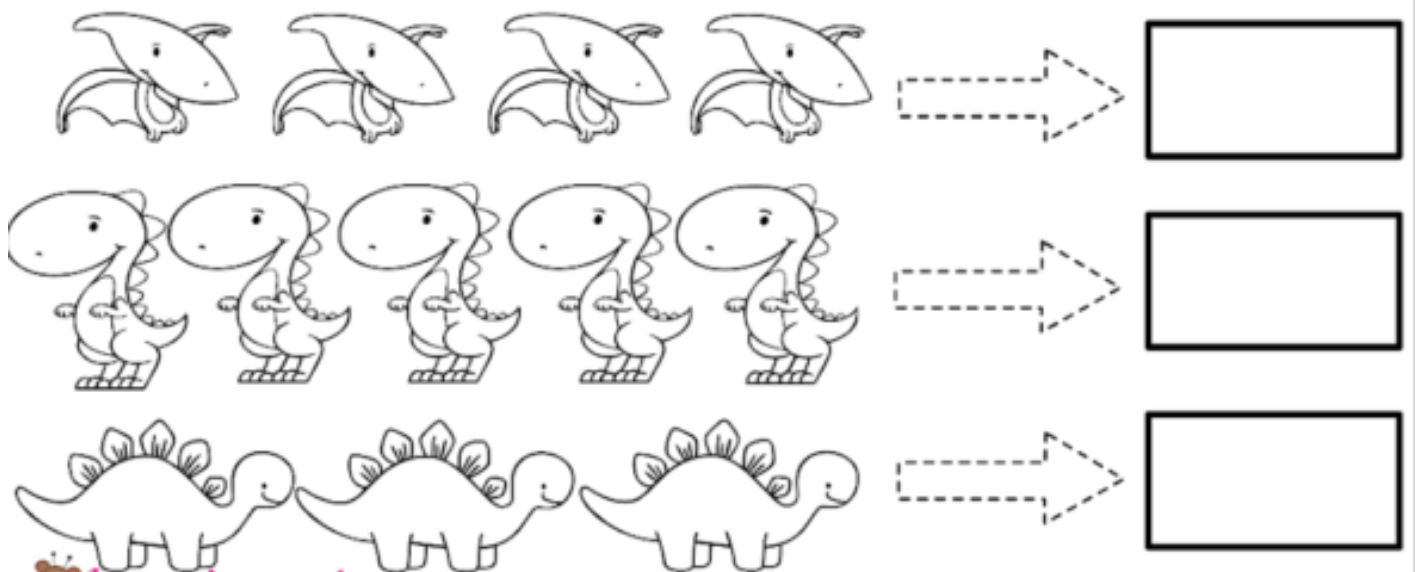
MATEMÁTICA COM OS DINOSSAUROS



1- OBSERVE A PROMOÇÃO DOS DINOSSAUROS DE COLEÇÃO NAS **LOJAS MIL**.



VEJA QUANTOS DINOSSAUROS ALICE COMPROU E COLOQUE O VALOR QUE ELA PAGOU POR CADA GRUPO.





ESCOLA MUNICIPAL LAURO LUIZ

Anos Iniciais do Ensino Fundamental
Rua Treze de Maio, nº 311 Fone: (45) 3233-1222
Email: escolalauroluiz@hotmail.com
CAMPO BONITO CEP: 86.450-000 PARANÁ

1º ANO - ATIVIDADES REMOTAS - 9ª QUINZENA (DE 28/08 À 11/09/2020)



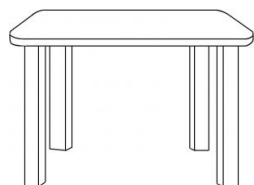

GEOGRAFIA.

ALUNO (A): _____



PROFESSOR (A): _____ **DATA:** ____/____/____

NA COLUNA DA ESQUERDA, AS FOTOS MOSTRAM OBJETOS VISTOS DO ALTO E DE LADO. NA COLUNA DA DIREITA, AS FOTOS MOSTRAM OS MESMOS OBJETOS VISTOS DE CIMA PARA BAIXO.

OBSERVANDO AS FOTOS, LIGUE CADA UMA A SUA CORRESPONDENTE E IDENTIFIQUE OS OBJETOS ESCRIVENDO O NOME DE CADA UM, NA LINHA ABAIXO.



AGORA COM AJUDA DA SUA FAMÍLIA ESCREVA QUAL É O MATERIAL QUE ESSES OBJETOS SÃO FEITOS.





ESCOLA MUNICIPAL LAURO LUIZ

Anos Iniciais do Ensino Fundamental
Rua Treze de Maio, nº 311 Fone: (45) 3233-1222
Email: escolalauroluiz@hotmail.com
CAMPO BONITO CEP: 85.450-000 PARANÁ

1º ANO - ATIVIDADES REMOTAS - 9ª QUINZENA (DE 28/08 À 11/09/2020)

HISTÓRIA.

ALUNO (A): _____

PROFESSOR (A): _____ DATA: ____/____/____

MORADIA

DIZEMOS QUE MORADIA SÃO CONSTRUÇÕES CRIADAS PELO SER HUMANO VISANDO AO CONFORTO PRÓPRIO, DE MODO QUE SE PROTEJAM DOS FENÔMENOS DA NATUREZA E PROMOVAM A SEGURANÇA PESSOAL E DE TODOS OS MEMBROS DA FAMÍLIA. NEM TODAS AS MORADIAS SÃO IGUAIS. EXISTEM DIFERENTES TIPOS DE MORADIAS, ADAPTADAS ÀS CONDIÇÕES DE VIDA DE CADA SER HUMANO.

CASAS

SÃO FEITAS COM TIJOLOS, AREIA E CIMENTO E HABITADAS POR FAMÍLIAS, GERALMENTE MAIORES, QUE NECESSITAM DE ESPAÇO PARA DESENVOLVER SUAS ATIVIDADES.




PRÉDIOS

TAMBÉM FEITOS COM TIJOLOS, AREIA E CIMENTO, SÃO CONSTRUÇÕES VERTICAIS QUE COMPORTAM UM NÚMERO MAIOR DE PESSOAS. AS MORADIAS SÃO DIVIDIDAS EM ANDARES E APARTAMENTOS.




OCAS

SÃO CONSTRUÇÕES CIRCULARES FEITAS DE MADEIRA, TAQUARA, CAPIM ETC. SÃO HABITADAS PELOS INDÍGENAS.




PALAFITAS

SÃO CASAS SUSPENSAS, CONSTRUÍDAS ACIMA DO NÍVEL DO RIO, FEITAS DE MADEIRAS, PAUS, ESTACAS.





IGLUS

SÃO CASAS FEITAS COM BLOCOS DE GELO, CONSTRUÍDAS NAS REGIÕES MAIS FRIAS.



IDENTIFIQUE OS TIPOS DE MORADIA EXISTENTES, Pinte e escreva o nome de cada uma.





ESCOLA MUNICIPAL LAURO LUIZ

Anos Iniciais do Ensino Fundamental
Rua Treze de Maio, nº 311 Fone: (45) 3233-1222
Email: escolalauro Luiz@hotmail.com
CAMPO BONITO CEP: 85.450-000 PARANÁ

1º ANO - ATIVIDADES REMOTAS - 9ª QUINZENA (DE 28/08 Á 11/09/2020)

CIÊNCIAS.

ALUNO (A): _____

PROFESSOR (A): _____ DATA: ____/____/____



A TERRA É O PLANETA EM QUE VIVEMOS.
NELA ENCONTRAMOS O MAR, AS PLANTAS, AS
PESSOAS E OS ANIMAIS.
A TERRA NÃO TEM LUZ PRÓPRIA.
ELA RECEBE A LUZ E O CALOR DO SOL.

1) QUAL É O NOME DO PLANETA EM QUE VIVEMOS?

2) RETIRE DO TEXTO E ANOTE NO CADERNO:

A) 3 PALAVRAS QUE COMEÇAM COM A LETRA **P**.

B) 3 PALAVRAS QUE TENHAM 3 LETRAS.

C) DIGA O NÚMERO DE LETRAS DESTAS PALAVRAS:

TERRA

ANIMAIS

RECEBE

CALOR



ESCOLA MUNICIPAL LAURO LUIZ

Anos Iniciais do Ensino Fundamental
Rua Treze de Maio, nº 311 Fone: (45) 3233-1222
Email: escolalauroluiz@hotmail.com
CAMPO BONITO CEP: 85.450-000 PARANÁ

1º ANO - ATIVIDADES REMOTAS - 9ª QUINZENA (DE 28/08 Á 11/09/2020)

ARTE.

ALUNO (A): _____

PROFESSOR (A): _____ DATA: ____/____/____

AQUARELA

VOCÊ CONHECE A MÚSICA “AQUARELA” DO CANTOR TOQUINHO? VAMOS OUVI- LÁ! (O LINK DA MÚSICA SERÁ ENVIADO NO GRUPO DO WHATSAPP) APÓS OUVIR A MÚSICA VAMOS ILUSTRAR TRECHOS DA MÚSICA NO ESPAÇO A BAIXO.



ESCOLA MUNICIPAL LAURO LUIZ

Anos Iniciais do Ensino Fundamental
Rua Treze de Maio, nº 311 Fone: (45) 3233-1222
Email: escolalauro Luiz@hotmail.com
CAMPO BONITO CEP: 86.450-000 PARANÁ

1º ANO - ATIVIDADES REMOTAS - 9ª QUINZENA (DE 28/08 Á 11/09/2020)

EDUCAÇÃO FÍSICA.

ALUNO (A): _____

PROFESSOR (A): _____ DATA: ____/____/____

EDUCAÇÃO FÍSICA

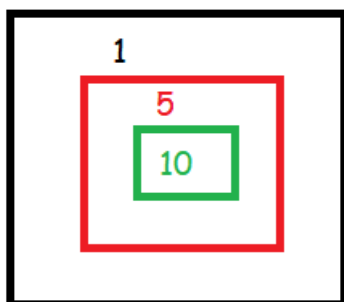
QUERIDO ALUNO JÁ SE PASSARAM ALGUNS MESES DESDE QUE AS AULAS FORAM CANCELADAS POR CAUSA DA PANDEMIA DO CORONAVÍRUS, E DE LÁ PRA CÁ JÁ FORAM ENVIADAS VÁRIAS ATIVIDADES PRA VOCÊ FAZER EM CASA. ENTÃO ME CONTE (POR ÁUDIO, VÍDEO OU POR ESCRITO NO VERSO DESSA FOLHA MESMO) COMO ESTÁ SENDO ESTUDAR EM CASA? DAS ATIVIDADES DE EDUCAÇÃO FÍSICA QUAL A MAIS DIFÍCIL E A MAIS FÁCIL?

ESTOU ANSIOSO PARA SABER SUA RESPOSTA.

ATIVIDADE 1 – TAMPINHA NO ALVO

PARA ESSA ATIVIDADE VAMOS PRECISAR DE 10 TAMPINHAS DE GARRAFA PET.

DEVERÃO SER DESENHADOS 3 QUADRADOS NO CHÃO, CONFORME O EXEMPLO ABAIXO, DISTANTE CERCA DE 3 METROS DESSES QUADRADOS TAMBÉM DEVERÁ SER TRAÇADA UMA LINHA. EM CIMA DESSA LINHA O ALUNO DEVERÁ JOGAR 5 TAMPINHAS COM O OBJETIVO DE FAZÊ-LAS PARAR DENTRO DOS QUADRADOS, SENDO QUE CADA UM TERÁ UMA PONTUAÇÃO ESPECÍFICA, CONFORME DESENHO ABAIXO. DEPOIS QUE O ALUNO JOGAR SUAS TAMPINHAS DEVERÁ FAZER A SOMA DA SUA PONTUAÇÃO E RECOLHER SUAS TAMPINHAS, EM SEGUIDA UM MEMBRO DA FAMÍLIA REPETIRÁ A ATIVIDADE, E AO FINAL DEVERÃO SER CONFRONTADOS OS RESULTADOS PARA SABER QUEM FOI O VENCEDOR.



OBSERVAÇÃO: todos os materiais citados podem ser trocados por outros similares.