



ESCOLA MUNICIPAL LAURO LUIZ

Anos Iniciais do Ensino Fundamental
Rua Treze de Maio, nº 311 Fone: (45) 3233-1222
Email: escolalauro Luiz@hotmail.com
CAMPO BONITO CEP: 85.450-000 PARANÁ

ESCOLA MUNICIPAL LAURO LUIZ

PROFESSORA _____ 1º _____

ALUNO(A): _____

ATIVIDADES AVALIATIVAS DE MATEMÁTICA. 01

Resolva as operações e depois circule o resultado ao lado.

(Pintar a figura)

$4 + 5 =$	8
	9
	7

$4 + 3 =$	6
	8
	7



$\begin{array}{r} 7 \\ + 2 \\ \hline \end{array}$	9
	7
	6

$\begin{array}{r} 3 \\ + 2 \\ \hline \end{array}$	5
	4
	3

$\begin{array}{r} 4 \\ + 2 \\ \hline \end{array}$	5
	6
	7

$\begin{array}{r} 4 \\ + 4 \\ \hline \end{array}$	9
	7
	8

$\begin{array}{r} 6 \\ + 3 \\ \hline \end{array}$	7
	8
	9

$\begin{array}{r} 2 \\ + 6 \\ \hline \end{array}$	6
	7
	8

$\begin{array}{r} 8 \\ - 5 \\ \hline \end{array}$	2
	4
	3

$\begin{array}{r} 5 \\ - 4 \\ \hline \end{array}$	0
	1
	2

$9 - 6 =$	2
	3
	4

$5 - 0 =$	0
	5
	6

$7 - 7 =$	0
	1
	2

$8 - 4 =$	4
	3
	2

$9 - 4 =$	3
	5
	4

$6 - 5 =$	0
	1
	2

PAR OU IMPAR

OBSERVE OS DESENHOS DO QUADRO E REGISTRE OS RESULTADOS.




MARCOS PAR	ALEXANDRE IMPAR	TOTAL	GANHADOR
		2	MARCOS

ESCREVA OS NÚMEROS PARES ATÉ 10.

ESCREVA OS NÚMEROS ÍMPARES ATÉ 11.

AJUDE O PALHAÇO PATATI A COLORIR AS MAÇÃS COM OS NÚMEROS PARES.



CIRCULE OS CHINELOS EM PARES E RESPONDA:





ESCOLA MUNICIPAL LAURO LUIZ

Anos Iniciais do Ensino Fundamental
Rua Treze de Maio, nº 311 Fone: (45) 3233-1222
Email: escolalauro Luiz@hotmail.com
CAMPO BONITO CEP: 85.450-000 PARANÁ

1º ANO – ATIVIDADES AVALIATIVAS DE LÍNGUA PORTUGUESA . 01

ALUNO (A) _____

PROFESSOR (A): _____ DATA: _____

LEIA AS SÍLABAS E OS NÚMEROS ABAIXO COM ATENÇÃO.

BA 1	BE 2	BI 3	BO 4	BU 5	A 6	E 7	I 8	O 9	U 10
DA 11	DE 12	DI 13	DO 14	DU 15	JA 16	JE 17	JO 18	JI 19	JU 20
MA 21	ME 22	MI 23	MO 24	MU 25	LA 26	LE 27	LI 28	LO 29	LU 30
SA 31	SE 32	SI 33	SO 34	SU 35	AI 36	OI 37	UI 38	EI 39	IA 40

FORMANDO PALAVRAS:

21 + 26 = _____ 1 + 26 = _____

4 + 37 = _____ 13 + 6 = _____

$34 + 26 =$ _____ $24 + 26 =$ _____

$4 + 26 =$ _____ $2 + 29 =$ _____

$4 + 12 =$ _____ $5 + 27 =$ _____

$4 + 1 =$ _____ $6 + 1 =$ _____

$3 + 6 =$ _____ $2 + 3 =$ _____

$4 + 6 =$ _____ $12 + 14 =$ _____

$32 + 29 =$ _____ $34 + 26 =$ _____

$4 + 8 + 6 =$ _____ $2 + 8 + 18 =$ _____

$2 + 3 + 11 =$ _____ $1 + 27 + 40 =$ _____

$35 + 6 + 14 =$ _____ $18 + 8 + 6 =$ _____

AGORA É A SUA VEZ! FORME MAIS 5 PALAVRAS.

1. COMPLETE AS FRASES COM UMA DAS PALAVRAS DO QUADRO:



A) O _____ PULA NA LAGOA.

B) MAMÃE COLOCOU OS LEGUMES NA _____.

C) SAULO TOMOU _____ DE UVA.

D) O _____ TOCOU PARA INICIAR A MISSA.

E) SAMIRA COLOU O _____ NA CARTA.

F) O _____ DE SÉRGIO ESTÁ SUJO



ESCOLA MUNICIPAL LAURO LUIZ

Anos Iniciais do Ensino Fundamental
Rua Treze de Maio, nº 311 Fone: (45) 3233-1222
Email: escolalauro Luiz@hotmail.com
CAMPO BONITO CEP: 85.450-000 PARANÁ

1º ANO – ATIVIDADES AVALIATIVAS DE GEOGRAFIA .01

ALUNO (A) _____

PROFESSOR (A): _____ DATA: _____

OBSERVE A ILUSTRAÇÃO E CONFORME AS ORIENTAÇÕES A SEGUIR, DESENHE:

- a) A MESA E AS CADEIRAS PERTO DA GELADEIRA.
- b) O FOGÃO AO LADO DA PIA.
- c) O TAPETE NA FRENTE DA PIA.
- d) A FRUTEIRA EM CIMA DA MESA.
- e) UMA LIXEIRA EMBAIXO DA JANELA.
- f) UM COPO EM CIMA DA PIA.
- g) UM BANQUINHO ENTRE O FOGÃO E A MESA.





ESCOLA MUNICIPAL LAURO LUIZ

Anos Iniciais do Ensino Fundamental
Rua Treze de Maio, nº 311 Fone: (45) 3233-1222
Email: escolalauro Luiz@hotmail.com
CAMPO BONITO CEP: 85.450-000 PARANÁ

1º ANO – ATIVIDADES AVALIATIVAS DE HISTÓRIA .01

ALUNO (A) _____

PROFESSOR (A): _____ DATA: _____

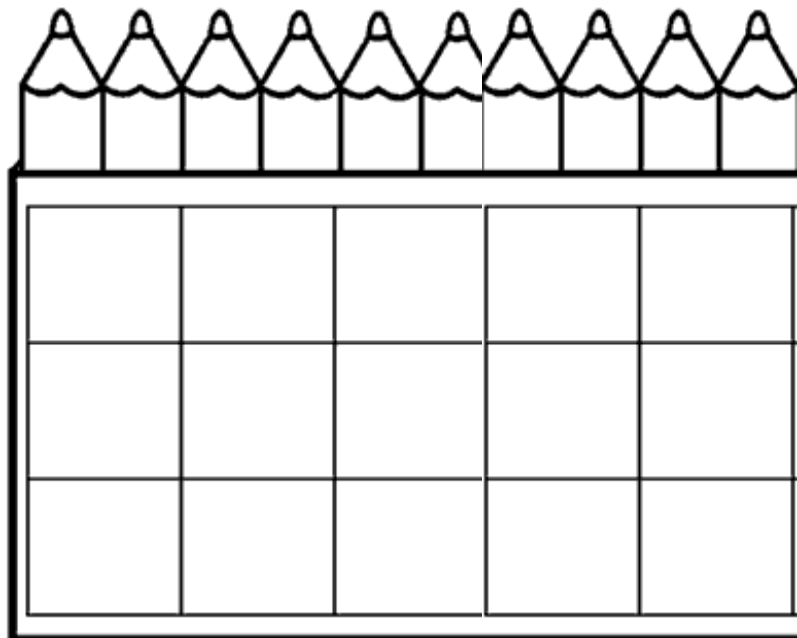
ESCREVA SEU NOME E SOBRENOME:

MEU NOME TEM LETRAS.

A PRIMEIRA LETRA É

A ÚLTIMA LETRA É

PINTE NA **PRIMEIRA** CAIXA AS LETRAS QUE FORMAM SEU NOME E NA SEGUNDA CAIXA ESCREVA AS LETRAS QUE FORAM, PINTADAS NA ORDEM DO SEU NOME:



AGORA RECORTE EM JORNAIS OU REVISTAS AS LETRAS QUE COMPÕEM O SEU NOME E COLE NA ORDEM NO ESPAÇO ABAIXO.



ESCOLA MUNICIPAL LAURO LUIZ

Anos Iniciais do Ensino Fundamental
Rua Treze de Maio, nº 311 Fone: (45) 3233-1222
Email: escolalauro Luiz@hotmail.com
CAMPO BONITO CEP: 85.450-000 PARANÁ





CIÊNCIAS 1º ANO – ATIVIDADES DE AVALIAÇÃO – 6ª QUINZENA

ALUNO: _____ 1º ANO: _____

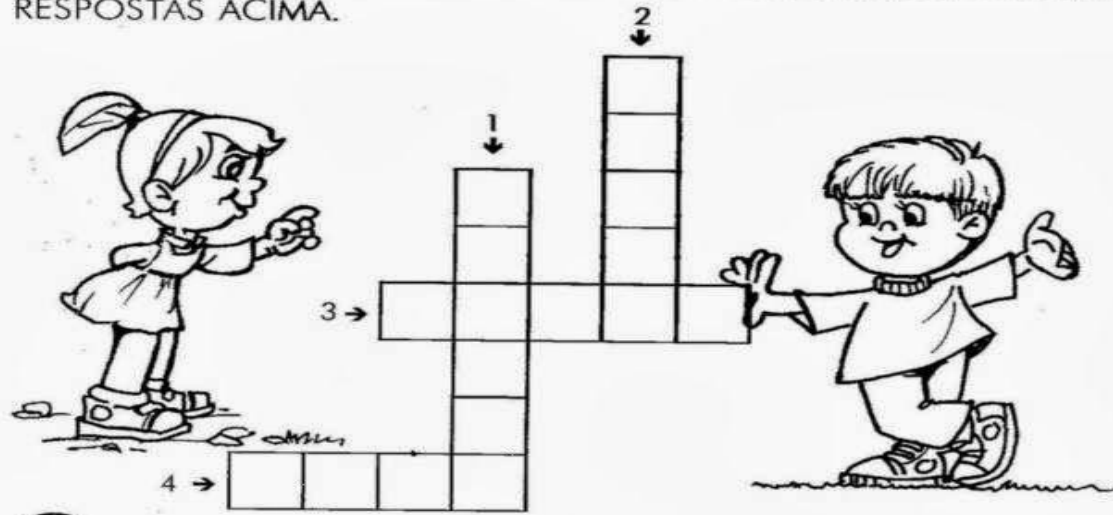
PROFESSOR (A): _____

CRUZADINHA DA HIGIENE

➤ OBSERVE OS DESENHOS ABAIXO E RESPONDA.

<p>1</p> <p>ZEZINHO ESTÁ ESCOVANDO OS:</p> <p>_____</p> 	<p>2</p> <p>PARA DORMIR DEVEMOS TROCAR DE:</p> <p>_____</p> 
<p>3</p> <p>BETE ESTÁ CORTANDO AS:</p> <p>_____</p> 	<p>4</p> <p>ANINHA VAI ALMOÇAR. ANTES ELA PRECISA LAVAR AS:</p> <p>_____</p> 

➤ AGORA, PREENCHA A CRUZADINHA DE ACORDO COM AS RESPOSTAS ACIMA.



COM RECORTE OU DESENHOS REPRESENTE 4 CUIDADOS QUE DEVEMOS TER PARA EVITAR O CONTÁGIO COM O COVID 19

(PODE USAR O VERSO DA FOLHA)



ESCOLA MUNICIPAL LAURO LUIZ


Anos Iniciais do Ensino Fundamental
Rua Treze de Maio, nº 311 Fone: (45) 3233-1222
Email: escolalauro Luiz@hotmail.com
CAMPO BONITO CEP: 85.450-000 PARANÁ

ARTE 1º ANO – AVALIAÇÃO – 6ª QUINZENA

ALUNO: _____ 1º ANO: _____

PROFESSORA: _____

USANDO AS CORES PRIMÁRIAS PREENCHA O DESENHO DA MANDALA COM LINHAS (VOU POSTAR NO GRUPO DO WHATS UM MODELO).





ESCOLA MUNICIPAL LAURO LUIZ

Anos Iniciais do Ensino Fundamental
Rua Treze de Maio, nº 311 Fone: (45) 3233-1222
Email: escolalauro Luiz@hotmail.com
CAMPO BONITO CEP: 85.450-000 PARANÁ

TURMA 1º ANO –ATIVIDADES AVALIATIVAS DE EDUCAÇÃO FÍSICA -01

ALUNO (A): _____

PROFESSOR: _____ DATA: ____ / ____ 2020

QUERIDOS ALUNOS, AGORA É O MOMENTO DE REVER TODAS AS ATIVIDADES JÁ REALIZADAS DE EDUCAÇÃO FÍSICA!

SOLICITAMOS QUE NOS ENVIE NO GRUPO DO WHATSAPP FOTOS OU VÍDEOS DAS ATIVIDADES SOLICITADAS.

1) ELÁSTICO – BRINCANDO COM A FAMÍLIA.

REGIÃO SUL: ELÁSTICO

COMO BRINCAR: O PRINCIPAL ACESSÓRIO É UMA TIRA DE ELÁSTICO GRANDE (DE CERCA DE 3 METROS DE COMPRIMENTO), COM UM NÓ UNINDO AS DUAS PONTAS, E TRÊS PARTICIPANTES OU DUAS CADEIRAS. DOIS FICAM EM PÉ, UM DE FRENTE PARA O OUTRO E DISTANTES CERCA DE 2 METROS. O ELÁSTICO DEVE FICAR AO REDOR DAS PERNAS DELES, QUE PRECISAM FICAR ABERTAS PARA SEGURÁ-LO ESTICADO. UMA TERCEIRA PESSOA DEVE PULAR DENTRO DO RETÂNGULO FORMADO PELA TIRA E FAZER DESENHOS E AMARRAÇÕES COM AS PERNAS. A PRIMEIRA SEQUÊNCIA É BEM SIMPLES: A CRIANÇA SE POSICIONA AO LADO DO ELÁSTICO E DEVE PULAR COM OS DOIS PÉS JUNTOS PARA DENTRO DELE.

DEPOIS, PULA NOVAMENTE ABRINDO AS PERNAS DE MODO QUE UM PÉ CAIA PARA CADA LADO DE FORA DO ELÁSTICO. NO TERCEIRO MOVIMENTO, ELA DEVE FAZER UM GIRO DE 180º, DEIXANDO AS TIRAS SE ENROLAREM EM SEUS TORNOZELOS. POR FIM, DEVE PULAR PARA O LADO EXTERNO DO ELÁSTICO ENQUANTO GIRA O CORPO PARA SOLTAR-SE DA AMARRAÇÃO.

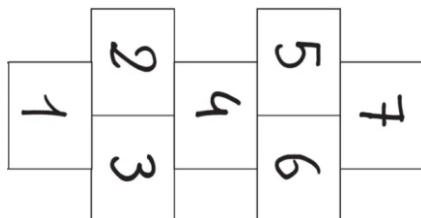
O ELÁSTICO COMEÇA RENTE AO CHÃO, MAS À MEDIDA QUE A PESSOA CONSEGUE FAZER OS MOVIMENTOS CORRETAMENTE, ELE VAI SUBINDO. ENTÃO, QUEM CONSEGUIR PULAR MAIS ALTO GANHA O JOGO.

VARIAÇÕES: OS NOMES MUDAM DEPENDENDO DO MOVIMENTO QUE SE PEDE PARA FAZER E DA REGIÃO DO PAÍS: CEBOLINHA, ESTRELINHA, VÁRIAS FASES, LARANJINHA, CASTELINHO, BIGODE, VASSOURINHA, CRUZADA DE BELÉM, ETC.

1) AMARELINHA E SUAS VARIAÇÕES – BRINCANDO COM A FAMÍLIA.

AMARELINHA TRADICIONAL.

A MAIS TRADICIONAL É AQUELA FEITA NO CHÃO COM AUXÍLIO DO GIZ OU RISCADA NO CHÃO, CONFORME OS PASSOS ABAIXO:



1. CADA JOGADOR PRECISA DE UMA PEDRINHA.
2. QUEM COMEÇAR JOGA A PEDRINHA NA CASA MARCADA COM O NÚMERO 1 E VAI PULANDO DE CASA EM CASA, PARTINDO DA CASA 2 ATÉ A ÚLTIMA CASA.
3. SÓ É PERMITIDO PÔR UM PÉ EM CADA CASA. QUANDO HÁ UMA CASA AO LADO DA OUTRA, PODE PÔR OS DOIS PÉS NO CHÃO, CADA UM EM UMA CASA.
4. QUANDO CHEGAR À ÚLTIMA CASA, O JOGADOR VIRA E VOLTA PULANDO DA MESMA MANEIRA, PEGANDO A PEDRINHA QUANDO ESTIVER NA CASA 2.
5. A MESMA PESSOA COMEÇA DE NOVO, JOGANDO A PEDRINHA NA CASA 2 E SEGUINDO AS INSTRUÇÕES ANTERIORES.
6. PERDE A VEZ QUEM:
 - PISAR NAS LINHAS DO JOGO;
 - PISAR NA CASA ONDE ESTÁ A PEDRINHA;
 - NÃO ACERTAR A PEDRINHA NA CASA ONDE ELA DEVE CAIR;
 - NÃO CONSEGUIR (OU ESQUECER) DE PEGAR A PEDRINHA NA VOLTA.
7. GANHA QUEM TERMINAR DE PULAR TODAS AS CASAS PRIMEIRO.

OBSERVAÇÃO: PODEM SER COLOCADAS MAIS CASAS.

AMARELINHA 2

SEGUINDO AS MESMAS INSTRUÇÕES DA “AMARELINHA TRADICIONAL” A CRIANÇA DEVERÁ BRINCAR DE AMARELINHA COM ALGUMAS MUDANÇAS NA DISPOSIÇÃO DAS CASAS, CONFORME O EXEMPLO AO LADO:

