



ESCOLA MUNICIPAL LAURO LUIZ

Anos Iniciais do Ensino Fundamental
Rua Treze de Maio, nº 311 Fone: (45) 3233-1222
Email: escolalauro Luiz@hotmail.com
CAMPO BONITO CEP: 85.450-000 PARANÁ

1º ANO B ATIVIDADES REMOTAS 13ª QUINZENA.

REPOSIÇÃO DE SÁBADO, DISCIPLINA DE LÍNGUA PORTUGUESA DIA 17 E 22 / 04 / 2020

ALUNO (A): _____

PROFESSOR (A): _____ DATA: ___/___/___



A ZEBRA ZAZÁ

WENIDARC CINTRA

ZAZÁ É A ZEBRINHA
QUE MORA NO ZOOLOGICO.
ELA É TODA LISTRADINHA.
SE É BONITA? É LÓGICO!

ELA NÃO É BRAVA.
O ZICO É O ZELADOR,
QUE CUIDA DA ZAZÁ,
COM CARINHO E AMOR.



LOTERIA DO TEXTO

➔ COLORIR DE VERMELHO AS PLACAS DAS PALAVRAS CORRETAS:

ZAZÁ É UMA:

ZELADORA

MENINA

ZEBRINHA

MULHER

ZAZÁ É ASSIM:

BRAVA

MANSA

GORDA

LISTRADINHA



ESCOLA MUNICIPAL LAURO LUIZ

Anos Iniciais do Ensino Fundamental
Rua Treze de Maio, nº 311 Fone: (45) 3233-1222
Email: escolalauro Luiz@hotmail.com
CAMPO BONITO CEP: 85.450-000 PARANÁ

1º ANO B ATIVIDADES REMOTAS 13ª QUINZENA.


REPOSIÇÃO DE SÁBADO, DISCIPLINA DE HISTÓRIA, DIA 17 / 04 / 2020

ALUNO (A): _____

PROFESSOR (A): _____ DATA: ___/___/___

RELACIONE A LETRA CORRESPONDENTE COM A SUA PROFISSÃO:

- A) TRABALHA EM HOSPITAIS E CUIDA DA SAÚDE DAS PESSOAS.
- B) PREPARA COMIDAS E LANCHES DELICIOSOS.
- C) CUIDA DA SAÚDE BUCAL DOS SEUS PACIENTES.
- D) PROMOVE A SEGURANÇA NO TRÂNSITO, LEVANDO E TRAZENDO AS PESSOAS PARA SEU LOCAL DE DESTINO.
- E) REALIZA DIVERSOS TIPOS DE CONSTRUÇÕES, COMO CASAS, ESCOLAS, PRÉDIOS.





ESCOLA MUNICIPAL LAURO LUIZ

Anos Iniciais do Ensino Fundamental
Rua Treze de Maio, nº 311 Fone: (45) 3233-1222
Email: escolalauro Luiz@hotmail.com
CAMPO BONITO CEP: 85.450-000 PARANÁ







1º ANO B ATIVIDADES REMOTAS 13ª QUINZENA.

REPOSIÇÃO DE SÁBADO, DISCIPLINA DE MATEMÁTICA, DIA 17 E 22 / 04 / 2020

ALUNO (A): _____









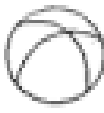





PROFESSOR (A): _____ DATA: ___/___/___

PINTE **SOMENTE** O NÚMERO QUE ESTÁ NO LUGAR ERRADO.














	0	1	2	3	4	5	6	3	8	9
10	11	12	13	24	15	16	17	18	19	
	20	21	22	23	24	25	26	27	82	29
30	13	32	33	34	35	36	37	38	39	
	40	41	42	43	44	55	46	47	48	49
50	51	52	53	54	55	36	57	58	59	

profrafaelak.blogspot.com

SEQUÊNCIA NUMÉRICA

1	2	3	4		6	7	8		10
11	12		14	15	16	17	18	19	
20	21	22		24	25		27	28	29
30		32	33	34		36	37	38	
	41	42		44	45	46	47	48	49
	51	52	53	54		56	57		59
60									

OBSERVE OS NÚMEROS QUE FALTAM NO QUADRO E ESCREVA-OS ABAIXO, OBSERVANDO OS SÍMBOLOS.

	_____		_____		_____
	_____		_____		
	_____		_____		
	_____		_____		
	_____		_____		
	_____		_____		