



**ESCOLA MUNICIPAL LAURO LUIZ**

Anos Iniciais do Ensino Fundamental  
Rua Treze de Maio, nº 311 Fone: (45) 3233-1222  
Email: escolalauro Luiz@hotmail.com  
CAMPO BONITO CEP: 85.450-000 PARANÁ

**TURMA 1º ANO B – ATIVIDADES REMOTAS – ATIVIDADE DE SÁBADO - REPOSIÇÃO DO DIA  
06/04 – EDUCAÇÃO FÍSICA.**

ALUNO (A): \_\_\_\_\_

PROFESSOR (A): \_\_\_\_\_ DATA: \_\_\_\_/\_\_\_\_/2020

**Atividade 1 – PULAR COBRINHA**

AS BRINCADEIRAS COM CORDA SÃO FÁCEIS E BEM POPULARES NO BRASIL. ALÉM DISSO, SÃO UM CONVITE A ESTAR AO AR LIVRE, ESTIMULANDO O MOVIMENTO E A COORDENAÇÃO MOTORA.

**PARA BRINCAR:** VAMOS PRECISAR DE UMA CORDA DE CERCA DE 4 METROS DE COMPRIMENTO, QUE DEVEREMOS AMARRAR UMAS DAS PONTAS AO PÉ DA MESA OU DE ALGUM OUTRO LUGAR, E UMA PESSOA SENTADA NO CHÃO DEVERÁ BALAÇAR A OUTRA PONTA DA CORDA PARA SIMULAR O MOVIMENTO DE UMA COBRA. O ALUNO DEVERÁ PULAR SOBRE A CORDA SEM PISAR OU ENCOSTAR NELA.

ESSA ATIVIDADE DEVERÁ SER REPETIDA POR ALGUNS MINUTOS.

**OBSERVAÇÃO:** todos os materiais citados podem ser trocados por outros similares.



**ESCOLA MUNICIPAL LAURO LUIZ**


Anos Iniciais do Ensino Fundamental  
Rua Treze de Maio, nº 311 Fone: (45) 3233-1222  
Email: escolalauro Luiz@hotmail.com  
CAMPO BONITO CEP: 85.450-000 PARANÁ

**TURMA 1º ANO B – ATIVIDADES REMOTAS – ATIVIDADE DE SÁBADO - REPOSIÇÃO DO DIA  
06/04 – ARTE.**

ALUNO (A): \_\_\_\_\_

PROFESSOR (A): \_\_\_\_\_ DATA: \_\_\_\_/\_\_\_\_/2020

RASGUE PEDAÇOS DE PAPEL, LÃ OU MATERIAL QUE VOCÊ TENHA EM CASA (REVISTA, JORNAL PAPEL COLORIDO) E COLE NA IMAGEM.





**ESCOLA MUNICIPAL LAURO LUIZ**

Anos Iniciais do Ensino Fundamental  
Rua Treze de Maio, nº 311 Fone: (45) 3233-1222  
Email: escolalauro Luiz@hotmail.com  
CAMPO BONITO CEP: 86.450-000 PARANÁ

**TURMA 1º ANO B – ATIVIDADES REMOTAS – ATIVIDADE DE SÁBADO - REPOSIÇÃO DO DIA  
07/04 – CIÊNCIAS.**

ALUNO (A): \_\_\_\_\_

PROFESSOR (A): \_\_\_\_\_ DATA: \_\_\_\_/\_\_\_\_/2020



LEIA A PARLENDA.  
SOL E CHUVA,  
CASAMENTO DE VIÚVA.  
CHUVA E SOL,  
CASAMENTO DE ESPANHOL.





QUAIS SÃO AS PALAVRAS DIFERENTES NOS DOIS  
PARES DE VERSINHOS?

---

---

PREENCHA AS CRUZADINHAS COM OS NOMES DAS  
FIGURAS. SE PRECISAR, LEIA AS PALAVRAS ABAIXO.



E S T R E L A

C H U V A

N U V E M

L U A

S O L



**ESCOLA MUNICIPAL LAURO LUIZ**

Anos Iniciais do Ensino Fundamental  
Rua Treze de Maio, nº 311 Fone: (45) 3233-1222  
Email: escolalauro Luiz@hotmail.com  
CAMPO BONITO CEP: 86.450-000 PARANÁ

**TURMA 1º ANO B – ATIVIDADES REMOTAS – ATIVIDADE DE SÁBADO - REPOSIÇÃO DO DIA  
07/04 – MATEMÁTICA.**

ALUNO (A): \_\_\_\_\_

PROFESSOR (A): \_\_\_\_\_ DATA: \_\_\_\_/\_\_\_\_/2020

## SITUAÇÕES-PROBLEMAS

ANA ESTÁ SEPARANDO O DINHEIRO  
PARA COMPRAR MATERIAL ESCOLAR.  
OBSERVE OS VALORES E RESPONDA.



**APÓS ALEITURA RESPONDA.**

1- FAÇA UM X NO ITEM MAIS BARATO.

2-CIRCULE O ITEM MAIS CARO.

3-QUANTO CUSTA A AGENDA E O LÁPIS JUNTOS? \_\_\_\_\_

4- ANA COMPROU UMA COLA E UM LÁPIS. QUANTO ELA GASTOU? \_\_\_\_\_

5- DESENHE AS CÉDULAS DA AGENDA. (NO VERSO DA FOLHA)

6- QUAL É O VALOR DA RÉGUA? \_\_\_\_\_

7- ANA QUER GASTAR R\$20.00 QUAIS MATERIAIS ELA PODE COMPRAR COM ESSE  
DINHEIRO? \_\_\_\_\_

8 -DESENHE A CÉDULA REPRESENTANDO O VALOR DA BORRACHA E DO LÁPIS JUNTOS?  
(NO VERSO DA FOLHA)

9-QUANTO CUSTA A MAIS O COLA DA BORRACHA? \_\_\_\_\_

10- QUANTO CUSTA A MENOS O LÁPIS DA AGENDA? \_\_\_\_\_