



ESCOLA MUNICIPAL LAURO LUIZ

Anos Iniciais do Ensino Fundamental
Rua Treze de Maio, nº 311 Fone: (45) 3233-1222
Email: escolalauroluiz@hotmail.com
CAMPO BONITO CEP: 85.450-000 PARANÁ

ALUNO (A): _____

PROFESSOR (A): _____

CONTOS DE FADAS

SÃO HISTÓRIAS COM FINAIS FELIZES INVENTADAS DESDE A ANTIGUIDADE, AS PESSOAS TRASMITEM DE GERAÇÃO EM GERAÇÃO. PARTICIPAM DESSAS HISTÓRIAS PERSONAGENS COMO FADAS, PRINCESAS, REIS, RAINHAS, BRUXAS, ANIMAIS FALANTES, ENTRE OUTRAS FANTASIAS.

(PAIS QUEM PODE FAVOR PESQUISAR VÍDEOS CONTOS DE FADAS PARA SEU(A) FILHA(O) ASSISTIR)

CHAPEUZINHO VERMELHO



Chapeuzinho Vermelho



Mãe



Vovó



Lobo mau








Casa da vovó













Floresta

Um dia  foi visitar a . Despediu-se de sua  e lá se foi...

Quando estava no meio da  ela encontrou o .

 contou para o  que ia visitar a . Então o  passou por um caminho mais curto e chegou antes de  na .

A  veio atender. Quando viu o  ela fugiu e se escondeu.

 chegou e o  fingiu ser a .  achou aquela  muito esquisita, com olhos, orelhas, boca e dentes tão grandes que fugiu assustada pedindo socorro. Apareceu um caçador e salvou a  e  das garras do .


REESCREVA A HISTÓRIA DO CHAPEUZINHO VERMELHO SUBSTITUINDO AS FIGURAS PELAS PALAVRAS.

VAMOS PINTAR O QUADRADINHO, DE ACORDO COM A HISTÓRIA.

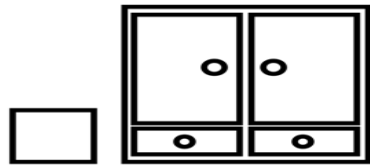
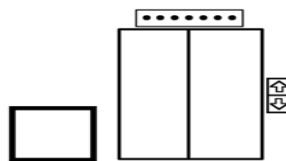

1. A MÃE PEDIU QUE CHAPEUZINHO VERMELHO LEVASSE PARA A AVÓ:





2. NO CAMINHO CHAPEUZINHO VERMELHO ENCONTROU:



3. O LOBO MAU ESCONDEU A VOVÓ:



4. QUEM SALVOU CHAPEUZINHO VERMELHO FOI:




CIRCULE OS NOMES CORRETOS DOS PERSONAGENS DE CONTOS DE FADAS QUE VOCÊ CONHECE:



LOBO MAL

VOVÓ

CHAPEUZINHO VERMELHO



GATO DE BOTAS

VOVOZINHA

CAÇADOR



GEPETO

SININHO

PINÓQUIO



PETER PAN

RAINHA

ANÕES



BELA

FERA

SEREIA



BRANCA

CINDERELA

BELA ADORMECIDA



PRÍNCIPE

CAVALEIRO

BRANCA DE NEVE



ARIEL

DAMA

PEIXE

ESCREVA A MÚSICA QUE CHAPEUZINHO VERMELHO CANTAVA ENQUANTO ESTAVA
INDO PRA A CASA DA VOVOZINHA.



OBSERVANDO AS ILUSTRAÇÕES ABAIXO FAÇA UMA LISTA DOS CONTOS MAIS CONHECIDOS:



➔ **PREENCHA O QUADRO COM AS PALAVRAS ABAIXO.
OBSERVE OS MODELOS:**

CHAPÉU 	MINHOCA 	ABELHA 

NINHO
LINHA
MACHADO
COELHA
OLHO
COLHER
CHUVA
MEDALHA

GALINHA
MULHER
PINTINHO
TELHA
ILHA
AGULHA
UNHA
PUNHO

CACHOEIRA
CHUVEIRO
BANHO
LANCHE
CACHORRO
BORRACHA
CHAVE
VINHO



Língua Portuguesa

Ortografando

cha


che

chi

cho

chu

► O que é, o que é?



cha

$$\bigcirc + \bigcirc =$$

.....

chi

$$\bigcirc + \bigcirc + \bigcirc =$$

.....

cho

$$\bigcirc + \bigcirc + \bigcirc =$$

.....

chu

$$\bigcirc + \bigcirc =$$

.....

cho

$$\bigcirc + \bigcirc + \bigcirc =$$

.....

chi

$$\bigcirc + \bigcirc + \bigcirc =$$

.....

cha

$$\bigcirc + \bigcirc =$$

.....

cha

$$\bigcirc + \bigcirc + \bigcirc =$$

.....

cho

$$\bigcirc + \bigcirc =$$

.....

che

$$\bigcirc + \bigcirc =$$

.....

INTERPRETAÇÃO DE TEXTO: **CHAPEUZINHO VERMELHO**

1- QUEM PRESENTEOU A MENINA COM CAPUZ VERMELHO?

2- A MENINA FOI LEVAR DOCES PARA A SUA VOVOZINHA PORQUE ELA ESTAVA:

- A- () SOZINHA EM CASA
- B- () MUITO DOENTE
- C- () SEM VONTADE DE COZINHAR



3- O LOBO MAU MORAVA:

- A- () NO BOSQUE
- B- () NO CASTELO
- C- () NO PAÍS DAS MARAVILHAS

4- O QUE A MÃE DE CHAPEUZINHO PEDIU PARA ELA LEVAR PARA SUA VOVOZINHA?

5- ENQUANTO A CHAPEUZINHO VERMELHO COLHIA AS FLORES O LOBO:

- A- () CORREU EM DIREÇÃO AO RIO
- B- () FOI PARA A CASA DA CHAPEUZINHO VERMELHO
- C- () FOI ATÉ A CASA DA VOVOZINHA

6- O CAÇADOR MATOU O LOBO NO FINAL DA HISTÓRIA. MAS SABEMOS QUE MATAR OS ANIMAIS NÃO É CERTO. DÊ A SUA IDEIA PARA QUE O LOBO NÃO SEJA MORTO E TENHA TAMBÉM UM FINAL FELIZ.

LEIA AS ADIVINHAS E ESCREVA AS RESPOSTAS.

INSETO QUE PRODUZ MEL



CAI EM PÉ E CORRE DEITADA

É A FÊMEA DO GALO

É UMA DELÍCIA DE ALIMENTO QUE DO CACAU É FEITO

É O FILHOTE DA GALINHA

DELE SÃO FEITOS O FUBÁ E A PAMONHA

DIZEM QUE ELE É O MELHOR AMIGO DO HOMEM



A HISTÓRIA DE CHAPEUZINHO VERMELHO ESTÁ FORA DE ORDEM. RECORTE, ORGANIZE E COLE NO VERSO DA FOLHA ANTERIOR:



| A VOVÓ DE CHAPEUZINHO VERMELHO MORAVA SOZINHA NO MEIO |
| DA FLORESTA. |

| A MÃE DE CHAPEUZINHO PEDIU-LHE PARA TER MUITO CUIDADO |
| PELO CAMINHO. |

| O CAÇADOR MATOU O LOBO MAU E SALVOU CHAPEUZINHO |
| VERMELHO E A SUA VOVOZINHA. |

| CHAPEUZINHO VERMELHO RESOLVEU LEVAR BOLOS E DOCES PARA |
| A SUA VOVOZINHA. |

| O LOBO MAU VIU CHAPEUZINHO NA FLORESTA E FOI DIRETO PARA |
| A CASA DA VOVÓ. |

| O LOBO MAU QUERIA COMER A VOVÓ E CHAPEUZINHO VERMELHO. |



LH CRUZADINHA LEGAL LI

ve__inha

ga__nha

agu__a

te__a

dá__a

sandá__a

utensí__o

ga__o

cava__nho

pa__a

ore__a

i__a

coe__o

ove__a

abe__a

cí__os

bo__a

mobí__a

toa__a

fo__agem

fi__ote

ore__ão





ESCOLA MUNICIPAL LAURO LUIZ

Anos Iniciais do Ensino Fundamental
Rua Treze de Maio, nº 311 Fone: (45) 3233-1222
Email: escolalauroluiz@hotmail.com
CAMPO BONITO CEP: 85.450-000 PARANÁ

2º ANO - ATIVIDADES REMOTAS


MATEMÁTICA.

ALUNO (A): _____

PROFESSOR (A): _____ DATA: _____

NO PAÍS DOS NÚMEROS

ERA UMA VEZ UM LUGAR MUITO ACOLHEDOR, CHAMADO PAÍS DOS NÚMEROS. NELE, HAVIA UM REI E UMA RAINHA QUE VIVIAM EM UM CASTELO, CUJAS JANELAS ERAM NUMERADAS. COMPLETE A SEQUÊNCIA NUMÉRICA :



1. Complete a tabela com números até 200.

101			104			107			110
		113			116			119	
121				125					130
	132		134		136		138		140
		143			146			149	
151				155					160
	162		164		166		168		
171		173		175		177		179	
			184				188		
191				195				199	

ALUNO (A): _____

PROFESSOR (A): _____ DATA: _____

1 - COMPLETE AS OPERAÇÕES DE FORMA QUE O RESULTADO SEJA SEMPRE 20.

$$5 + \underline{\quad} = 20$$

$$6 + 4 + \underline{\quad} = 20$$

$$15 + \underline{\quad} = 20$$

$$21 - \underline{\quad} = 20$$

$$25 - \underline{\quad} = 20$$

$$23 - \underline{\quad} = 20$$

3- ESCREVA O NOME DOS SEGUINTE ORDINAIS:

4^o _____

6^o _____

10^o _____

8^o _____

11^o _____

ALUNO (A): _____

PROFESSOR (A): _____ DATA: _____

PRESTE ATENÇÃO NOS SINAIS E RESOLVA AS OPERAÇÕES DEPOIS
PINTE NO CAPRICHIO.

ADIÇÃO E SUBTRAÇÃO SEM RESERVA



ALUNO (A): _____

PROFESSOR (A): _____ DATA: _____

VOU PROPOR UM DESAFIO PARA VOCÊS: DESCOBRIR O QUANTO RESTA.
VAMOS LÁ!

1) EU TINHA 10 BALAS. DEI 5 PARA MINHA FILHA. COM QUANTAS
BALAS EU FIQUEI?

2) EDUARDO TINHA 8 FIGURINHAS REPETIDAS. DEU 3 PARA O SEU
AMIGO. COM QUANTAS FIGURINHAS FICOU?

MAMÃE COMPROU 6 BRIGADEIROS. COMEU 3. QUANTOS
BRIGADEIROS RESTARAM?

ALUNO (A): _____

PROFESSOR (A): _____ DATA: _____

3-RESOLVA AS ADIÇÕES E SUBTRAÇÕES.

$$\begin{array}{r} \text{D U} \\ + \quad 1 \quad 0 \\ \hline \quad 2 \quad 5 \end{array} \quad \begin{array}{r} \text{D U} \\ + \quad 3 \quad 5 \\ \hline \quad 2 \quad 3 \end{array} \quad \begin{array}{r} \text{D U} \\ + \quad 1 \quad 9 \\ \hline \quad 8 \quad 0 \end{array} \quad \begin{array}{r} \text{D U} \\ + \quad 5 \quad 1 \\ \hline \quad 3 \quad 5 \end{array} \quad \begin{array}{r} \text{D U} \\ + \quad 8 \quad 0 \\ \hline \quad 1 \quad 7 \end{array}$$

$$\begin{array}{r} \text{D U} \\ - \quad 8 \quad 7 \\ \hline \quad 2 \quad 5 \end{array} \quad \begin{array}{r} \text{D U} \\ - \quad 7 \quad 5 \\ \hline \quad 2 \quad 3 \end{array} \quad \begin{array}{r} \text{D U} \\ - \quad 6 \quad 9 \\ \hline \quad 3 \quad 8 \end{array} \quad \begin{array}{r} \text{D U} \\ - \quad 5 \quad 1 \\ \hline \quad 3 \quad 0 \end{array} \quad \begin{array}{r} \text{D U} \\ - \quad 4 \quad 8 \\ \hline \quad 1 \quad 7 \end{array}$$

4-LIGUE O NOME À FIGURA GEOMÉTRICA:



QUADRADO

TRIÂNGULO

CÍRCULO

RETÂNGULO

5-ESCREVA POR EXTENSO:

72- _____ 41- _____

32- _____ 83- _____

6-LIGUE OS NOMES AOS NÚMEROS CORRESPONDENTES:

CINQUENTA E TRÊS

NOVENTA E DOIS

OITENTA E NOVE

VINTE E DOIS

NOVENTA E SETE


89

22

97

92

53



7-COMPLETE COM O SUCESSOR E COM O ANTECESSOR:

_____ 34 _____ 56 _____ 79 _____

_____ 86 _____ 44 _____ 50 _____

ALUNO (A): _____

PROFESSOR (A): _____ DATA: _____

CACA - RESULTAÇOS

Resolva os fatos e procure os resultados no quadro abaixo.



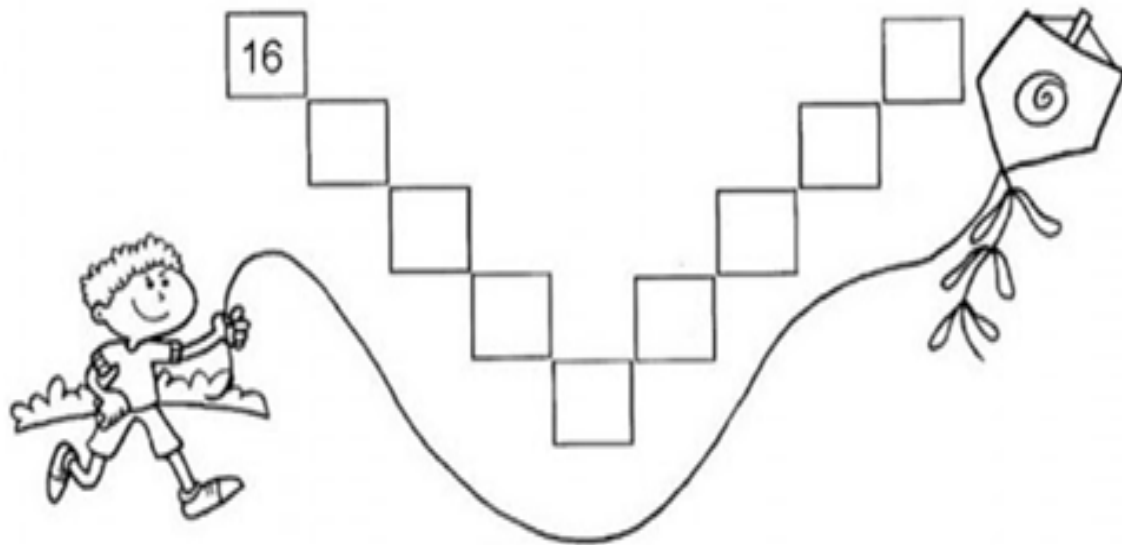
C	F	T	R	Ê	S	N	W	U	M	K	G	N	K
Q	W	P	G	R	E	V	S	B	D	F	H	J	N
U	R	P	R	W	I	R	S	D	O	I	S	Q	C
A	Q	S	L	G	S	X	M	P	S	R	T	D	O
T	Z	W	Q	R	F	Z	R	B	R	S	V	B	I
R	F	T	Q	F	P	M	C	I	N	C	O	K	T
O	R	P	T	S	E	T	E	C	W	Y	P	M	O

ALUNO (A): _____

PROFESSOR (A): _____ DATA: _____


1) OBSERVE OS NÚMEROS EM DESTAQUE, E ESCREVA-OS EM ORDEM CRESCENTE, NOS QUADRINHOS ABAIXO.

81 - 129 - 100 - 134 - 16 - 200 - 98 - 49 - 111 - 28



2) COMPLETE O QUADRO DAS ADIÇÕES.

+	3	4	5	2
5				
6				
2				



3) Ordene os números abaixo de forma decrescente:

45 - 29 - 12 - 6 - 67 - 8 - 77 -

ALUNO (A): _____

PROFESSOR (A): _____ DATA: _____



1)

$$\begin{array}{r} 85 \\ - 22 \\ \hline \end{array}$$

2)

$$\begin{array}{r} 74 \\ - 20 \\ \hline \end{array}$$

3)

$$\begin{array}{r} 93 \\ - 62 \\ \hline \end{array}$$

4)

$$\begin{array}{r} 78 \\ - 14 \\ \hline \end{array}$$

5)

$$\begin{array}{r} 86 \\ - 40 \\ \hline \end{array}$$

6)

$$\begin{array}{r} 70 \\ - 20 \\ \hline \end{array}$$

7)

$$\begin{array}{r} 88 \\ - 52 \\ \hline \end{array}$$

8)

$$\begin{array}{r} 65 \\ - 41 \\ \hline \end{array}$$

9)

$$\begin{array}{r} 76 \\ - 33 \\ \hline \end{array}$$

10)

$$\begin{array}{r} 59 \\ - 21 \\ \hline \end{array}$$

11)

$$\begin{array}{r} 78 \\ - 50 \\ \hline \end{array}$$

12)

$$\begin{array}{r} 37 \\ - 26 \\ \hline \end{array}$$

13)

$$\begin{array}{r} 57 \\ - 11 \\ \hline \end{array}$$

14)

$$\begin{array}{r} 98 \\ - 86 \\ \hline \end{array}$$

15)

$$\begin{array}{r} 83 \\ - 32 \\ \hline \end{array}$$

16)

$$\begin{array}{r} 49 \\ - 18 \\ \hline \end{array}$$

17)

$$\begin{array}{r} 70 \\ - 50 \\ \hline \end{array}$$

18)

$$\begin{array}{r} 79 \\ - 47 \\ \hline \end{array}$$

19)

$$\begin{array}{r} 87 \\ - 73 \\ \hline \end{array}$$

20)

$$\begin{array}{r} 59 \\ - 15 \\ \hline \end{array}$$



ESCOLA MUNICIPAL LAURO LUIZ

Anos Iniciais do Ensino Fundamental
Rua Treze de Maio, nº 311 Fone: (45) 3233-1222
Email: escolalauroluiz@hotmail.com
CAMPO BONITO CEP: 85.450-000 PARANÁ


TURMA: 2º ANO _____ EDUCAÇÃO FÍSICA – ATIVIDADES REMOTAS

ALUNO (A): _____

PROFESSOR (A): _____ DATA ____/____/2020.

ATIVIDADE 1

MÍMICA



MÍMICA É UMA BRINCADEIRA QUE CONSISTE EM UMA PESSOA TER QUE REPRESENTAR UTILIZANDO-SE DE GESTOS, ALGO DE SUA ESCOLHA, SOBRE UM ASSUNTO ESCOLHIDO COM OS DEMAIS PARTICIPANTES. PODE SER UM ANIMAL, UM OBJETO, ETC... O RESTANTE DOS PARTICIPANTES DEVE, ENTÃO, TENTAR ADIVINHAR O QUE FOI REPRESENTADO.

AGORA VAMOS BRINCAR! CONVIDE A SUA FAMÍLIA! FORME DOIS GRUPOS: GRUPO 1 E GRUPO 2, CADA GRUPO DEVERÁ ESCOLHER TEMAS E REPRESENTAR ATRAVÉS DE GESTOS, O OUTRO GRUPO DEVE, ENTÃO, ADIVINHAR O QUE FOI REPRESENTADO.

ANOTE NO QUADRO ABAIXO OS PONTOS DOS GRUPOS. NÃO ESQUEÇAM QUE AQUELE QUE ERRA DÁ O PONTO AO ADVERSÁRIO:

GRUPO 1		GRUPO 2	
MÍMICA	PONTOS	MÍMICA	PONTOS

ATIVIDADE 2 – DATA ____/____/2020.

JOGOS DOS 7 erros



O CEBOLINHA BEBÊ ADORA UM ESPORTE RADICAL. JÁ O CASCÃO BEBÊ ADORA PATINAÇÃO. PROCURAR AS SETE DIFERENÇAS TAMBÉM É BEM DIVERTIDO.

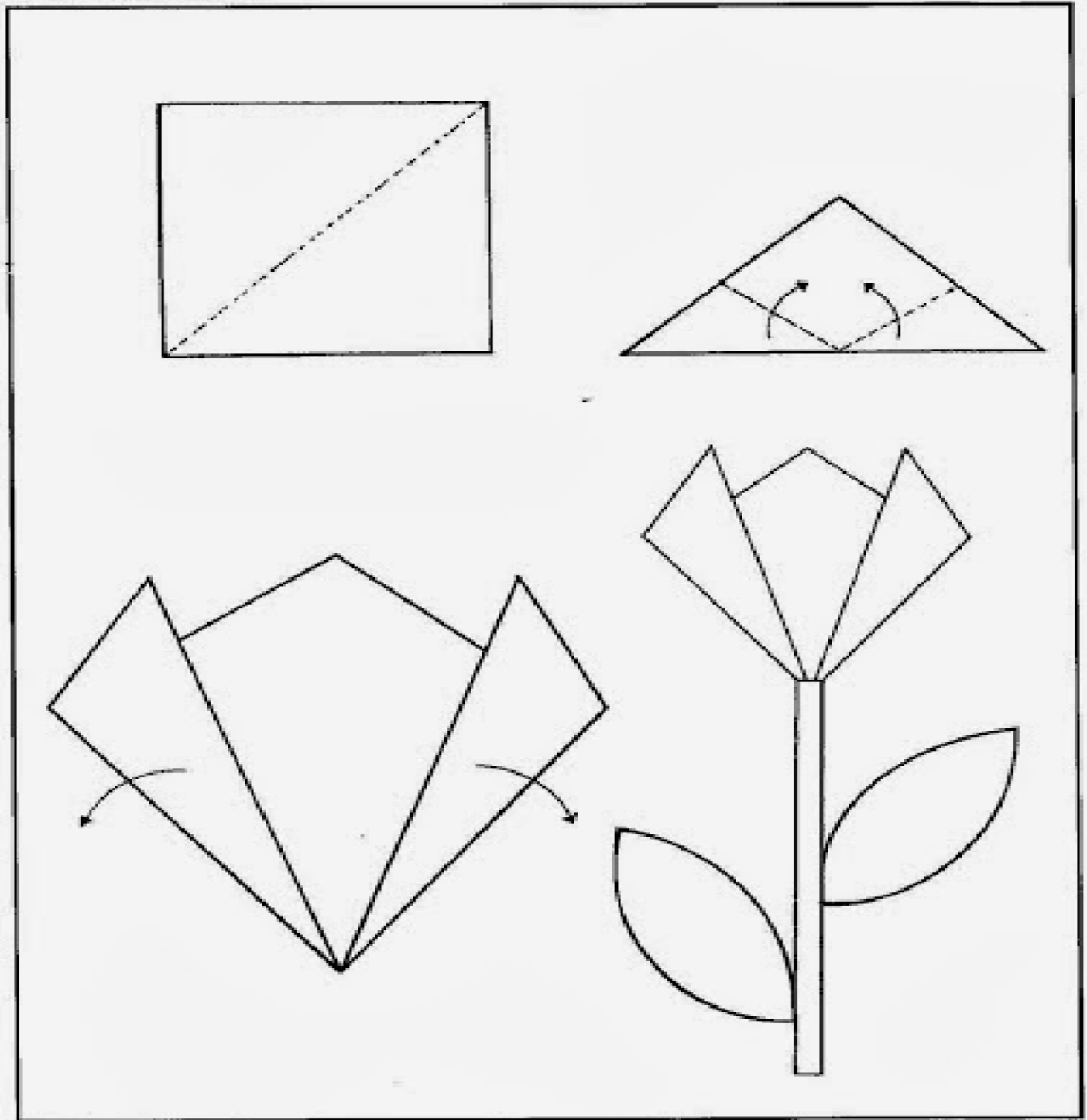


ALUNO: _____ 2º ANO: _____

PROFESSOR (A): _____

5) COM A AJUDA DE UM ADULTO USE UMA FOLHA PARA CONSTRUIR ESTA LINDA FLOR, FAZENDO DOBRADURA. NÃO SE ESQUEÇA DE COLORIR E MANDAR UMA FOTO NO GRUPO (NÃO PRECISA DEVOLVER).

- Dobradura de flor





ESCOLA MUNICIPAL LAURO LUIZ

Anos Iniciais do Ensino Fundamental
Rua Treze de Maio, nº 311 Fone: (45) 3233-1222
Email: escolalauro Luiz@hotmail.com
CAMPO BONITO CEP: 86.450-000 PARANÁ

2º ANO – ATIVIDADES REMOTAS

ALUNO (A): _____

PROFESSOR (A): _____ DATA: _____

HISTÓRIA

ATIVIDADE 01

MORADIAS.

EXISTEM VARIOS TIPOS DE MORADIAS: CASAS, PRÉDIOS, SÍTIOS, FAZENDAS, PALAFITAS E OUTROS.

CADA FAMÍLIA TEM SEU ESTILO DE VIDA E MORA EM UM TIPO DE CASA.

NOSSA CASA É O LUGAR ONDE NOS PROTEGEMOS. NELA, QUARDAMOS TUDO QUE NOS PERTENCE. ESSE LUGAR FAZ PARTE DA NOSSA HISTÓRIA DA NOSSA VIDA E É ONDE CONVIVEMOS COM A FAMÍLIA.

MUITAS PESSOAS POSSUEM CASA PRÓPRIA, OUTRAS MORAM DE ALUGUEL E HÁ AINDA QUEM VIVA NAS RUAS POR NÃO TER ONDE MORAR.

TIPOS DE MORADIAS:



2º ANO – ATIVIDADES REMOTAS

ALUNO (A): _____

PROFESSOR (A): _____ **DATA:** _____

HISTÓRIA

1- QUE MATERIAIS SÃO USADOS PARA FAZER:

a) UMA OCA: _____

b) UM PRÉDIO: _____

c) UMA PALAFÍTA: _____

2- MORADIA É A CASA ONDE VIVEMOS E CADA UM TEM A SUA. UMAS GRANDES, OUTRAS PEQUENAS. ATÉ OS ANIMAIS TEM SUAS MORADIAS.

DESENHE A SUA CASA NESSE ESPAÇO:

2º ANO – ATIVIDADES REMOTAS

ALUNO (A): _____

PROFESSOR (A): _____ DATA: _____

GEOGRAFIA

ATIVIDADE 01

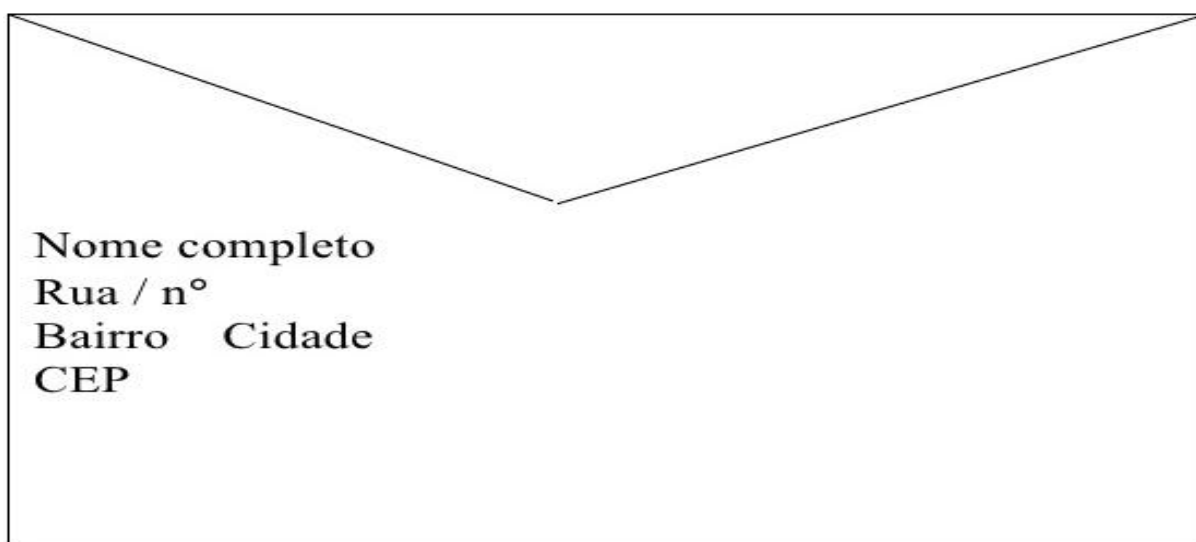
MORADIA E SUA LOCALIZAÇÃO

A MORADIA É O ESPAÇO ONDE AS PESSOAS VIVEM, ONDE ESTÃO PROTEGIDAS, ABRIGAM-SE E SENTEM-SE SEGURAS.

SUA MORADA OCUPA ESPAÇO EM UMA RUA, EM UM BAIRRO E EM UMA CIDADE.

A LOCALIZAÇÃO DESSE ESPAÇO É REPRESENTADA PELO ENDEREÇO, QUE É MUITO IMPORTANTE PARA ENCONTRAMOS LUGARES.

1- PREENCHA O ENVELOPE COM SEUS DADOS.



Nome completo
Rua / nº
Bairro Cidade
CEP

2- DESENHE OS CÔMODOS DA SUA CASA:

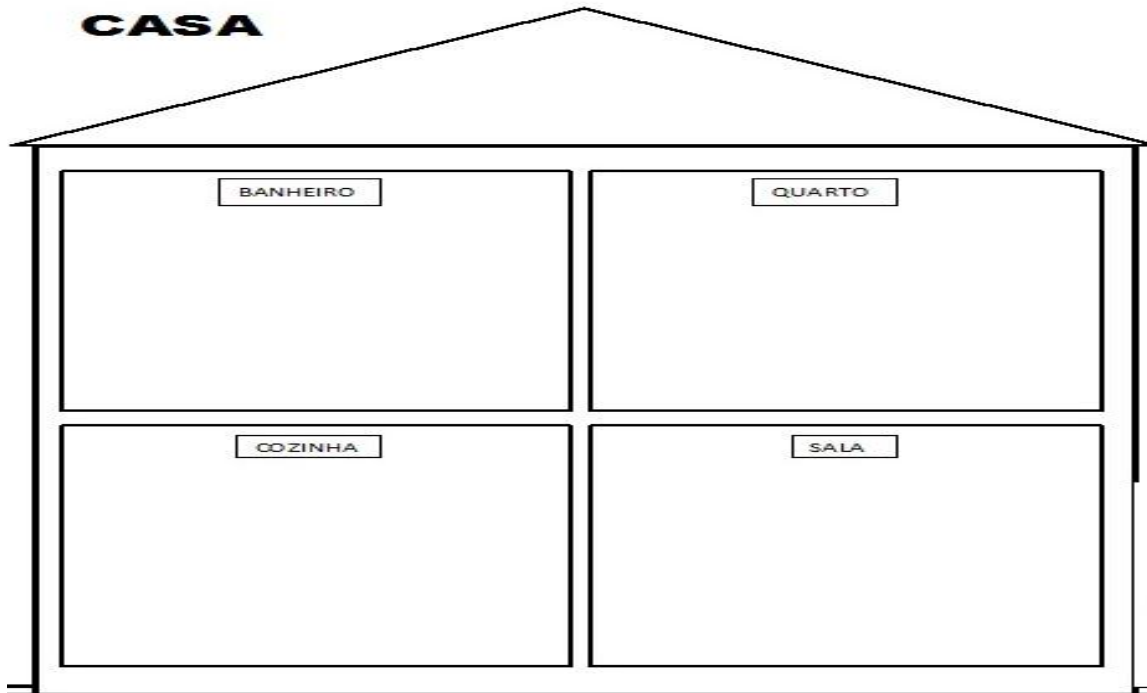
2º ANO – ATIVIDADES REMOTAS

ALUNO (A): _____

PROFESSOR (A): _____ DATA: _____

GEOGRAFIA

CASA



1- RESPONDA:

a) HÁ QUANTOS CÔMODOS EM SUA CASA QUAIS SÃO ELES?

b) DE QUAL CÔMODO VOCÊ MAIS GOSTA? PORQUÊ?

c) REGISTRE:
EM QUAL CÔMODO VOCÊ COSTUMA....

• ESTUDAR: _____

• BRINCAR: _____

• ALMOÇAR: _____



ESCOLA MUNICIPAL LAURO LUIZ

Anos Iniciais do Ensino Fundamental
Rua Treze de Maio, nº 311 Fone: (45) 3233-1222
Email: escolatauro Luiz@hotmail.com
CAMPO BONITO CEP: 86.450-000 PARANÁ

TURMA 2º ANO _____ ATIVIDADES REMOTAS - CIÊNCIAS

ALUNO (A): _____ ATIVIDADE 1

PROFESSOR (A): _____ DATA ___ / ___ /2020. HIGIENE BUCAL

TER BONS DENTES



VAMOS CANTAR?

**TER BONS DENTES É IMPORTANTE
PARA UMA BOA MASTIGAÇÃO.
PREVINA-SE INDO AO DENTISTA
E TENHA SAÚDE, CAMPEÃO!**

(Música: *Capelinha de melão* - Faixa 60 do CD)

Rogéria Araújo



AS CÁRIES

QUANDO APÓS AS REFEIÇÕES NÃO ESCOVAMOS OS DENTES, BACTÉRIAS SE APROVEITAM DOS RESTOS DE ALIMENTOS PARA SE MULTIPLICAR. ELAS PRODUZEM UM ÁCIDO QUE ESTRAGA OS DENTES ABRINDO CAMINHO PARA A FORMAÇÃO DAS CÁRIES.

O ATO DE ESCOVAR OS DENTES ELIMINA OS RESTOS DE COMIDA E AS BACTÉRIAS, CUIDANDO DA SAÚDE DOS DENTES. A ORGANIZAÇÃO MUNDIAL DA SAÚDE DIZ QUE AOS 12 ANO UMA CRIANÇA DEVERIA TER NO MÁXIMO 3 DENTES CARIADOS. POREM NO BRASIL NESTA IDADE, AS CRIANÇAS TEM MAIS DE 6 CÁRIES.

AS PRINCIPAIS MANEIRAS DE EVITAR AS CÁRIES SÃO:


- FAZER A HIGIENE BUCAL DEPOIS DE COMER, USANDO ESCOVA E PASTA DE DENTE, E TAMBÉM O FIO DENTAL.
- NÃO COMER MUITOS DOCES;
- IR AO DENTISTA REGULARMENTE.

DEVEMOS ESCOVAR E CUIDAR TANTO DOS DENTES PERMANENTES QUANTO DOS DENTES DE LEITE.

VOCÊ SABIA!

SERES HUMANOS ADULTOS GERALMENTE TÊM 32 DENTES PERMANENTES!

AS CRIANÇAS TÊM 20 DENTES QUE COMEÇAM A SER TROCADOS POR VOLTA DOS SETE ANOS.




ESCOLA MUNICIPAL LAURO LUIZ

Anos Iniciais do Ensino Fundamental
Rua Treze de Maio, nº 311 Fone: (45) 3233-1222
Email: escolalauro Luiz@hotmail.com
CAMPO BONITO CEP: 85.450-000 PARANÁ

EVITANDO AS CÁRIES

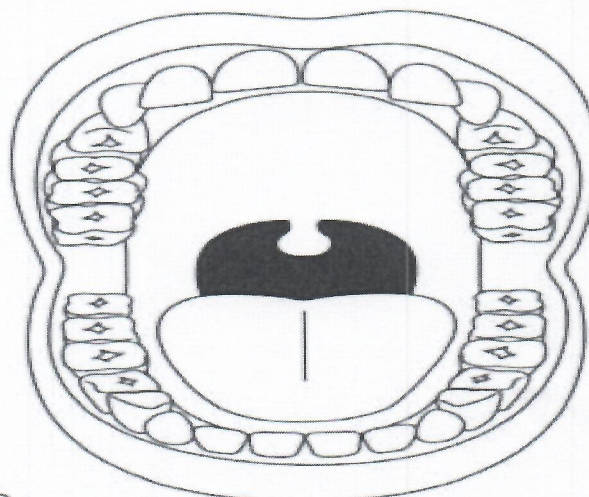

▶ PINTO O QUE VOCÊ DEVE FAZER PARA EVITAR CÁRIES NOS DENTES.



2- ESCOLHA UMA DAS FIGURAS QUE VOCÊ PINTOU E ESCREVA UMA FRASE.

ATIVIDADE 2 – DIA ____ / ____ / 2020.

Quantos dentes
tem na boca da
Dona Julieta,
mamãe do Lico?



Pinte o círculo que possui
o número correto de dentes
na boca de um adulto.

12

18

27

32

43



ESCOLA MUNICIPAL LAURO LUIZ

Anos Iniciais do Ensino Fundamental
Rua Treze de Maio, nº 311 Fone: (45) 3233-1222
Email: escolalauro Luiz@hotmail.com
CAMPO BONITO CEP: 85.450-000 PARANÁ



O CREME DENTAL AJUDA
A MANTER OS DENTES
BRANCOS E LIMPOS.

PEÇA AO PESSOAL DE CASA PARA LER AS FRASES E, DEPOIS, PINTE OS QUADRINHOS COM AS CORES INDICADAS NA LEGENDA:

CERTO: VERDE

ERRADO: VERMELHO

- DEVEMOS ESCOVAR OS DENTES SOMENTE ANTES DE DORMIR.
- RESTOS DE ALIMENTOS ACUMULADOS NA BOCA CAUSAM MAU HÁLITO.
- DEVEMOS IR AO DENTISTA REGULARMENTE.
- COMER BALAS E DOCES E NÃO ESCOVAR OS DENTES PROVOCA CÁRIES.
- SÓ DEVEMOS IR AO DENTISTA QUANDO OS DENTES ESTIVEREM DOENDO.
- É IMPORTANTE PASSAR O FIO DENTAL DEPOIS DAS REFEIÇÕES.

PREENCHA A CRUZADINHA DE ACORDO COM A NUMERAÇÃO DAS IMAGENS.

