



ESCOLA MUNICIPAL LAURO LUIZ

Anos Iniciais do Ensino Fundamental
Rua Treze de Maio, nº 311 Fone: (45) 3233-1222
Email: escolalauro Luiz@hotmail.com
CAMPO BONITO CEP: 85.450-000 PARANÁ

2º ANO A - ATIVIDADE DE SÁBADO – REPOSIÇÃO DO DIA 13/04/2020

EDUCAÇÃO FÍSICA


ALUNO (A): _____

PROFESSOR (A): _____

PINTE E RECORTE NAS LINHAS INDICADAS, DEPOIS MONTE O QUEBRA-CABEÇA.

OBSERVAÇÃO : NÃO PRECISA DEVOLVER

Nome: _____





ESCOLA MUNICIPAL LAURO LUIZ

Anos Iniciais do Ensino Fundamental
Rua Treze de Maio, nº 311 Fone: (45) 3233-1222
Email: escolalauro Luiz@hotmail.com
CAMPO BONITO CEP: 85.450-000 PARANÁ

2º ANO A - ATIVIDADES REMOTA DE SÁBADO REPOSIÇÃO DO DIA

(13/04/2020) LÍNGUA PORTUGUESA

ALUNO (A): _____

PROFESSOR (A): _____

DATA: _____

01. COMPLETE AS PALAVRAS COM A SÍLABA INICIAL CORRESPONDENTE.



□ TO



□ LO



□ LO



□ VETA



□ VIÃO



□ LINHA



□ RAFA



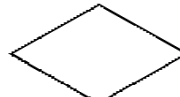
□ LOSO




□ LATINA

JUNTE AS SÍLABAS DE ACORDO COM AS FIGURAS GEOMÉTRICAS E FORME PALAVRAS COM G.
















ESCOLA MUNICIPAL LAURO LUIZ

Anos Iniciais do Ensino Fundamental
Rua Treze de Maio, nº 311 Fone: (45) 3233-1222
Email: escolalauro Luiz@hotmail.com
CAMPO BONITO CEP: 85.450-000 PARANÁ


2º ANO A - ATIVIDADES DE SÁBADO REPOSIÇÃO DO DIA (14/04/2020)

MATEMÁTICA.

ALUNO (A): _____

PROFESSOR (A): _____ DATA: _____

- ESCREVA QUAL INSTRUMENTO SERÁ UTILIZADO EM CADA SITUAÇÃO:
 - OS ALUNOS UTILIZAM A _____ NA SALA DE AULA.
 - A COSTUREIRA USA A _____ PARA TIRAR MEDIDAS.
 - O PEDREIRO UTILIZA _____ PARA TRABALHAR.
- SABRINA COMPROU 5 METROS DE TECIDO, E MARCELA, 7 METROS. QUANTOS METROS AS DUAS COMPRARAM JUNTAS?



DESENHO	OPERAÇÃO

ELAS COMPRARAM JUNTAS _____ METROS DE TECIDO.



ESCOLA MUNICIPAL LAURO LUIZ

Anos Iniciais do Ensino Fundamental
Rua Treze de Maio, nº 311 Fone: (45) 3233-1222
Email: escolalauro Luiz@hotmail.com
CAMPO BONITO CEP: 85.450-000 PARANÁ

2º ANO ___ CIÊNCIAS - REPOSIÇÃO REFERENTE AO DIA 14/04/2020

ALUNO (A): _____


PROFESSOR (A): _____ DATA ___/___/2020



❖ Copie as frases verdadeiras no espaço abaixo:

- * As orelhas são os órgãos da visão.
- * Pelo tato podemos sentir o frio e o calor.
- * Ouvimos os sons com os olhos.
- * Sentimos o sabor das coisas com a língua.

Que sentido você usa quando:



- * Ouve o rádio? _____
- * Come doces? _____
- * Sente o perfume? _____
- * Assiste filme? _____

