



ESCOLA MUNICIPAL LAURO LUIZ

Anos Iniciais do Ensino Fundamental
Rua Treze de Maio, nº 311 Fone: (45) 3233-1222
Email: escolalauro Luiz@hotmail.com
CAMPO BONITO CEP: 85.450-000 PARANÁ

Escola Municipal Lauro Luiz Professora _____ 2º _____

Aluno: _____

ATIVIDADES AVALIATIVAS DE MATEMÁTICA. 01

1 – Pinte no quadro abaixo o retângulo que contém a respostas das operações.
(Use o verso da folha para realizar as contas)

A) $35 + 30$	65	55	60
B) $17 + 20$	27	37	47
C) $58 + 58$	106	100	116
D) $60 + 10$	70	80	90
E) $50 + 50$	99	100	110
F) $100 - 10$	60	90	99
G) $58 - 7$	51	57	52
H) $36 - 4$	30	32	42
I) $60 - 30$	60	40	30

2) Responda com algarismos a quantidade que cada um representa.

1 DEZENA = _____ 1 CENTENA = _____ MEIA CENTENA = _____

1 DÚZIA = _____ MEIA DÚZIA = _____ 5 CENTENAS = _____

2 DEZENAS = _____ 2 DÚZIAS = _____

3) Complete as sequências numérica observando a ordem:

10	12	14						

50	55	60						

4) Escreva por extenso os numerais abaixo:

A – 10 : _____ E – 50 : _____

B – 17 : _____ F – 70 : _____

C – 20 : _____ G – 90 : _____

D – 36 : _____ H – 100 : _____

5) Complete com o sucessor e com o antecessor:

_____ 19 _____	_____ 26 _____	_____ 30 _____	_____ 39 _____
_____ 47 _____	_____ 56 _____	_____ 65 _____	_____ 70 _____
_____ 78 _____	_____ 88 _____	_____ 90 _____	_____ 99 _____

6) Coloque os números abaixo em ordem crescente:

<u>1</u>	<u>10</u>	<u>5</u>	<u>18</u>	<u>3</u>	<u>12</u>	<u>29</u>	<u>39</u>
—	—	—	—	—	—	—	—

7) Coloque os números abaixo em ordem decrescente:

45	<u>29</u>	<u>12</u>	<u>67</u>	<u>8</u>	<u>70</u>	<u>3</u>	<u>10</u>
—	—	—	—	—	—	—	—

8) Ligue corretamente os números ordinais abaixo:

1º	Segundo
2º	Primeiro
3º	Quarto
4º	Terceiro
5º	Sexto
6º	Quinto
7º	Oitavo
8º	Sétimo
9º	Nono
10º	Décimo

CONTINHAS DE ADIÇÃO

D	U
2	3
+2	2



D	U
5	6
+1	3

D	U
9	7
+0	2

D	U
7	4
+2	4

D	U
4	8
+3	1

D	U
3	9
+1	0

Dani Educar

D	U
1	5
+1	4

D	U
2	5
+2	0

D	U
5	0
+3	0

D	U
8	6
+0	3

SUBTRAÇÃO

$$\begin{array}{r} 82 \\ - 41 \\ \hline \end{array}$$

$$\begin{array}{r} 22 \\ - 12 \\ \hline \end{array}$$

$$\begin{array}{r} 38 \\ - 03 \\ \hline \end{array}$$

$$\begin{array}{r} 98 \\ - 51 \\ \hline \end{array}$$

$$\begin{array}{r} 94 \\ - 61 \\ \hline \end{array}$$

$$\begin{array}{r} 41 \\ - 21 \\ \hline \end{array}$$

$$\begin{array}{r} 23 \\ - 00 \\ \hline \end{array}$$

$$\begin{array}{r} 66 \\ - 52 \\ \hline \end{array}$$

$$\begin{array}{r} 47 \\ - 40 \\ \hline \end{array}$$

$$\begin{array}{r} 18 \\ - 04 \\ \hline \end{array}$$

$$\begin{array}{r} 25 \\ - 04 \\ \hline \end{array}$$

$$\begin{array}{r} 99 \\ - 48 \\ \hline \end{array}$$

$$\begin{array}{r} 12 \\ - 10 \\ \hline \end{array}$$

$$\begin{array}{r} 99 \\ - 74 \\ \hline \end{array}$$

$$\begin{array}{r} 59 \\ - 39 \\ \hline \end{array}$$

10) Pedro comprou uma dúzia de pirulitos e Marcos comprou uma dezena de balas. **Quantos doces eles compraram juntos?** (Fazer a conta)

11) Mario tinha 24 carrinhos. Deu uma dúzia deles para seu primo. **Com quantos carrinhos Mario ficou?**

12) Havia em um cesto 11 bolas. Paulo colocou mais 13 bolas. **Quantas bolas há no cesto agora?**

13) No campinho estavam 10 crianças jogando bola. Chegaram mais 16 crianças para o jogo. **Quantas crianças ficaram no total?**

14) Camila foi ao supermercado e comprou uma dezena de mangas e uma dúzia de laranjas. **Quantas frutas ela comprou?**



ESCOLA MUNICIPAL LAURO LUIZ

Anos Iniciais do Ensino Fundamental
Rua Treze de Maio, nº 311 Fone: (45) 3233-1222
Email: escolalauro Luiz@hotmail.com
CAMPO BONITO CEP: 85.450-000 PARANÁ

ATIVIDADES AVALIATIVAS DE LÍNGUA PORTUGUESA .01

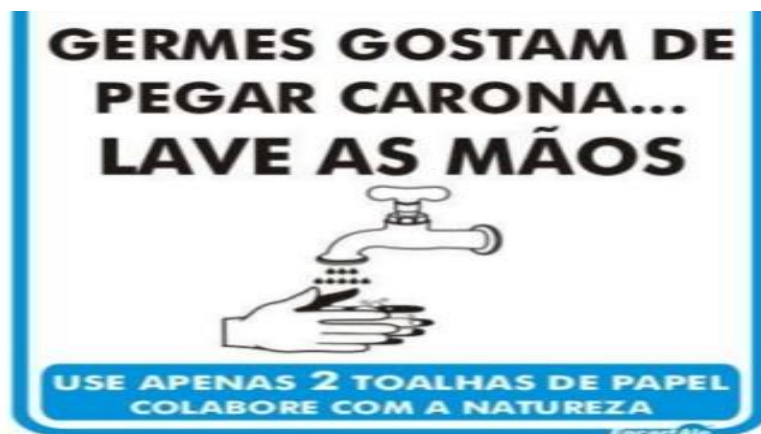
2º ANO

ALUNO (A) _____

PROFESSOR (A): _____ DATA: _____

LEIA AS QUESTÕES ABAIXO E MARQUE COM UM (X) A RESPOSTA CORRETA:

1) O TEXTO ABAIXO É UM:



() BILHETE () AVISO () CONVITE () POEMA () CONTO DE FADAS.

2) O TEXTO ABAIXO É UM:


ERA UMA VEZ... UMA PRINCESINHA DE CABELOS BEM NEGROS, PELE BRANCA COMO A NEVE E LÁBIOS VERMELHOS. SEU NOME ERA BRANCA DE NEVE E ELA MORAVA COM SUA MADRASTA, UMA RAINHA MUITO VAIDOSA E MÁ.

() RECEITA () CARTA () CONTO DE FADAS () TEXTO CIENTÍFICO () AVISO

3) O TEXTO A SEGUIR É UM:

" MINHA ESCOLA

(Jane Emirene)

QUANDO EU VOU PRA MINHA ESCOLA
TENHO MUITO O QUE FAZER
PULO, BRINCO, FAÇO ARTE
MAS TAMBÉM QUERO APRENDER
MEUS AMIGOS LÁ DA SALA 
SÃO PEQUENOS COMO EU
DÃO RISADAS, SÃO ALEGRES,
SÃO BACANAS... E OS SEUS?

() RELATO DE EXPERIÊNCIA () AVISO () BULA () RECEITA
() POEMA

4) O TEXTO ABAIXO É UM (A) ?


OLÁ, EU SOU ANA, TENHO NOVE ANOS, MORO EM SANTA CECÍLIA. NA MINHA CIDADE TEM UMAS 20 MIL PESSOAS. O NOME DA MINHA MÃE É EVA E DO MEU PAI É IVAN. EU TENHO 300 AMIGOS. NA MINHA CASA TEM 7 PESSOAS. EU TENHO UM GATO.

() CARTA () RECEITA () CONVITE () RELATO PESSOAL

5) O TEXTO ABAIXO É UM:

TUBARÃO

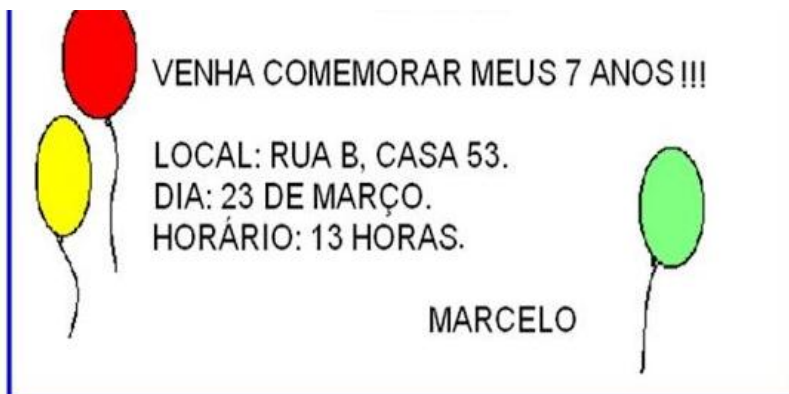
O tubarão é um peixe carnívoro (que se alimenta de carne) e um dos animais mais temíveis do mar. Os cientistas classificam como tubarão mais de 250 espécies de peixes. Esses peixes vivem nos oceanos de todo o mundo, mas gostam mais de os mares quentes. O maior tubarão é o tubarão-baleia, com 18 metros de comprimento.



(Enciclopédia Delta Universal.V.14. Rio de Janeiro :Delta,s.d.)

() UM CONVITE () UMA RECEITA () UMA LENDA
() UM TEXTO CIENTÍFICO

6) O TEXO A SEGUIR É UM:



- CARTA RECEITA CONVITE RELATO PESSOAL
 LENDA

7) O TEXTO A SEGUIR É UM:

INGREDIENTES

6 XÍCARAS DE ÁGUA
500G DE AÇÚCAR
¼ DE XÍCARA DE GENGIBRE LASCADO
1 MAÇÃ CORTADA
CASCAS DE LIMÃO E LARANJA
CRAVO DA ÍNDIA A GOSTO
CANELA A GOSTO

- UM CONVITE UMA RECEITA UMA LENDA
 UM TEXTO CIENTÍFICO

8) O TEXTO ABAIXO É:

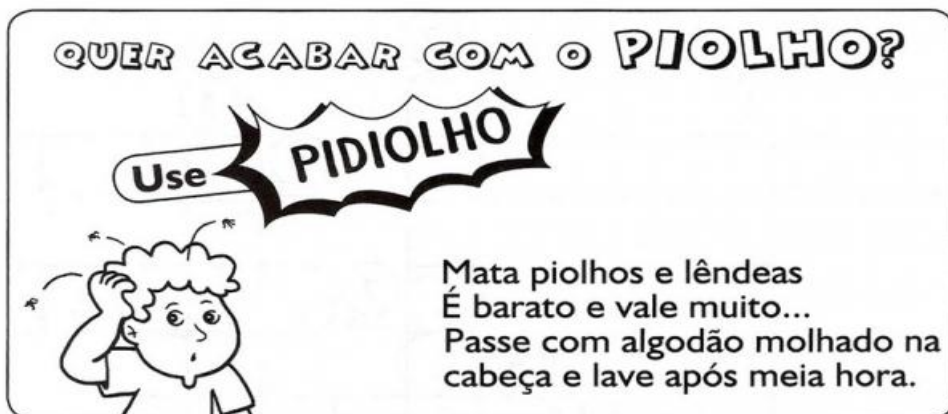
SAPO CURURU

SAPO CURURU
DA BEIRA DO RIO
QUANDO O SAPO CANTA
OH, MANINHA,
É QUE ESTÁ COM FRIO!

A MULHER DO SAPO
DEVE ESTAR LÁ DENTRO
FAZENDO RENDINHA,
OH, MANINHA
PARA O CASAMENTO!

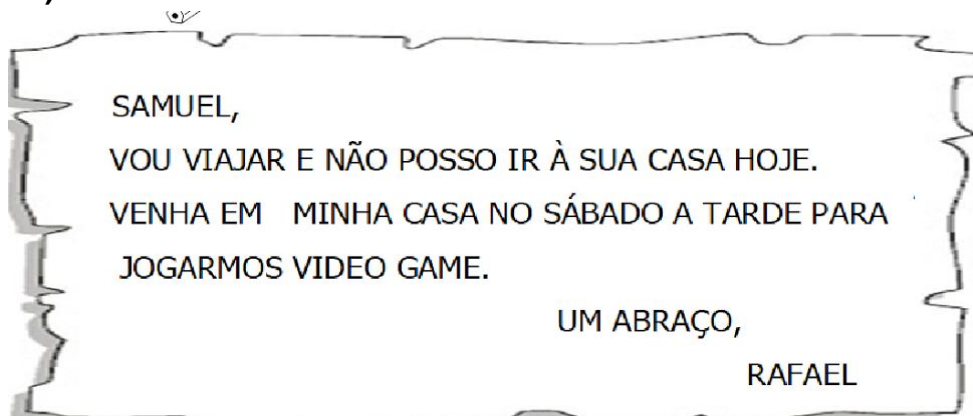
- UMA CARTA UMA RECEITA UM CONVITE
 UM RELATO PESSOAL UMA LENDA.

9) O TEXTO ABAIXO É:



- UMA CARTA UMA RECEITA UM CONVITE UM RELATO PESSOAL UM ANÚNCIO

10) O TEXTO ABAIXO É UM:



- UMA CARTA UMA RECEITA UM BILHETE UM RELATO PESSOAL UM ANÚNCIO

11) **ESCREVA SOBRE O CONTO DE FADAS CHAPEUZINHO VERMELHO:(PODE USAR TAMBÉM O VERSO DA FOLHA)**

12) ATIVIDADE DE LEITURA AVALIATIVA PARA ENVIAR (UM) ÁUDIO OU VÍDEO NO GRUPO DA ESCOLA. ATÉ O DIA 27/07/2020.

RAPUNZEL

ERA UMA VEZ UM LENHADOR QUE VIVIA MUITO FELIZ COM SUA MULHER QUE ESTAVA GRÁVIDA DE UMA MENINA.

ELES MORAVAM PERTO DA CASA DE UMA BRUXA MUITO INVEJOSA E EGOÍSTA. A CASA DELA TINHA UM QUINTAL COM MUITAS ÁRVORES FRUTÍFERAS E UMA HORTA COM LEGUMES E VERDURAS.

A BRUXA FEZ UM MURO BEM ALTO PARA QUE NINGUÉM VISSE O QUE HAVIA LÁ DENTRO.

A CASA DO CASAL TINHA UMA JANELA QUE DAVA PARA O QUINTAL DA BRUXA. A MULHER DO LENHADOR VIVIA ADMIRANDO O POMAR E A HORTA. ELA GOSTAVA MUITO DE RABANETE E TINHA VONTADE DE COMER UM DAQUELA HORTA.

REPRESENTE (**DESENHE**) O CONTO DE FADAS. RAPUNZEL.



ESCOLA MUNICIPAL LAURO LUIZ

Anos Iniciais do Ensino Fundamental
Rua Treze de Maio, nº 311 Fone: (45) 3233-1222
Email: escolalauro Luiz@hotmail.com
CAMPO BONITO CEP: 85.450-000 PARANÁ


ARTE 2º ANO – ATIVIDADES 7 – 6ª QUINZENA

ALUNO: _____

2º ANO: _____

PROFESSOR (A): _____

USANDO AS CORES PRIMÁRIAS PREENCHA O DESENHO DA MANDALA COM LINHAS (VOU POSTAR NO GRUPO DO WHATS UM MODELO).





ESCOLA MUNICIPAL LAURO LUIZ

Anos Iniciais do Ensino Fundamental
Rua Treze de Maio, nº 311 Fone: (45) 3233-1222
Email: escolalauro Luiz@hotmail.com
CAMPO BONITO CEP: 85.450-000 PARANÁ

TURMA 2º ANO _____ CIÊNCIAS – AVALIAÇÃO

ALUNO (A): _____

PROFESSOR (A): _____ DIA ____ / ____ / 2020

AVALIAÇÃO

QUERIDOS ALUNOS, AGORA É O MOMENTO DE REVER OS CONTEÚDOS TRABALHADOS EM CIÊNCIAS.

SAÚDE É O QUE INTERESSA!

PARA A SAÚDE PRESERVAR
DE TODO O CORPO VOU CUIDAR
COMEÇANDO PELOS DENTES
DO CABELO AO CALCANHAR!



ISABEL CRISTINA S. SOARES

COMPLETE COM AS LETRAS FALTOSAS E
COLOQUE O NÚMERO DE LETRAS.

D N T



 S C V



S B N T



T L H



O CREME DENTAL AJUDA
A MANTER OS DENTES
BRANCOS E LIMPOS.

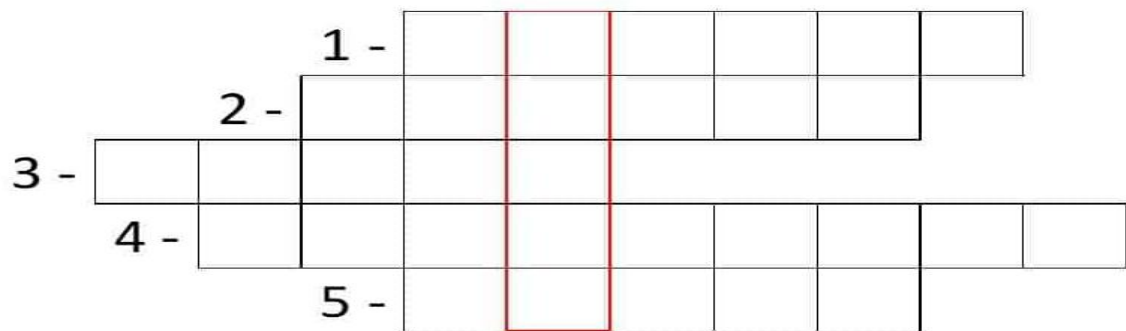
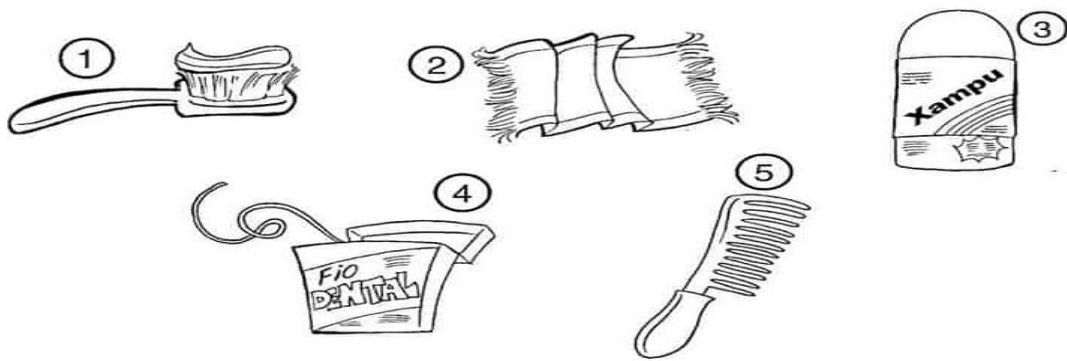
PEÇA AO PESSOAL DE CASA PARA LER AS FRASES E, DEPOIS, PINTAR OS QUADRINHOS COM AS CORES INDICADAS NA LEGENDA:

CERTO: VERDE

ERRADO: VERMELHO

- DEVEMOS ESCOVAR OS DENTES SOMENTE ANTES DE DORMIR.
- RESTOS DE ALIMENTOS ACUMULADOS NA BOCA CAUSAM MAU HÁLITO.
- DEVEMOS IR AO DENTISTA REGULARMENTE.
- COMER BALAS E DOCES E NÃO ESCOVAR OS DENTES PROVOCA CÁRIES.
- SÓ DEVEMOS IR AO DENTISTA QUANDO OS DENTES ESTIVEREM DOENDO.
- É IMPORTANTE PASSAR O FIO DENTAL DEPOIS DAS REFEIÇÕES.


PREENCHA A CRUZADINHA DE ACORDO COM A NUMERAÇÃO DAS IMAGENS.




É ATRAVÉS DOS SENTIDOS QUE NÓS PERCEBEMOS O MUNDO.

NÓS TEMOS CINCO SENTIDOS: VISÃO, AUDIÇÃO, OLFATO, TATO E PALADAR.


DESENHE CADA ÓRGÃO NO ESPAÇO CORRETO.




VISÃO




TATO



PALADAR



AUDIÇÃO



OLFATO



ESCOLA MUNICIPAL LAURO LUIZ

Anos Iniciais do Ensino Fundamental
Rua Treze de Maio, nº 311 Fone: (45) 3233-1222
Email: escolalauro Luiz@hotmail.com
CAMPO BONITO CEP: 85.450-000 PARANÁ

ALUNO (A): _____

PROFESSOR (A): _____ Data: AVALIAÇÃO DE
EDUCAÇÃO FÍSICA 2º ANO _____

QUERIDOS ALUNOS, AGORA É O MOMENTO DE REVER TODAS AS
ATIVIDADES JÁ REALIZADAS DE EDUCAÇÃO FÍSICA!

SOLICITAMOS QUE NOS ENVIE NO GRUPO DO WHATSAPP FOTOS
OU VÍDEOS DAS ATIVIDADES SOLICITADAS. 1) JOGO DA
MEMÓRIA - JOGANDO COM A FAMÍLIA.

2) JOGO DOS 7 ERROS – REALIZAR A ATIVIDADE E DEVOLVER.

3) JOGO DA VELHA – JOGANDO COM A FAMÍLIA.

4) ELÁSTICO – BRINCANDO.


5) JOGO DA MÍMICA – BRINCANDO COM A FAMÍLIA.

JOGO DOS 7 ERROS



A OVELHINHA ESTÁ AJUDANDO O PASTOR CEBOLINHA A ENCONTRAR
AS SETE DIFERENÇAS ENTRE OS DESENHOS. QUE TAL PROCURÁ-LAS
TAMBÉM?


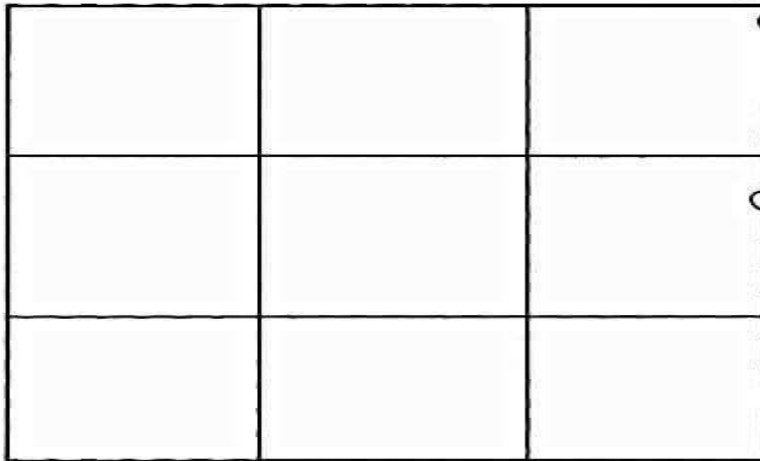




JOGO DA VELHA

MODO DE JOGAR

- RECORTE AS FICHAS ABAIXO.
- CADA JOGADOR ESCOLHE CINCO FICHAS IGUAIS.
- O OBJETIVO DO JOGO É COLOCAR UMA FICHA POR VEZ, ATÉ QUE UM JOGADOR CONSIGA ALINHAR TRÊS FICHAS NA SEQUÊNCIA HORIZONTAL, VERTICAL OU DIAGONAL.





ESCOLA MUNICIPAL LAURO LUIZ

Anos Iniciais do Ensino Fundamental
Rua Treze de Maio, nº 311 Fone: (45) 3233-1222
Email: escolalauro Luiz@hotmail.com
CAMPO BONITO CEP: 85.450-000 PARANÁ

ATIVIDADES AVALIATIVAS DE HISTÓRIA.01

2º ANO

ALUNO (A) _____

PROFESSOR (A): _____ DATA: _____

1-PINTE DE VERDE O QUE, GERALMENTE, EXISTEM NAS RUAS.

calçada

elavador

avião

pia

árvores

poste

cama

construções

via para veículos

2- QUAL A PRINCIPAL FUNÇÃO DA MORADIA?

3- COMPLETE AS FRASES COM AS PALAVRAS DO QUADRO:

moradia – prédios – palafitas – casas – cômodos – lugar
segurança – sobrado – cidade - construções

- a) As _____ SÃO CONSTRUÇÕES FEITAS SOBRE ESTACAS.
- b) A MORADIA É O _____ ONDE VIVEMOS.
- c) AS MORADIAS GRANDES TÊM MUITOS _____ .
- d) MUITAS PESSOAS VIVEM EM _____ OU APARTAMENTOS.
- e) UMA MORADIA DEVE OFERECER CONFORTO E _____ PARA AS PESSOAS.



ESCOLA MUNICIPAL LAURO LUIZ

Anos Iniciais do Ensino Fundamental
Rua Treze de Maio, nº 311 Fone: (45) 3233-1222
Email: escolalauroluiz@hotmail.com
CAMPO BONITO CEP: 85.450-000 PARANÁ

ATIVIDADES AVALIATIVAS DE GEOGRAFIA.01

2º ANO

ALUNO (A) _____

PROFESSOR (A): _____ DATA: _____

O BAIRRO ONDE EU MORO.

O BAIRRO ONDE EU MORO

É PURA ANIMAÇÃO.....

CASA,RUAS,PESSOAS

E MUITA AGITAÇÃO!

OH! BAIRRO DE MINHA AFEIÇÃO.

HOJE REPLETO EM CONSTRUÇÃO!

GRANDIOSO EM POPULAÇÃO

FICA LEMBRANÇAS NA IMAGINAÇÃO!

RESPONDA:

1-O QUE HÁ NESSE BAIRRO?

QUAL O NOME DO SEU BAIRRO?

6- O QUE VOCÊ PODE ENCONTRAR NO SEU BAIRRO?

7- HÁ QUANTO TEMPO VOCÊ MORA NESSE BAIRRO?
