



ESCOLA MUNICIPAL LAURO LUIZ

Anos Iniciais do Ensino Fundamental

Rua Treze de Maio, nº 311 Fone: (45) 3233-1222

Email: escolalauro Luiz@hotmail.com

CAMPO BONITO

CEP: 85.450-000

PARANÁ

2º ANO B - REPOSIÇÃO DO DIA 30/04/2020. MATEMÁTICA

ALUNO (A):

PROFESSOR (A):

MEDIDAS DE TEMPO

A hora e o minuto


A hora e o minuto são unidades de medidas de tempo marcadas pelo relógio.

Por extenso	Abreviatura
hora	h
minuto	min

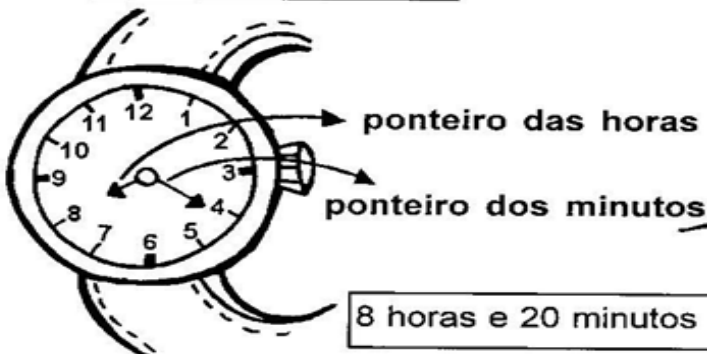
O dia se divide em 24 partes iguais.
Cada parte corresponde a 1 hora.

A hora se divide em 60 partes iguais.
Cada parte corresponde a 1 minuto.

O minuto se divide em 60 partes iguais.
Cada parte corresponde a 1 segundo.



Relógio de ponteiro















Relógio digital



Acertando as Horas

Complete os relógios, marcando a mesma hora de cada relógio digital:



ESCOLA MUNICIPAL LAURO LUIZ

Anos Iniciais do Ensino Fundamental
Rua Treze de Maio, nº 311 Fone: (45) 3233-1222
Email: escolalauro Luiz@hotmail.com
CAMPO BONITO CEP: 85.450-000 PARANÁ

2º ANO - REPOSIÇÃO DO DIA 29/04/2020. LÍNGUA PORTUGUESA.

ALUNO (A): _____

PROFESSOR (A): _____

LEILÃO DE JARDIM

CECÍLIA MEIRELES

QUEM ME COMPRA UM JARDIM COM FLORES?
BORBOLETAS DE MUITAS CORES,...
LAVADEIRAS E PASSARINHOS,
OVOS VERDES E AZUIS NOS NINHOS?

QUEM ME COMPRA ESTE CARACOL?
QUEM ME COMPRA UM RAIOS DE SOL?
UM LAGARTO ENTRE O MURO E A HERA,
UMA ESTÁTUA DA PRIMAVERA?

QUEM ME COMPRA ESTE FORMIGUEIRO?
E ESTE SAPO, QUE É JARDINEIRO?
A CIGARRA E A SUA CANÇÃO?
E O GRILINHO DENTRO DO CHÃO?
(ESTE É O MEU LEILÃO).



Interpretando o texto.

QUAL O TÍTULO DO POEMA?

QUEM ESCREVEU O POEMA?

O QUE ESTÁ SENDO LEILOADO?

É POSSÍVEL LEILOAR “UM JARDIM
COM FLORES E BORBOLETAS DE
MUITAS CORES”?

() SIM

() NÃO

QUE MENSAGEM CECÍLIA MEIRELES
QUIS TRANSMITIR COM ESTE
POEMA?

PESQUISE NO POEMA E ESCREVA AS RIMAS DE:

FLORES:.....

PASSARINHOS:.....

CARACOL:.....

HERA:.....

FORMIGUEIRO:.....

CANÇÃO:.....



2º ANO B - REPOSIÇÃO DO DIA 28/04/2020. HISTÓRIA

ALUNO (A): _____


PROFESSOR (A): _____

O MEU TEMPO

TODOS NÓS TEMOS OS NOSSOS COMPROMISSOS E AS NOSSAS TAREFAS DIÁRIAS. TEMOS HORA PARA ACORDAR, TOMAR CAFÉ, ALMOÇAR, ESTUDAR, DORMIR E PRATICAR ESPORTES.

TUDO ESSE TEMPO É DIVIDIDO EM HORÁRIOS DIFERENTES.

1- COMPLETE OS QUADROS COM OS SEUS HORÁRIOS:

 <p>Acordo às _____ horas.</p>	 <p>Tomo café às _____ horas.</p>
 <p>Brinco às _____ horas.</p>	 <p>Vou para a escola às _____ horas.</p>
 <p>Escovo os dentes às _____ horas.</p>	 <p>Tomo banho às _____ horas.</p>



ESCOLA MUNICIPAL LAURO LUIZ

Anos Iniciais do Ensino Fundamental

Rua Treze de Maio, nº 311 Fone: (45) 3233-1222

Email: escolalauroluiz@hotmail.com

CAMPO BONITO

CEP: 85.450-000

PARANÁ

2º ANO B – REPOSIÇÃO DO DIA 28/04/2020. GEOGRAFIA

ALUNO (A): _____

PROFESSOR (A): _____

RECURSOS NATURAIS DA TERRA

O HOMEM UTILIZA OS RECURSOS NATURAIS DA TERRA.

RECURSO NATURAL É TUDO QUE É RETIRADO DA NATUREZA.

ELES PODEM SER DE:

- **ORIGEM ANIMAL:** RETIRADO DOS ANIMAIS.
- **ORIGEM VEGETAL:** RETIRADOS DOS VEGETAIS.
- **ORIGEM MINERAL:** RETIRADOS DA NATUREZA.

O BRASIL É MUITO RICO EM RECURSO NATURAIS, E ELE ESTÁ A MAIOR FLORESTA EQUATORIAL E DE MAIOR BIODIVERSIDADE DO MUNDO: A FLORESTA AMAZÔNICA.

ENTRE OS RECURSO NATURAIS MAIS DESRESPEITADOS, ESTÃO OS RIOS, ONDE O HOMEM JOGA TODO TIPO DE LIXO.

NO SOLO, TAMBÉM TEM DE HAVER UM GRANDE CUIDADO EM RELAÇÃO À PRESERVAÇÃO.

DO SOLO RETIRAMOS OS VEGETAIS PARA A NOSSA ALIMENTAÇÃO, CONFECÇÃO DE ROUPA, ESSÊNCIAS PARA MEDICAÇÃO E OUTROS.

ESCREVA SOBRE A IMPORTÂNCIA DE CADA UM DOS RECURSOS NATURAIS CITANDO PARA A EXISTÊNCIA DOS SERES VIVOS.

ÁGUA	SOLO	AR	SOL



ESCOLA MUNICIPAL LAURO LUIZ
Anos Iniciais do Ensino Fundamental
Rua Treze de Maio, nº 311 Fone: (45) 3233-1222
Email: escolalauroluiz@hotmail.com
CAMPO BONITO CEP: 86.450-000 PARANÁ

TURMA 2º ANO “B” – ATIVIDADES REMOTAS

2º ANO - REPOSIÇÃO DO DIA (23/04/20 e 30/04/20). EDUCAÇÃO FISICA

ALUNO (A): _____

PROFESSOR (A): _____ Data: _____

PETECA.

CONSTRUINDO UMA PETECA. SIGA OS PASSOS ABAIXO.



DEPOIS DE CONSTRUÍDA AS PETECAS, BRINCAR COM A FAMÍLIA.

POSTAR VÍDEO NO GRUPO



ESCOLA MUNICIPAL LAURO LUIZ
Anos Iniciais do Ensino Fundamental
Rua Treze de Maio, nº 311 Fone: (45) 3233-1222
Email: escolalauroluiz@hotmail.com
CAMPO BONITO CEP: 86.450-000 PARANÁ

TURMA 2º ANO B – CIÊNCIAS REPOSIÇÃO REFERENTE AO DIA 29/04/2020.

ALUNO (A): _____

PROFESSOR (A): _____ **DATA** ____/____/2020

1. MARQUE CORRETAMENTE:

PARA QUE SERVE A ÁGUA:

- () BEBER
- () COLOCAR O LIXO
- () ESCREVER
- () LAVAR AS MÃOS



2. PINTE AS PLAQUINHAS QUE COMPLETAM A FRASE CORRETAMENTE:

Á ÁGUA BOA PARA BEBER É...

DA TORNEIRA

SUJA

FILTRADA

POLUIDA

LIMPA



MEU CORPO É ASSIM! ESCREVA A PARTE DO CORPO INDICADA PELO NUMERAL.



- 7 - _____
- 8 - _____
- 9 - _____
- 10 - _____

- 1 - _____
- 2 - _____
- 3 - _____
- 4 - _____
- 5 - _____
- 6 - _____

