



ESCOLA MUNICIPAL LAURO LUIZ

Anos Iniciais do Ensino Fundamental
Rua Treze de Maio, nº 311 Fone: (45) 3233-1222
Email: escolalauro Luiz@hotmail.com
CAMPO BONITO CEP: 86.450-000 PARANÁ

2º ANO C- ATIVIDADES REMOTA DE SÁBADO REPOSIÇÃO DO DIA

ALUNO (A): _____

PROFESSOR (A): _____

DATA: _____

(13/042020) LÍNGUA PORTUGUESA

01. COMPLETE AS PALAVRAS COM A SÍLABA INICIAL CORRESPONDENTE.



□ TO



□ LO



□ LO



□ VETA



□ VIÃO



□ LINHA



□ RAFA

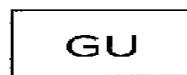


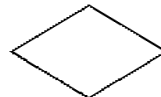
□ LOSO



□ LATINA

JUNTE AS SÍLABAS DE ACORDO COM AS FIGURAS GEOMÉTRICAS E FORME PALAVRAS COM G.
















ESCOLA MUNICIPAL LAURO LUIZ

Anos Iniciais do Ensino Fundamental
Rua Treze de Maio, nº 311 Fone: (45) 3233-1222
Email: escolalauro Luiz@hotmail.com
CAMPO BONITO CEP: 85.450-000 PARANÁ

2º ANO C – ATIVIDADE REMOTA DE SÁBADO REPOSIÇÃO DO DIA
(14/04/2020).HISTÒRIA

ALUNO (A): _____

PROFESSOR (A): _____

NUMERE CORRETAMENTE AS PROFISSÕES AOS OBJETOS QUE TÊM
A VER COM SEU TRABALHO:

1	2	3	4
professor	costureira	sorveteiro	cantor

<input type="radio"/>	GELO		<input type="radio"/>	SABOR
<input type="radio"/>	CADERNO		<input type="radio"/>	LINHA
<input type="radio"/>	TECIDO		<input type="radio"/>	MÚSICA
<input type="radio"/>	MICROFONE		<input type="radio"/>	ALUNO
<input type="radio"/>	CANETA		<input type="radio"/>	ROUPA
<input type="radio"/>	MODELO		<input type="radio"/>	ESCOLA
<input type="radio"/>	GIZ		<input type="radio"/>	SORVETE
<input type="radio"/>	REFRESCO		<input type="radio"/>	CANÇÃO
<input type="radio"/>	MELODIA	<input type="radio"/>	TESOURA	
<input type="radio"/>	MOLDE	<input type="radio"/>	QUADRO	



ESCOLA MUNICIPAL LAURO LUIZ

Anos Iniciais do Ensino Fundamental
Rua Treze de Maio, nº 311 Fone: (45) 3233-1222
Email: escolalauro Luiz@hotmail.com
CAMPO BONITO CEP: 85.450-000 PARANÁ

2º ANO C- ATIVIDADES REMOTA DE SÁBADO REPOSIÇÃO DO DIA
(14/04/2020) MATEMÁTICA.

ALUNO (A): _____

PROFESSOR (A): _____

DATA: _____


1. ESCREVA QUAL INSTRUMENTO SERÁ UTILIZADO EM CADA SITUAÇÃO:

A) OS ALUNOS UTILIZAM A _____ NA SALA DE AULA.

B) A COSTUREIRA USA A _____ PARA TIRAR MEDIDAS.

C) O PEDREIRO UTILIZA _____ PARA TRABALHAR.

2. SABRINA COMPROU 5 METROS DE TECIDO, E MARCELA, 7 METROS.
QUANTOS METROS AS DUAS COMPRARAM JUNTAS?



DESENHO	OPERAÇÃO

ELAS COMPRARAM JUNTAS _____ METROS DE TECIDO.