



ESCOLA MUNICIPAL LAURO LUIZ

Anos Iniciais do Ensino Fundamental
Rua Treze de Maio, nº 311 Fone: (45) 3233-1222
Email: escolalauro Luiz@hotmail.com
CAMPO BONITO CEP: 85.450-000 PARANÁ

TURMA 3 ANO – ATIVIDADES REMOTAS

ALUNO (A): _____

PROFESSOR (A): _____

LINGUA PORTUGUESA

ATIVIDADE 01

LEITURA E ORTOGRAFIA

PALAVRAS COM QU.

A LETRA **Q** SEMPRE É ACOMPANHADA DA VOGAL **U**, MAS, ALGUMAS VEZES, QUANDO PRONUCIAMOS A PALAVRA, O SOM DO **U** NÃO APARECE.

PRONUCIAMOS O **U** DO **QU** QUANDO A VOGAL SEGUINTE É **A** OU **O**:

EXEMPLO: AQUÁRIO, AQUOSO.

O **U** PODE OU NÃO SER PRONUCIADO QUANDO A VOGAL SEGUINTE É **E** OU **I**:

EXEMPLO: TRANQUILO, QUILO, CINQUENTA, QUEIJO.

1- COMPLETE COM **QUA**, **QUE** OU **QUI**:

_____BE

_____LO

LE_____

_____DA

_____TANDA

_____DRA

_____ABO

A_____RIO

BAS_____TE

_____RIDO

PE_____NO

_____RO

TO_____

MOLE_____

_____DRO

MA_____NA

_____TUTE

_____DRADO

2- ESCOLHA QUATRO PALAVRAS DE ATIVIDADES ACIMA E FORME FRASES:



ESCOLA MUNICIPAL LAURO LUIZ

Anos Iniciais do Ensino Fundamental
 Rua Treze de Maio, nº 311 Fone: (45) 3233-1222
 Email: escolalauro Luiz@hotmail.com
 CAMPO BONITO CEP: 85.450-000 PARANÁ


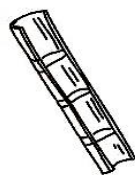

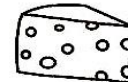

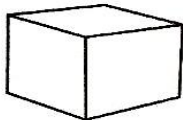
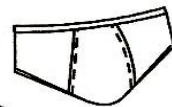




3-OBSERVE OS DESENHOS E REALIZE O CAÇA PALAVRAS DIVERTIDO COM ORTOGRAFIA C e Q:

C

CAÇA-PALAVRAS DIVERTIDO

Q

C	O	R	D	Ã	O	X	C	U	E	C	A
M	V	T	A	Q	U	A	R	A	Q	O	I
A	A	Q	U	I	A	B	O	C	U	Q	S
N	Q	U	A	T	I	I	R	A	E	U	Q
D	U	I	M	C	U	B	O	N	I	E	U
I	E	L	S	P	L	R	S	I	J	I	E
O	I	O	P	A	E	M	G	V	O	R	I
C	R	M	I	N	Q	S	P	E	M	O	R
A	O	T	O	C	U	I	A	T	I	N	O
Y	X	C	A	M	E	L	O	E	C	A	S
C	A	Q	U	I	T	R	I	O	C	A	S
O	C	A	C	A	U	K	Q	U	A	T	I
L	C	C	A	V	A	L	O	S	A	T	O
A	A	B	C	R	U	C	O	L	A	R	S
R	E	S	Q	U	E	L	E	T	O	A	B
B	I	L	B	O	Q	U	Ê	I	W	E	J





LINGUA PORTUGUESA

ATIVIDADE 02

TEXTO INFORMATIVO

O BILBUQUÊ

O BILBUQUÊ É UM BRINQUEDO MUITO ANTIGO ENCONTRADO EM DIVERSOS PAÍSES. ATÉ OS DIAS DE HOJE NINGUÉM DESCOBRIU QUEM INVENTOU ESSE BRINQUEDO. PINTURAS DE ARTISTAS EUROPEUS INDICAM QUE O BRINQUEDO ERA JOGADO PELOS REAIS, NOBRES E POR PESSOAS COMUNS.

O BRINQUEDO BILBUQUÊ POSSIBILITA A CRIANÇA, ATRAVÉS DA BRINCADEIRA O DESENVOLVIMENTO DA MOTRICIDADE, NOÇÃO ESPACIAL, LATERALIDADE, CONCENTRAÇÃO E ATENÇÃO.

ATIVIDADES:

a) COPIE DO TEXTO A PALAVRA BILBUQUÊ:

b) SEPRE EM SÍLABAS A PALAVRA BILBUQUÊ E CONTE QUANTAS SÍLABAS TÊM:

c) DESTAQUE COM LÁPIS DE COR NO TEXTO AS PALAVRAS QUE TEM AS LETRAS **C** e **Q**.
ESCREVA AS PALAVRAS ABAIXO:

d) VOCÊ CONHECE ESSE BRINQUEDO?

NA LINGUA PORTUGUESA, TAMBÉM EM ALGUNS MOMENTOS PODEMOS SER CRIATIVOS E BRINCAR, MAS SEMPRE LEMBRANDO QUE TEMOS UM PROPÓSITO, **ESTUDAR**.

AGORA CONVIDE SEUS PAIS PARA AJUDAR VOCÊ A CONFECCIONAR O BRINQUEDO **BILBUQUÊ**.

MATERIAIS NECESSÁRIO



ESCOLA MUNICIPAL LAURO LUIZ

Anos Iniciais do Ensino Fundamental
Rua Treze de Maio, nº 311 Fone: (45) 3233-1222
Email: escolalauro Luiz@hotmail.com
CAMPO BONITO CEP: 85.450-000 PARANÁ

- 1 GARRAFA PET
- BARBANTE
- FAÇA UMA BOLINHA DE PAPEL
- FITA COLORIDA PARA ENFEITAR
- TESOURA

MODO DE FAZER

CORTE A GARRAFA DEIXANDO EM FORMA DE UMA FUNIL PRENDA UM BARBANTE DE 40CM NA TAMPA, NA OUTRA PONTA DO BARBANTE PRENDA UMA BOLINHA DE PAPEL BEM FIRME. AGORA É SO VOCÊ BRINCAR.





ESCOLA MUNICIPAL LAURO LUIZ

Anos Iniciais do Ensino Fundamental
Rua Treze de Maio, nº 311 Fone: (45) 3233-1222
Email: escolalauro Luiz@hotmail.com
CAMPO BONITO CEP: 85.450-000 PARANÁ

TURMA 3 ANO – ATIVIDADES REMOTAS

ALUNO (A): _____

PROFESSOR (A): _____

MATEMÁTICA

ATIVIDADE 01

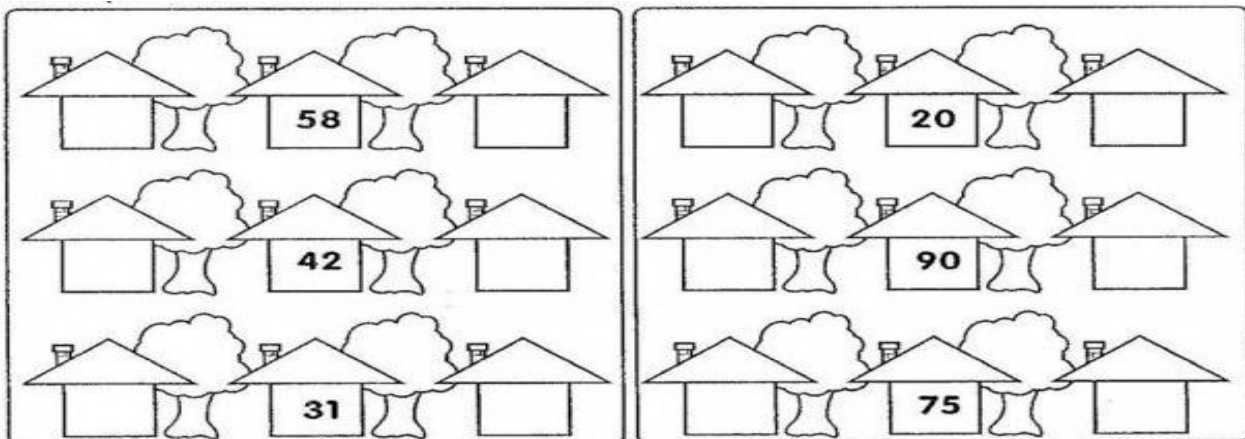
NÚMEROS

1-ESCREVA NÚMEROS DE 100 ATÉ 200:

100-101-----

2- NÚMEROS VIZINHOS:

COMPLETE:



ADIVINHE QUE NÚMERO SOU EU?

FICO ENTRE O 13 E O 15 _____

FICO ENTRE O 35 E O 37 _____



FICO ATRÁS DO 52 _____

FICO A FRENTE DO 67 _____

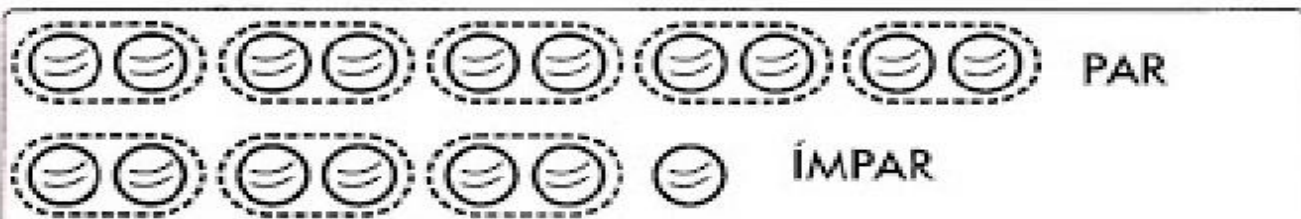
3-RESPONDA:

QUE NÚMERO ESTÁ ENTRE O 20 E 22? _____

QUE NÚMERO VEM ANTES DO 60 ? _____

QUE NÚMERO VEM APÓS O 79 ? _____



4-NÚMEROS PARES E ÍMPARES:



Quando formamos grupos de 2 e não sobram elementos é porque o número é par.

Quando formamos grupos de 2 e sobra 1 elemento, o número é ímpar.

Forme grupos de dois em dois e coloque **(P)** quando for par e **(I)** quando for ímpar.





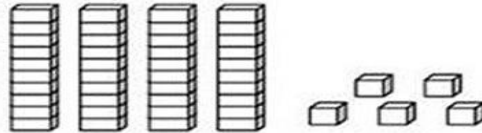
MATEMÁTICA

ATIVIDADES 02

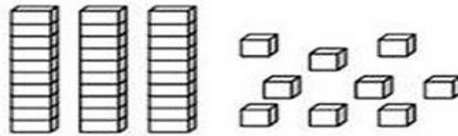
NÚMEROS E QUANTIDADES:

1- PINTE AS PEÇAS DO MATERIAL DOURADO DE ACORDO COM OS NÚMEROS INDICADOS:

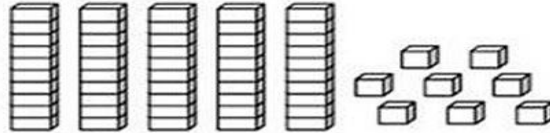
33



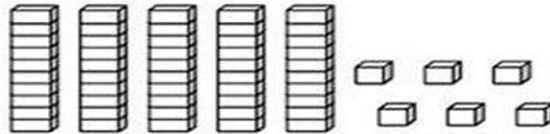
29



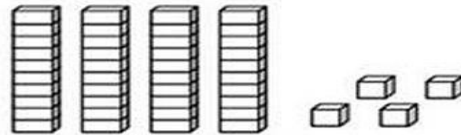
46



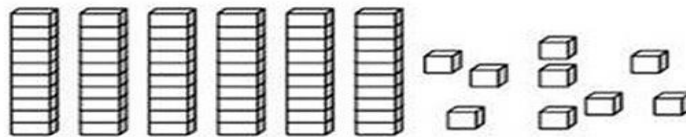
34



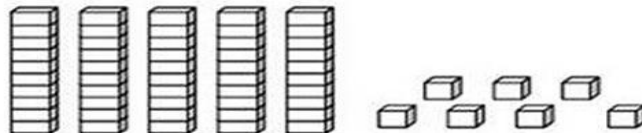
21



48



32





ESCOLA MUNICIPAL LAURO LUIZ

Anos Iniciais do Ensino Fundamental
Rua Treze de Maio, nº 311 Fone: (45) 3233-1222
Email: escolalauro Luiz@hotmail.com
CAMPO BONITO CEP: 85.450-000 PARANÁ

2- ADIÇÃO:

$$\begin{array}{r} 10 \\ + 25 \\ \hline \end{array} \quad \begin{array}{r} 54 \\ + 12 \\ \hline \end{array} \quad \begin{array}{r} 26 \\ + 22 \\ \hline \end{array} \quad \begin{array}{r} 53 \\ + 12 \\ \hline \end{array} \quad \begin{array}{r} 32 \\ + 31 \\ \hline \end{array}$$

$$\begin{array}{r} 40 \\ 16 \\ + 42 \\ \hline \end{array} \quad \begin{array}{r} 12 \\ 33 \\ + 13 \\ \hline \end{array} \quad \begin{array}{r} 18 \\ 1 \\ + 40 \\ \hline \end{array} \quad \begin{array}{r} 25 \\ 13 \\ + 21 \\ \hline \end{array} \quad \begin{array}{r} 14 \\ 14 \\ + 60 \\ \hline \end{array}$$

$$\begin{array}{r} 23 \\ 21 \\ + 3 \\ \hline \end{array} \quad \begin{array}{r} 21 \\ 60 \\ + 18 \\ \hline \end{array} \quad \begin{array}{r} 53 \\ 24 \\ + 11 \\ \hline \end{array} \quad \begin{array}{r} 20 \\ 26 \\ + 51 \\ \hline \end{array} \quad \begin{array}{r} 14 \\ 23 \\ + 51 \\ \hline \end{array}$$

$$\begin{array}{r} 4 \\ 35 \\ + 20 \\ \hline \end{array} \quad \begin{array}{r} 36 \\ 21 \\ + 31 \\ \hline \end{array} \quad \begin{array}{r} 22 \\ 5 \\ + 60 \\ \hline \end{array} \quad \begin{array}{r} 36 \\ 10 \\ + 43 \\ \hline \end{array} \quad \begin{array}{r} 22 \\ 40 \\ + 27 \\ \hline \end{array}$$

3- SITUAÇÕES PROBLEMAS:

- a) EDUARDO TEM 13 SELOS E ALBERTO TEM 19 SELOS. QUANTOS SELOS TÊM EDUARDO E ALBERTO JUNTO?

OPERAÇÃO

RESPOSTA



ESCOLA MUNICIPAL LAURO LUIZ

Anos Iniciais do Ensino Fundamental
Rua Treze de Maio, nº 311 Fone: (45) 3233-1222
Email: escolalauro Luiz@hotmail.com
CAMPO BONITO CEP: 85.450-000 PARANÁ

- b) CLÁUDIO COLHEU 37 MANGAS E LIA 15. QUANTAS MANGAS OS DOIS COLHERAM JUNTOS?

OPERAÇÃO

RESPOSTA

- c) HELENA JUNTOU 37 TAMPINHAS DE REFRIGERANTES PRA FAZER UNS BRINQUEDOS. ELA JÁ USOU 14 PARA FAZER UM BONEQUINHO. QUANTAS TAMPINHAS AINDA NÃO FORAM USADAS?

OPERAÇÃO

RESPOSTA

- d) PARA COMPLETAR O ÁLBUM DE FIGURINHAS FALTAM 17 PARA RONALDO SABENDO-SE QUE O ÁLBUM COMPLETO TEM 68. QUANTAS FIGURINHAS ELE JÁ TEM?

OPERAÇÃO

RESPOSTA



ESCOLA MUNICIPAL LAURO LUIZ

Anos Iniciais do Ensino Fundamental
Rua Treze de Maio, nº 311 Fone: (45) 3233-1222
Email: escolalauro Luiz@hotmail.com
CAMPO BONITO CEP: 85.450-000 PARANÁ

TURMA 3 ANO- ATIVIDADES REMOTAS

ALUNO (A): _____

PROFESSOR (A): _____

HISTÓRIA

ATIVIDADES 01

SUA HISTÓRIA:UM POUCO SOBRE VOCÊ.

TODOS NÓS NO DECORRER DE NOSSAS VIDAS, CONSTRUIMOS UMA HISTÓRIA COM A NOSSA FAMÍLIA.ESSA HISTÓRIA É FORMADA POR FATOS MARCANTES DESDE O NOSSO NASCIMENTO.

SABEMOS QUE A FUNÇÃO DA FAMÍLIA É INCENTIVAR O DESENVOLVIMENTO CULTURAL E APRENDIZADO E BONS COMPORTAMENTOS DAS CRIANÇAS E JOVENS.

MEU QUERIDO ALUNO (a) AGORA VAMOS FALAR UM POUCO DE VOCÊ.

a) COM AJUDA DE SEUS PAIS ESCREVA SUAS CARACTERÍSTICAS.

b) O QUE VOCÊ QUER SER QUANDO CRESCER?

c) MINHAS COISAS FAVORITAS: ESCREVER:

ESPORTE: _____

MÚSICA: _____

FILME: _____

PASSEIO: _____

COMIDA: _____

ROUPA: _____



ESCOLA MUNICIPAL LAURO LUIZ

Anos Iniciais do Ensino Fundamental
Rua Treze de Maio, nº 311 Fone: (45) 3233-1222
Email: escolalauroluiz@hotmail.com
CAMPO BONITO CEP: 85.450-000 PARANÁ

DESENHE SUA FAMÍLIA:

HISTÓRIA

ATIVIDADE 02

VAMOS DAR CONTINUIDADE A NOSSA ATIVIDADE DE HISTÓRIA.

UM POUCO SOBRE VOCÊ.

d) LIVRO QUE VOCÊ LEU E GOSTOU.

e) MINHA COR PREFERIDA.



ESCOLA MUNICIPAL LAURO LUIZ

Anos Iniciais do Ensino Fundamental
Rua Treze de Maio, nº 311 Fone: (45) 3233-1222
Email: escolalauro Luiz@hotmail.com
CAMPO BONITO CEP: 85.450-000 PARANÁ

f) PESSOAS QUE MAIS GOSTO.


g) NESTE MOMENTO, NÓS ESTAMOS NO PRESENTE, AS NOSSAS ATIVIDADES, SEJA COM A FAMÍLIA, NO SOCIAL E ESCOLAR ESTÃO COM ALGUNS CUIDADOS ESSENCIAIS NO NOSSO DIA –A- DIA, MAS LOGO TUDO ISSO VAI PASSAR.

AGORA RESPONDA:

O QUE VOCÊ ESPERA PARA O FUTURO?

FANTOCHES DA FAMÍLIA

Pinte os fantoches, recorte-os e cole-os no palito de picolé. As crianças poderão dramatizar com os fantoches a sua história.





ESCOLA MUNICIPAL LAURO LUIZ

Anos Iniciais do Ensino Fundamental
Rua Treze de Maio, nº 311 Fone: (45) 3233-1222
Email: escolalauro Luiz@hotmail.com
CAMPO BONITO CEP: 85.450-000 PARANÁ

TURMA 3 ANO – ATIVIDADES REMOTAS

ALUNO (A): _____


PROFESSOR (A): _____

GEOGRAFIA

ATIVIDADES 01

LOCALIZAÇÃO DA RUA E PONTOS DE REFERÊNCIA.

TEXTO INFORMATIVO/ LEITURA.



O NOSSO ENDEREÇO INDICA O LUGAR ONDE MORAMOS SE QUISERMOS DIZER A ALGUÉM COMO CHEGAR ATÉ NOSSA CASA, O CAMINHO QUE PRECISA PERCORRER PARA NÃO SE PERDER, SERÁ NECESSÁRIO USARMOS AS REFERÊNCIAS, MAS O QUE SÃO REFERÊNCIAS? QUE REFERÊNCIAS PODEMOS USAR?

REFERÊNCIAS: SÃO ALGUNS ELEMENTOS QUE PODEM SER USADOS PARA NÓS INFORMARMOS E CONSEQUENTEMENTE NOS **LOCALIZARMOS** COMO POR EXEMPLO:

PERTO DA PADARIA.

PERTO DA ESCOLA.

PRÓXIMO DO SUPERMERCADO.

PERTO DO POSTO DE SAÚDE.

EM FRENTE À IGREJA.

AO LADO DA FARMÁCIA.ETC...



ESCOLA MUNICIPAL LAURO LUIZ

Anos Iniciais do Ensino Fundamental
Rua Treze de Maio, nº 311 Fone: (45) 3233-1222
Email: escolalauro Luiz@hotmail.com
CAMPO BONITO CEP: 85.450-000 PARANÁ

ATIVIDADES:

1- AGORA QUE JÁ COMPREENDEMOS O QUE É PONTO DE REFERÊNCIA VAMOS DESENHAR O PERCURSO DE CASA ATÉ NA ESCOLA NÃO SE ESQUEÇA DE REGISTRAR ALGUNS PONTOS DE REFERÊNCIAS.

2- AGORA ESCREVA UM PERCURSO LONGO E OUTRO CURTO QUE VOCÊ COSTUMA FAZER. DESCREVA O QUE VOCÊ VÊ NESSES DOIS PERCURSOS.

a) O PERCURSO LONGO.

b) O PERCURSO CURTO.

3- REGISTRE ABAIXO O NOME DA RUA QUE VOCÊ MORA ATUALMENTE?



ESCOLA MUNICIPAL LAURO LUIZ

Anos Iniciais do Ensino Fundamental
Rua Treze de Maio, nº 311 Fone: (45) 3233-1222
Email: escolalauroluiz@hotmail.com
CAMPO BONITO CEP: 85.450-000 PARANÁ

4- O QUE HÁ AO LONGO DA SUA RUA:

ÁRVORE

ORELHÃO

CAIXA DE CORREIO

COMÉRCIO

ESCOLA

INDÚSTRIA

IGREJA

EDIFÍCIO

PONTO DE ÔNIBUS

5- OBSERVEM O DESENHO:



a) O SOL NASCE NO _____ E SE PÕE NO _____

b) O BRAÇO DIREITO ESTÁ INDICANDO O _____ E O
ESQUERDO ESTÁ INDICANDO O _____

c) Á FRENTE DO CORPO ESTÁ O _____ E ATRÁS O _____

GEOGRAFIA

ATIVIDADES 02

CONFORME A ATIVIDADE DE GEOGRAFIA 01;
FAÇA A LEITURA DO TEXTO INFORMATIVO NOVAMENTE:
PERCORRENDO AS DISTÂNCIAS DA RUA, USANDO AS REFERÊNCIAS:

O NOME DA NOSSA RUA
TODO MUNDO SABE DIZER



ESCOLA MUNICIPAL LAURO LUIZ

Anos Iniciais do Ensino Fundamental
Rua Treze de Maio, nº 311 Fone: (45) 3233-1222
Email: escolalauro Luiz@hotmail.com
CAMPO BONITO CEP: 85.450-000 PARANÁ

MAS O QUE ELA SIGNIFICA
SÓ QUEM QUE PODE SABER.

FIQUE SABENDO:

GERALMENTE O NOME DAS RUAS TEM UM PROPÓSITO DE HOMENAGEAR ALGUMA PESSOA, DATA, ALGUM LUGAR OU ACONTECIMENTO HISTÓRICO.

1- ESCREVA:

VOCÊ CONHECE ALGUMAS PESSOAS OU FAMÍLIARES EM NOSSO MUNICÍPIO, QUE FORAM HOMENAGEADOS, COM SEU NOME EM ALGUM LUGAR PÚBLICO?

NOME: _____

LUGAR: _____

SABEMOS QUE A RUA É UM ESPAÇO DE CIRCULAÇÃO.

RUA: É UMA VIA PÚBLICA URBANA ONDE AS PESSOAS TRANSITAM. É UM ESPAÇO PÚBLICO NO QUAL SE TEM O DIREITO DE IR E VIR, NO SEU ENTORNO, TEM CASAS, PRÉDIOS, PRAÇAS, COMÉRCIOS, MUROS, JARDINS E RIOS.

2- PARA COLORIR E LEVAR O MENINO ATÉ A SUA ESCOLA.

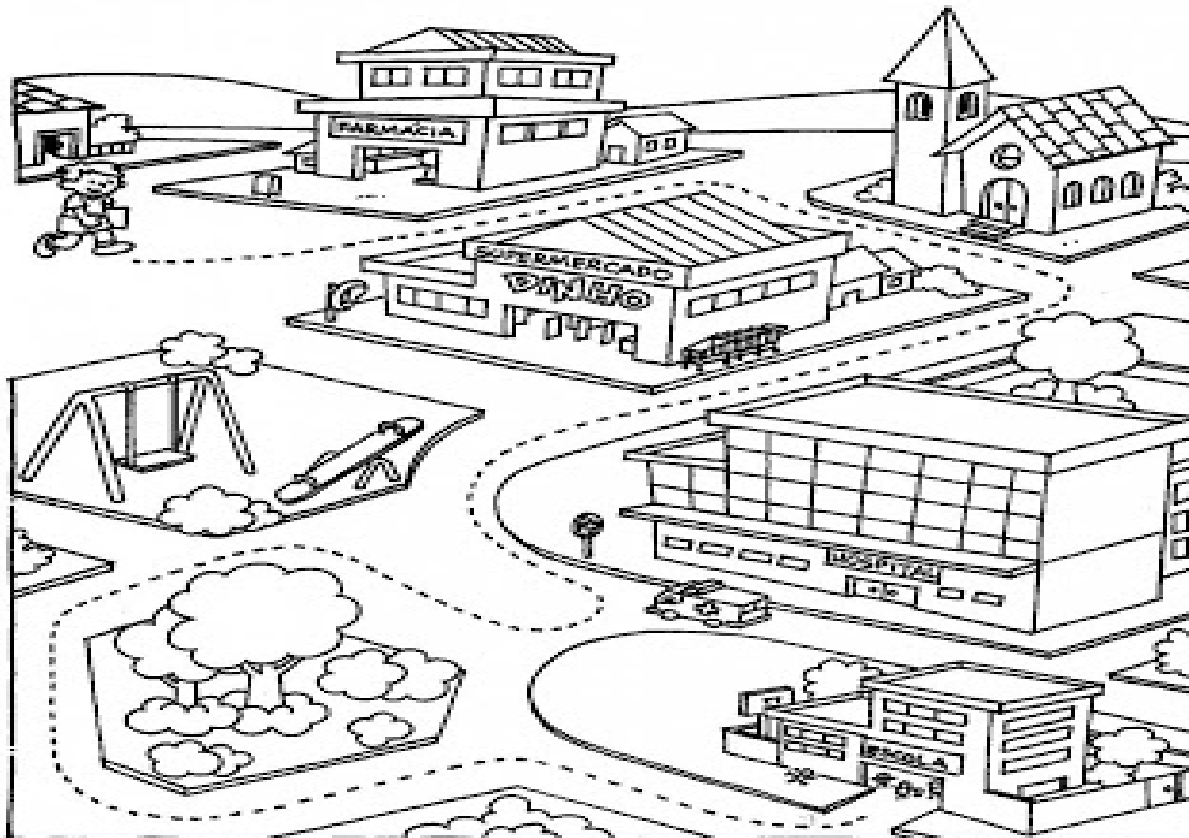
A RUA:

CUBRA COM O LÁPIS DE COR O CAMINHO QUE O MENINO GOSTA DE FAZER PARA CHEGAR À ESCOLA.



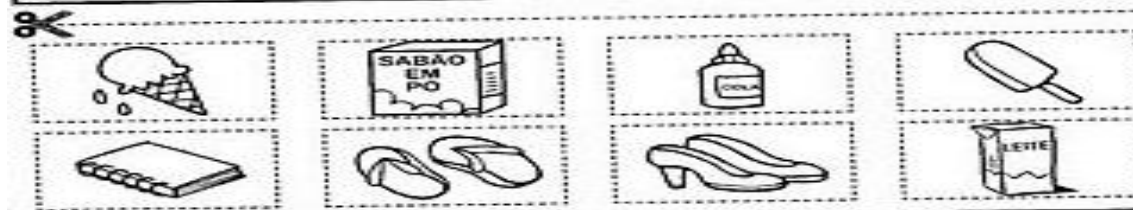
ESCOLA MUNICIPAL LAURO LUIZ

Anos Iniciais do Ensino Fundamental
Rua Treze de Maio, nº 311 Fone: (45) 3233-1222
Email: escolalauro Luiz@hotmail.com
CEP: 85.450-000 PARANÁ



1- RECORTE OS DESENHOS ABAIXO E COLE-OS NO QUADRO DE ACORDO COM O LOCAL EM QUE SÃO VENDIDOS.

SORVETERIA	SUPERMERCADO
PAPELARIA	SAPATARIA





ESCOLA MUNICIPAL LAURO LUIZ

Anos Iniciais do Ensino Fundamental
Rua Treze de Maio, nº 311 Fone: (45) 3233-1222
Email: escolalauro Luiz@hotmail.com
CAMPO BONITO CEP: 85.450-000 PARANÁ

TURMA 3 ANO – ATIVIDADES REMOTAS

ALUNO (A): _____

PROFESSOR (A): _____

ARTE 3º ANO – ATIVIDADES 3 E 4 – 2ª SEMANA

NESTA QUINZENA VOCÊ COM A AJUDA DE UM ADULTO DE SUA FAMÍLIA FARÃO MASINHA DE MODELAR. COLORINDO A MESMA COM UMA DAS CORES PRIMÁRIAS E SEGUNDÁRIAS QUE SÃO: VERMELHO, AZUL, AMARELO, VIOLETA, LARANJA E VERDE.

RECEITA:

1 XÍCARA DE SAL
4 XÍCARAS DE FARINHA DE TRIGO
1 XÍCARA E MEIA DE ÁGUA
3 COLHERES DE SOPA DE ÓLEO
1 PACOTE DE SUCO OU CORANTE

A RECEITA DE MASSA DE MODELAR É MUITO FÁCIL E LEGAL DE FAZER. EM UMA VASILHA GRANDE MISTURE A FARINHA E O SAL EM SEGUIDA ADICIONE A ÁGUA E O ÓLEO. MISTURE ATÉ QUE TODO O CONTEÚDO FORME UMA MASSA HOMOGÊNEA. SE FICAR MUITO MOLE VOCÊ PODE ADICIONAR MAIS FARINHA, E SE AINDA ESTIVER SECA E QUEBRADIÇA ADICIONE MAIS ÁGUA.

O ÚLTIMO INGREDIENTE É O CORANTE, VOCÊ PODE USAR UM CORANTE NATURAL COMO O COLORAU. A QUANTIDADE DE COLORAU QUE VOCÊ COLOCAR É QUE VAI DAR O TOM MAIS AVERMELHADO DA MASSINHA. VOCÊ PODE FAZER UMA MASSINHA BRANCA SEM ADICIONAR NENHUM CORANTE.

OBSERVAÇÃO: ANTES DE COLORIR DIVIDA A MASINHA EM PORÇÕES CONFORME AS CORES QUE VC TEM EM CASA. (PARA CONSERVAR A MASINHA POR MAIS TEMPO DEIXE NA GELADEIRA EM UM SACO PLÁSTICO QUANDO NÃO ESTIVER USANDO).

ATIVIDADE 3

COM A MASSINHA QUE VOCÊ FEZ, USE SUA CRIATIVIDADE E MOLDE O QUE GOSTA DE BRINCAR, CONVIDE SEUS FAMILIARES PARA AJUDAR. TIRE UMA FOTO DO QUE FOI CONSTRUÍDO E POSTE NO GRUPO DO WHATS.



ESCOLA MUNICIPAL LAURO LUIZ

Anos Iniciais do Ensino Fundamental
Rua Treze de Maio, nº 311 Fone: (45) 3233-1222
Email: escolalauroluiz@hotmail.com
CAMPO BONITO CEP: 85.450-000 PARANÁ

ATIVIDADE 4

ESCREVA O QUE ACHOU DE FAZER A MASINHA E PODER BRINCAR COM ELA.



ESCOLA MUNICIPAL LAURO LUIZ

Anos Iniciais do Ensino Fundamental
Rua Treze de Maio, nº 311 Fone: (45) 3233-1222
Email: escolalauro Luiz@hotmail.com
CAMPO BONITO CEP: 85.450-000 PARANÁ

TURMA 3º ANO _____ DISCIPLINA: CIÊNCIAS – ATIVIDADES REMOTAS

ALUNO (A): _____

PROFESSORA: _____ DATA ____ / ____ /2020

OLÁ! TUDO BEM? VOCÊ ESTÁ RECEBENDO O LIVRO DE CIÊNCIAS: **ÁPIS** PARA REALIZAR AS ATIVIDADES NO LIVRO. CUIDE BEM DO SEU LIVRO.

ATIVIDADE 1- DATA ____ / ____ /2020


- NA PÁGINA 8 E 9 – **AMBIENTE E SERES VIVOS**- OBSERVE A CENA E LEIA AS QUESTÕES QUE ESTÃO NO QUADRO. NÃO PRECISA ANOTAR NO CADERNO.
- NA PÁGINA 10 – **CONHECENDO OS ANIMAIS** – COMPLETE O QUADRO COM O MAIOR NÚMERO POSSÍVEL DE ANIMAIS.
- NA PÁGINA 11 SOMENTE LEITURA.
- NA PÁGINA 12, 13 E 14 – **DESCREVENDO E COMPARANDO ANIMAIS**- REALIZAR AS ATIVIDADES 1, 2 E 3 NO LIVRO.
- NA PÁGINA 15 SOMENTE LEITURA.

ATIVIDADE 2- DATA ____ / ____ /2020

- NA PÁGINA 16 - **CRIANDO CRITÉRIOS E AGRUPANDO** – LEITURA
- NA PÁGINA 17, 18 E 19 – REALIZAR AS ATIVIDADES: 1, 2, 3, 4, 5 E 6 NO LIVRO.

OBSERVAÇÃO: NÃO PRECISA ENTREGAR O LIVRO. COLAR A FOLHA NO CADERNO.

VAMOS COLORIR OS ANIMAIS?





ESCOLA MUNICIPAL LAURO LUIZ

Anos Iniciais do Ensino Fundamental
Rua Treze de Maio, nº 311 Fone: (45) 3233-1222
Email: escolalauro Luiz@hotmail.com
CAMPO BONITO CEP: 85.450-000 PARANÁ

TURMA (3º ANO _____) – EDUCAÇÃO FÍSICA - ATIVIDADES REMOTAS

ALUNO (A): _____

PROFESSOR (A): _____

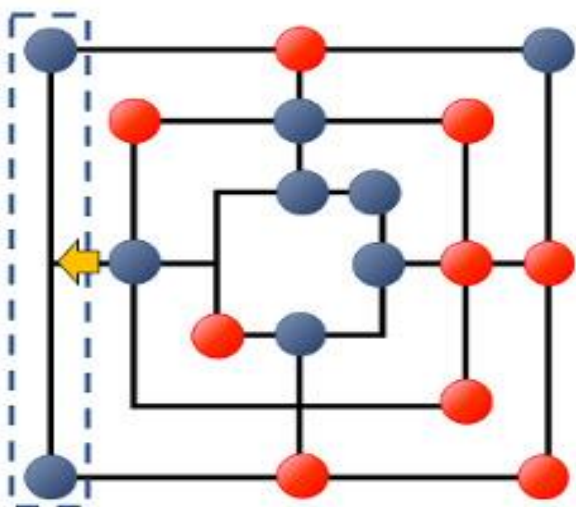
ATIVIDADE 1: LEITURA E RESPONDER AS QUESTÕES SOBRE: ORIGEM E REGRAS DO JOGO.

TRILHA

TRILHA É UM ANTIGO JOGO SIMPLES DE JOGAR E BASTANTE FAMOSO NO MUNDO TODO. ALGUNS PESQUISADORES ACREDITAM QUE VARIANTES DESTES JOGOS JÁ ERAM CONHECIDAS PELOS EGÍPCIOS, CERCA DE 1000 A.C. O JOGO FOI BASTANTE POPULAR NA EUROPA MEDIEVAL E TABULEIROS ANTIGOS FORAM ENCONTRADOS EM CATEDRAIS E MONASTÉRIOS NA INGLATERRA. AO REDOR DO MUNDO, O JOGO DE TRILHA É CONHECIDO POR VÁRIOS NOMES DIFERENTES, COMO "JOGO DO MOINHO", "MERELS", "MOREL" E "NINE MEN'S MORRIS".

COMO JOGAR TRILHA

TRILHA É JOGO PARA DOIS JOGADORES. O JOGO É FORMADO POR 18 PEÇAS (2 CONJUNTOS DE 9 PEÇAS DE CORES DIFERENTES) E UM TABULEIRO. O TABULEIRO É FORMADO POR 3 QUADRADOS CONCÊNTRICOS QUE POSSUEM MARCAS NOS VÉRTICES E NOS PONTOS CENTRAIS DAS ARESTAS. ESTES QUADRADOS SÃO LIGADOS ENTRE SI PELO PONTO CENTRAL. NO INÍCIO DO JOGO, UM JOGADOR RECEBE NOVE PEÇAS DE UMA COR E O OUTRO RECEBE AS NOVE PEÇAS DA OUTRA COR. O OBJETIVO DO JOGO É REMOVER AS PEÇAS INIMIGAS ATÉ QUE RESTEM DUAS. UM JOGADOR CONSEGUE REMOVER UMA PEÇA DE SEU OPOSTO CADA VEZ QUE AO COLOCAR OU MOVIMENTAR UMA DE SUAS PRÓPRIAS PEÇAS CONSEGUE FORMAR UMA LINHA (HORIZONTAL OU VERTICAL) DE 3 PEÇAS ALINHADAS DA SUA COR. ESTE ALINHAMENTO DE 3 PEÇAS É CHAMADO DE "MOINHO".





ESCOLA MUNICIPAL LAURO LUIZ

Anos Iniciais do Ensino Fundamental
Rua Treze de Maio, nº 311 Fone: (45) 3233-1222
Email: escolalauro Luiz@hotmail.com
CAMPO BONITO CEP: 85.450-000 PARANÁ

A PARTIDA SE INICIA COM O TABULEIRO VAZIO E OS JOGADORES SE ALTERNAM COLOCANDO SUAS PEÇAS NO TABULEIRO. QUANDO TODAS AS PEÇAS FOREM COLOCADAS, OS JOGADORES SE ALTERNAM DESLIZANDO-AS E TENTANDO FAZER UMA LINHA DE TRÊS PEÇAS CONSECUTIVAS DA AÇO VAZIO ADJACENTE DIRETAMENTE CONECTADO POR UMA LINHA. SE A QUALQUER MOMENTO DURANTE A ETAPA DE COLOCAÇÃO DE PEÇAS OU APÓS O DESLIZAMENTO DE UMA PEÇA UM JOGADOR CONSEGUIR FORMAR O "MOINHO", ENTÃO ELE PODE REMOVER UMA PEÇA DO ADVERSÁRIO, DESDE QUE A PEÇA A SER REMOVIDA NÃO FAÇA PARTE DE OUTRO MOINHO (PORÉM SE NÃO HOUVEREM PEÇAS ADVERSÁRIAS A NÃO SER EM MOINHOS, ENTÃO É PERMITIDO REMOVER UMA PEÇA DE MOINHO).

QUANDO UM JOGADOR TEM APENAS TRÊS PEÇAS RESTANTES, A REGRA DO DESLIZAMENTO SE ALTERA E O JOGADOR PASSA A PODER MOVER UMA PEÇA SUA PARA QUALQUER PONTO MARCADO NO TABULEIRO.

A PARTIDA TERMINA QUANDO UM JOGADOR FICAR COM APENAS DUAS PEÇAS E O ADVERSÁRIO É DECLARADO VENCEDOR. UMA OUTRA FORMA DE GANHAR A PARTIDA É DEIXAR O ADVERSÁRIO SEM NENHUMA JOGADA VÁLIDA (OU SEJA, DEVIDO À DISPOSIÇÃO DAS PEÇAS O Oponente fica "TRANCADO" e impedido de se movimentar). EXISTE AINDA UMA CONDIÇÃO DE EMPATE: SE AMBOS JOGADORES FICAREM COM 3 PEÇAS EM JOGO E EM 10 JOGADAS NÃO HOUVER VENCEDOR, O JOGO TERMINARÁ E SERÁ DECLARADO UM EMPATE.

1- TRILHA É UM ANTIGO JOGO SIMPLES DE JOGAR E BASTANTE FAMOSO NO MUNDO TODO. ALGUNS PESQUISADORES ACREDITAM QUE VARIANTES DESTA JOGO JÁ ERAM CONHECIDAS PELOS:

() ITALIANOS () EGÍPCIOS

2- AO REDOR DO MUNDO, COMO O JOGO DE TRILHA É CONHECIDO?

3- TRILHA É UM JOGO PARA:

() 1 JOGADOR () 2 JOGADORES

4- O JOGO É FORMADO POR:

() 10 PEÇAS () 18 PEÇAS



ESCOLA MUNICIPAL LAURO LUIZ

Anos Iniciais do Ensino Fundamental
Rua Treze de Maio, nº 311 Fone: (45) 3233-1222
Email: escolalauroluiz@hotmail.com
CAMPO BONITO CEP: 85.450-000 PARANÁ

5- O TABULEIRO É FORMADO POR:

() DOIS QUADRADOS () TRÊS QUADRADOS

6-MARQUE (V) QUANDO A QUESTÃO FOR VERDADEIRA OU (F) SE A QUESTÃO FOR FALSA:

() NO INÍCIO DO JOGO, UM JOGADOR RECEBE NOVE PEÇAS DE UMA COR E O OUTRO RECEBE AS NOVE PEÇAS DA OUTRA COR.

() A PARTIDA SE INICIA COM O TABULEIRO VAZIO E OS JOGADORES SE ALTERNAM COLOCANDO SUAS PEÇAS NO TABULEIRO. QUANDO TODAS AS PEÇAS FOREM COLOCADAS, OS JOGADORES SE ALTERNAM DESLIZANDO-AS E TENTANDO FAZER UMA LINHA DE TRÊS PEÇAS CONSECUTIVAS DA MESMA COR (O "MOINHO").

() A PARTIDA TERMINA QUANDO UM JOGADOR FICAR COM APENAS DUAS PEÇAS E O ADVERSÁRIO É DECLARADO VENCEDOR.



ESCOLA MUNICIPAL LAURO LUIZ

Anos Iniciais do Ensino Fundamental
Rua Treze de Maio, nº 311 Fone: (45) 3233-1222
Email: escolalauro Luiz@hotmail.com
CAMPO BONITO CEP: 85.450-000 PARANÁ

ATIVIDADE 2 – AGORA VAMOS JOGAR! TABULEIRO E PEÇAS

