



3º ANO-ATIVIDADES REMOTAS 10º QUINZENA (11/09 à 25/09/2020.)

LÍNGUA PORTUGUESA

ALUNO (A): _____

PROFESSOR (A): _____ DATA: ____/____/2020

O RATO E A RÃ

UM RATO DESEJAVA ATRAVESSAR UM RIO, MAS TEMIA, POIS NÃO SABIA NADAR. PEDIU AJUDA A UMA RÃ, QUE CONCORDOU DESDE QUE O RATO FOSSE AMARRADO A UMA DAS PATAS. O RATO CONSENTIU E, ENCONTRANDO UM PEDAÇO DE FIO, LIGOU UMA DAS SUAS PERNAS À RÃ.

ASSIM QUE ENCONTRARAM NO RIO, PORÉM, A RÃ MERGULHOU, LEVANDO JUNTO O RATO, QUE SENTIA AFOGAR-SE. POR ISSO DEBATIA-SE COM A RÃ, QUE, POR SUA VEZ, LUTAVA PARA NADAR, TUDO ISSO CAUSANDO MUITO CANSAÇO E ESTARDALHAÇOS.

ESTAVAM NESSA LUTA, QUANDO, POR CIMA, PASSAVA UM FALCÃO QUE, PERCEBENDO O RATO SOBRE A ÁGUA, BAIXOU SOBRE ELE E LEVOU-O NAS GARRAS JUNTAMENTE COM A RÃ QUE ESTAVA ATADA. AINDA NO AR, ELA OS DEVOROU.

FÁBULA DE ESOPHO

INTERPRETAÇÃO DO TEXTO:

1- QUAL É O TÍTULO DA FÁBULA?

2- QUAL ERA O DESEJO DO RATO?

3- PARA QUEM O RATO PEDIU AJUDA E QUAL FOI A CONDIÇÃO?

4- COMO FOI A ATREVESSIA DOS DOIS ANIMAIS?

5- ELES CONSEQUIRAM FAZER A ATREVESSIA? O QUE ACONTECEU?



ESCOLA MUNICIPAL LAURO LUIZ

Anos Iniciais do Ensino Fundamental
Rua Treze de Maio, nº 311 Fone: (45) 3233-1222
Email: escolalauroluiz@hotmail.com
CAMPO BONITO CEP: 85.450-000 PARANÁ

- REESCREVA AS FRASES DANDO O SIGNIFICADO DAS PALAVRAS DESTACADAS:
- a) UM RATO **DESEJAV**AATRAVESSAR UM RIO, MAS TEMIA POR NÃO SABER NADAR.

- b) O RATO **CONSENTIU**E, ENCONTRANDO UM PEDAÇO DE FIO, LIGOU UMA DAS SUAS PERNAS A RÃ.

- c) O RATO ESTAVA **ATADO** Á RÃ.

6- ORTOGRAFIA R E RR:

- O R TEM SOM FORTE QUANDO:
 - É A PRIMEIRA LETRA DA PALAVRA. EXEMPLO: RIACHO
 - É A ÚLTIMA LETRA DA SÍLABA. EXEMPLO: FALAR
 - É DUPLO NAS PALAVRAS. EXEMPLO CARRETA

VEJA OS EXEMPLOS:

- NO COMEÇO, EU SOU FORTE, POR ISSO FICO SOZINHO! **RUA**
- JÁ NO MEIO, ENTRE AS VOGAIS, EU COMEÇO A TREMER E FICO FRAQUINHO! **BARATA**
- LOGO, CHAMO MEU IRMÃO E JUNTO FICAMOS FORTE. **RR TORRE**

7- ENCONTRE NO TEXTO DESTAQUE E COPIE AS PALAVRAS COM R E RR.

R _____

RR _____

8- FORME FRASES COM AS PALAVRAS ABAIXO:

RÁDIO _____

OURO _____

CARRO _____

AMOR _____



ESCOLA MUNICIPAL LAURO LUIZ

Anos Iniciais do Ensino Fundamental
Rua Treze de Maio, nº 311 Fone: (45) 3233-1222
Email: escolalauro Luiz@hotmail.com
CAMPO BONITO CEP: 85.450-000 PARANÁ

9- LEIA E SEPRE AS PALAVRAS:

REI	ARARA	BARRACA	DOER
CAIR	RUA	BARATA	CARRETA
FERRO	COURO	RÁDIO	AMOR
RATO	BURACO	VIVER	TORRE
OURO	TERRA	RIO	DOAR

R(início)	R(brando)	R(forte)	R(final)
.....
.....
.....
.....
.....

10-COMPLETE COM R OU RR:

R **OU** **RR**

U.....UBU
BO.....ACHA
TE.....AÇO
AMA.....ELO
BA.....IGA
FE.....ADURA
MA.....IPOSA
JA.....O
AMO.....A
CACHO.....O
TE.....EIRO
PI.....AÇA
CO.....IDA
GA.....AFA
GI.....AFA
VE.....UGA
TO.....ADA
PI.....ULITO

MACA.....ÃO
FA.....INHA
CADEI.....A
SE.....OTE
MO.....ANGO
GA.....OTE
BANDEI.....A
EMPU.....A
PENEI.....A
VERDU.....A
MA.....ECO
BA.....ATA





ESCOLA MUNICIPAL LAURO LUIZ

Anos Iniciais do Ensino Fundamental
Rua Treze de Maio, nº 311 Fone: (45) 3233-1222

Email: escolalauro Luiz@hotmail.com

CAMPO BONITO

CEP: 85.450-000

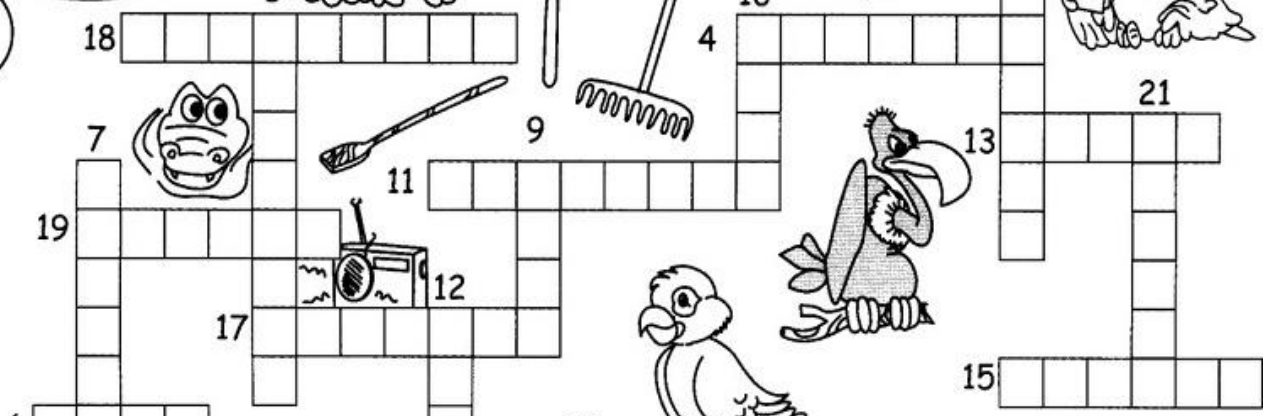
PARANÁ

R



CRUZADINHA LEGAL

RR

R
~
R



- 1. coração
- 2. rato
- 3. coruja
- 4. rastelo
- 5. arara
- 6. peru
- 7. jacaré
- 8. perereca
- 9. remo
- 10. coroa
- 11. pirulito
- 12. rádio
- 13. urubu
- 14. pera
- 15. buraco
- 16. rodo





3º ANO-ATIVIDADES REMOTAS 10º QUINZENA (11/09 á 25/09/2020.)

MATEMÁTICA

ALUNO (A): _____

PROFESSOR (A): _____ DATA: ____/____/2020

1- COMPLETE A TABUADA

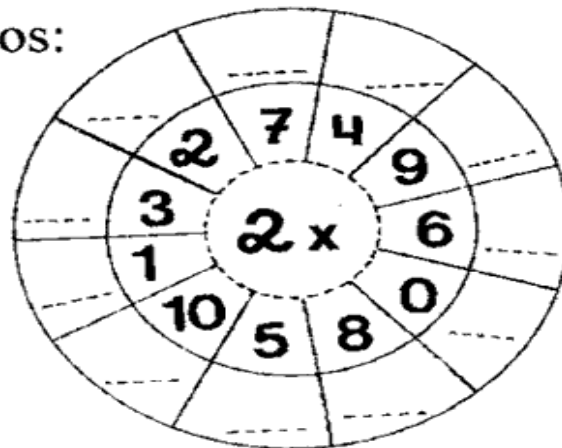
- 2 x 0 =
- 2 x 1 =
- 2 x 2 =
- 2 x 3 =
- 2 x 4 =
- 2 x 5 =



- 2 x 6 =
- 2 x 7 =
- 2 x 8 =
- 2 x 9 =
- 2 x 10 =

2- RESOLVA A ROLETA

) Coloque os resultados:



3- PINTE A RESPOSTA CORRETA

FATOS			
9 x 3	10	27	16
9 x 5	35	40	45
8 x 3	24	27	15
7 x 4	16	26	28































FATOS			
6 x 3	20	18	10
6 x 2	10	14	12
3 x 5	5	25	15
9 x 4	36	18	38



ESCOLA MUNICIPAL LAURO LUIZ


Anos Iniciais do Ensino Fundamental
 Rua Treze de Maio, nº 311 Fone: (45) 3233-1222
 Email: escolalauroluiz@hotmail.com
 CAMPO BONITO CEP: 85.450-000 PARANÁ

4-COMPLETE A TABELA:

 x  6	 x  18	 x  36
 x  10	 x  24	 x  32
 x  15	 x  9	 x  12
 x  24	 x  12	 x  21
 x  8	 x  40	 x  5



4- ROLETA DA TABUADA.





ESCOLA MUNICIPAL LAURO LUIZ

Anos Iniciais do Ensino Fundamental
 Rua Treze de Maio, nº 311 Fone: (45) 3233-1222
 Email: escolalauro Luiz@hotmail.com
 CAMPO BONITO CEP: 85.450-000 PARANÁ

5-RESOLVA AS MULTIPLICAÇÕES:

X3
3X0=
3X1=
3X2=
3X3=
3X4=
3X5=
3X6=
3X7=
3X8=
3X9=
3X10=

$\begin{array}{r} 22 \\ \times 3 \\ \hline \end{array}$ <div style="border: 1px solid black; width: 100px; height: 30px; margin: 5px 0;"></div>	$\begin{array}{r} 12 \\ \times 3 \\ \hline \end{array}$ <div style="border: 1px solid black; width: 100px; height: 30px; margin: 5px 0;"></div>	$\begin{array}{r} 34 \\ \times 3 \\ \hline \end{array}$ <div style="border: 1px solid black; width: 100px; height: 30px; margin: 5px 0;"></div>
---	---	---

$\begin{array}{r} 13 \\ \times 3 \\ \hline \end{array}$ <div style="border: 1px solid black; width: 100px; height: 30px; margin: 5px 0;"></div>	$\begin{array}{r} 14 \\ \times 3 \\ \hline \end{array}$ <div style="border: 1px solid black; width: 100px; height: 30px; margin: 5px 0;"></div>	$\begin{array}{r} 31 \\ \times 3 \\ \hline \end{array}$ <div style="border: 1px solid black; width: 100px; height: 30px; margin: 5px 0;"></div>
---	---	---

$\begin{array}{r} 51 \\ \times 3 \\ \hline \end{array}$ <div style="border: 1px solid black; width: 100px; height: 30px; margin: 5px 0;"></div>	$\begin{array}{r} 42 \\ \times 3 \\ \hline \end{array}$ <div style="border: 1px solid black; width: 100px; height: 30px; margin: 5px 0;"></div>	$\begin{array}{r} 50 \\ \times 3 \\ \hline \end{array}$ <div style="border: 1px solid black; width: 100px; height: 30px; margin: 5px 0;"></div>
---	---	---

$\begin{array}{r} 46 \\ \times 3 \\ \hline \end{array}$ <div style="border: 1px solid black; width: 100px; height: 30px; margin: 5px 0;"></div>	$\begin{array}{r} 63 \\ \times 3 \\ \hline \end{array}$ <div style="border: 1px solid black; width: 100px; height: 30px; margin: 5px 0;"></div>	$\begin{array}{r} 49 \\ \times 3 \\ \hline \end{array}$ <div style="border: 1px solid black; width: 100px; height: 30px; margin: 5px 0;"></div>
---	---	---

6- RESOLVA AS OPERAÇÕES DE ADIÇÃO COM RESERVAS

	CENTENA	DEZENA	UNIDADE
+	3	7	9
	5	6	4



	CENTENA	DEZENA	UNIDADE
+	4	5	7
	4	9	6

	CENTENA	DEZENA	UNIDADE
+	3	6	7
	4	8	5



	CENTENA	DEZENA	UNIDADE
+	2	8	5
	3	4	9

	CENTENA	DEZENA	UNIDADE
+	4	5	8
	2	7	9



	CENTENA	DEZENA	UNIDADE
+	5	9	6
	2	2	7

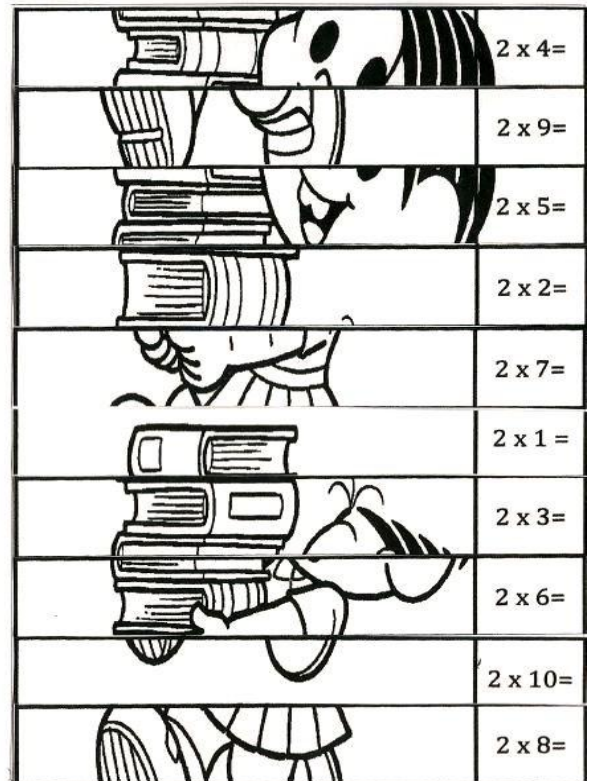


ESCOLA MUNICIPAL LAURO LUIZ

Anos Iniciais do Ensino Fundamental
Rua Treze de Maio, nº 311 Fone: (45) 3233-1222
Email: escolalauroluiz@hotmail.com
CAMPO BONITO CEP: 85.450-000 PARANÁ

7- OBSERVE AS PARTES DO DESENHO EM SEGUIDA PINTE-AS, RECORTE E COLE CONFORME O RESULTADO DA MULTIPLICAÇÃO DO NÚMERO 2.

	2
	4
	6
	8
	10
	12
	14
	15
	18
	20





8- SITUAÇÃO PROBLEMA.

- a) NUM ESTACIONAMENTO HÁ 4 SETORES. CADA SETOR TEM 15 VAGAS.QUAL É O NÚMERO TOTAL DE VAGAS?

OPERAÇÃO

RESPOSTA

- b) EM UMA CAIXA CABEM, EM MÉDIA,7 DÚZIAS DE MAÇÃS.QUANTAS MAÇÃS CABEM NUMA CAIXA?

OPERAÇÃO

RESPOSTA

- c) CADA ARANHA TEM 8 PATAS.QUANTAS PATAS HÁ EM 16 ARANHAS?

OPERAÇÃO

RESPOSTA



3º ANO -ATIVIDADES AVALIATIVAS 10º QUINZENA (11/09 á 25/09/2020.)

HISTÓRIA

ALUNO (A): _____

PROFESSOR (A): _____ DATA: __/__/2020

TIRADENTES

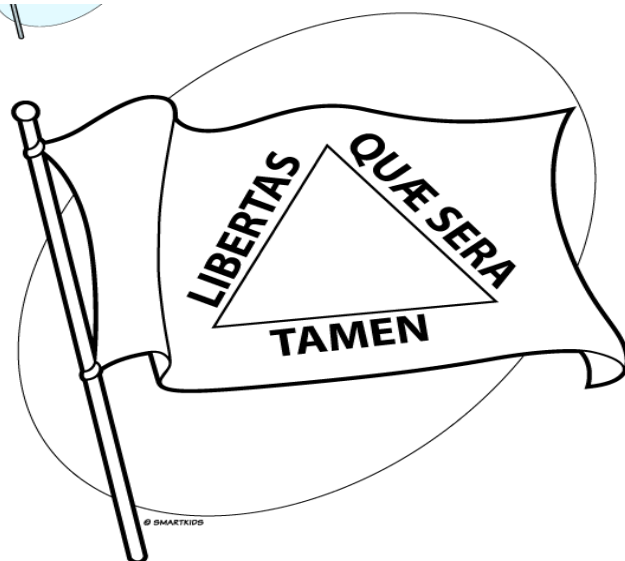

QUANDO BRASIL FOI DESCOBERTO, ELE FICOU PERTENCENTE A PORTUGAL.

NAS TERRAS DESCOBERTAS HAVIA MUITO OURO. PORTUGAL, ALÉM DE COBRAR IMPOSTOS DOS BRASILEIROS, EXIGIA QUE GRANDE PARTE DE OURO EXTRAÍDO DAS MINAS FOSSEM MANDADA PARA LÁ.

JOAQUIM JOSÉ DA SILVA XAVIER, O TIRADENTES, E MUITOS OUTROS, NÃO CONCORDAVAM COM AS COBRANÇAS DE IMPOSTOS E, ENTÃO, EM REUNIÕES SECRETAS, COMEÇARAM A PREPARAR UM MOVIMENTO PARA LIBERTAR BRASIL DE PORTUGAL.

ESSE MOVIMENTO FICOU CONHECIDO COMO INCONFIDÊNCIA MINEIRA E TEVE TIRADENTES COMO LÍDER.

NO ENTANTO, OS INCONFIDENTES FORAM TRAÍDOS POR JOAQUIM SILVÉRIO DOS REIS, MEMBRO DO GRUPO, QUE CONTOU TUDO AO GOVERNO DE MINAS GERAIS. TODOS FORAM PRESOS E OBRIGADOS A DEIXAR O BRASIL.



**BANDEIRA DA
INCONFIDÊNCIA MINEIRA**



ESCOLA MUNICIPAL LAURO LUIZ

Anos Iniciais do Ensino Fundamental
Rua Treze de Maio, nº 311 Fone: (45) 3233-1222
Email: escolalauro Luiz@hotmail.com
CAMPO BONITO CEP: 85.450-000 PARANÁ

1- COMPLETE CONFORME O TEXTO:

- SEU NOME ERA _____ XAVIER.
- ELE FOI O PRINCIPAL REPRESENTANTE DA _____ MINEIRA.
- O NOME TIRADENTES VEIO DE SUA PROFISSÃO, QUE ERA _____.
- A DATA EM QUE COMEMORAMOS SUA MORTE É 21 DE _____.
- TIRADENTES FOI TRAÍDO POR JOAQUIM _____, QUE ERA UM DOS PARTICIPANTES DO MOVIMENTO.

2- COMPLETE AS FRASES COM AS PALAVRAS DO QUADRO ABAIXO:

OURO	IMPOSTO	INCONFIDÊNCIA MINEIRA
JOAQUIM SILVÉRIO DOS REIS	TIRADENTES	ENFORCADO

- O _____ ERA O METAL PRECIOSO EXTRAÍDO NA ÉPOCA.
- PORTUGAL COBRAVA MUITOS _____ DOS GARIMPEIROS E EXIGIA QUE PARTE DO OURO EXTRAÍDO FOSSE ENVIADA PARA LÁ.
- MOVIMENTO CRIADO PARA LIBERTAR O BRASIL DE PORTUGAL FOI CHAMADO DE _____.
- TIRADENTES FOI TRAÍDO POR _____, QUE ERA UM DOS MEMBROS DO GRUPO.
- JOAQUIM JOSÉ DA SILVA XAVIER ERA CONHECIDO COM _____.
- TIRADENTES FOI _____ E DEPOIS ESQUARTEJADO.

ABOLIÇÃO DA ESCRAVATURA

INICIALMENTE, OS COLONIZADORES PORTUGUESES ESCRAVIZARAM OS INDÍGENAS BRASILEIROS.COM O PASSAR DOS ANOS, COMEÇARAM A ESCRAVIZAR AFRICANOS, TRAZIDOS ACORRENTADOS EM PORÕES DE NAVIOS.CHEGANDO AO BRASIL, ELES ERAM LEILOADOS E OBRIGADOS A TRABALHAR NAS LAVOURAS DE CANA – DE-AÇÚCAR, NAS MINAS E NAS DOS SENHORES DE ENGENHO.

OS ESCRAVIZADOS TINHAM DE OBEDECER A SEUS SENHORES E ERAM SEVERAMENTE CASTIGADOS, PRINCIPALMENTE POR MEIO DE AÇOITES.NAS FAZENDAS, MORAVAM EM SENZALAS, QUE ERA UM ALOJAMENTO QUE OS OBRIGAVA.



ESCOLA MUNICIPAL LAURO LUIZ

Anos Iniciais do Ensino Fundamental
Rua Treze de Maio, nº 311 Fone: (45) 3233-1222
Email: escolalauro Luiz@hotmail.com
CAMPO BONITO CEP: 85.450-000 PARANÁ

A ESCRAVIZAÇÃO FOI UM PROCESSO DE EXTREMA VIOLÊNCIA.

MUITOS SE REVOLTARAM E FUGIAM DE SEUS SENHORES, ESCONDENDO-SE EM LUGARES DE DIFÍCIL ACESSO, FORMANDO COMUNIDADES ESCONDIDAS, CHAMADAS DE QUILOMBOS.

NO DIA 13 DE MAIO DE 1988, A PRINCESA ISABEL ASSINOU A LEI ÁUREA, COLOCANDO FIM À ESCRAVIZAÇÃO.



3- COMPLETE AS FRASES COM UMA DAS PALAVRAS DO QUADRO:

CHIBATADA	ENGENHO	AÇOITAR	ESCRAVOCRATA
ESCRAVATURA	ESCAMBO	TRÁFICO	

- CHICOTE. É O MESMO QUE _____.
- _____ É A FAZENDA ONDE SE PLANTA CANA-DE-ACÚÇAR E SE FABRICAVA ACÚÇAR.
- _____ É O MESMO QUE GOLPEAR COM AÇOITE.
- O _____ ERA A PESSOA A FAVOR DA ESCRAVATURA.
- _____ É O SISTEMA SOCIAL E ECONMICO BASEADO NA EXPLORAÇÃO DE ESCRAVIZADOS.
- _____ É A TROCA DE MERCADORIAS OU SERVIÇOS SEM O USO DE MOEDAS.
- O COMÉRCIO MARÍTIMO DE ESCRAVIZADOS É CHAMADO DE _____.



3º ANO-ATIVIDADES AVALIATIVAS 10º QUINZENA (11/09 à 25/09/2020.)

GEOGRAFIA

ALUNO (A): _____
PROFESSOR (A): _____ **DATA:** ____/____/2020

AS TERRAS E SUAS ÁGUAS

A TERRA APRESENTA UMA GRANDE PARTE DE SUA SUPERFÍCIE COBERTA POR ÁGUA.

AS ÁGUAS SALGADAS COMPREENDEM A MAIOR PARTE. HIDROGRAFIA É A CIÊNCIAS QUE ESTUDA OS OCEANOS, OS MARES, DOS RIOS, OS LAGOS E AS LAGOAS.

- **OCEANO** É UMA GRANDE EXTENSÃO DE ÁGUA SALGADA QUE CONTORNA OS CONTINENTES.
- **LAGO** É UMA PORÇÃO D'ÁGUA CERCADA DE TERRA POR TODOS OS LADOS.
- **RIACHOS** SÃO RIOS PEQUENOS.

O BRASIL É BANHADO PELO OCEANO ATLÂNTICO. A PARTE DOS CONTINENTES QUE É BANHADA POR OCEANO RECEBE O NOME DE LITORAL. O ESPAÇO ENTRE A ÁGUA E A TERRA É CHAMADO PRAIA.

1- COMPLETE COM AS PALAVRAS DO QUADRO:

TERRA	ÁGUA	SALGADA	DOCE
HIDROGRAFIA	OCEANO	OCEANO ATLÂNTICO	PRAIA

- a) A _____ É FORMADO POR UMA QUANTIDADE GRANDE DE _____ A ÁGUA PODE SER _____ OU _____.
- b) O ESTUDO DAS ÁGUAS DA TERRA É CHAMADO DE _____.
- c) _____ É UMA GRANDE EXTENSÃO DE ÁGUA SALGADA.
- d) O OCEANO QUE BANHA O BRASIL É O _____.
- e) O ESPAÇO ENTRE A ÁGUA E A TERRA É A _____;



ESCOLA MUNICIPAL LAURO LUIZ

Anos Iniciais do Ensino Fundamental
Rua Treze de Maio, nº 311 Fone: (45) 3233-1222
Email: escolalauro Luiz@hotmail.com
CAMPO BONITO CEP: 85.450-000 PARANÁ

3- COMPLETE AS FRASES COM UMA DAS PALAVRAS DO QUADRO:

RIOS	PAISAGEM	TURBINAS
ENERGIA ELÉTRICA		BARRAGEM

- a) A ÁGUA DOS _____ É NECESSÁRIA PARA CONSTRUIR UMA USINA.
- b) COM A CONSTRUÇÃO DE USINAS, OCORREM MUDANÇAS NA _____.
- c) AS ÁGUAS PRECISAM MOVIMENTAR AS _____ PARA GERAR ENERGIA.
- d) A FORÇA DA ÁGUA GERA _____.
- e) PARA O FUNCIONAMENTO DAS USINAS, É NECESSÁRIA A CONSTRUÇÃO DE UMA _____.

4- ESCREVA O NOME DOS OBJETOS DE ACORDO COM SUA CLASSIFICAÇÃO:

CADEIRA	GELADEIRA	LIQUIDIFICADOR	BATEDEIRA	
BOLA	TELEVISOR	COMPUTADOR	SKATE	TABLET
BICICLETA				
CELULAR				

FUNCIONA COM ENERGIA	NÃO FUNCIONA COM ENERGIA



TURMA 3º ANO _____ CIÊNCIAS – ATIVIDADES REMOTAS -10º SEMANA

ALUNO (A): _____

PROFESSOR (A): _____ DATA ____ / ____ /2020

☉ SISTEMA SOLAR

DIA E NOITE

A Terra, a Lua e o Sol são astros que se movimentam no espaço.
Astro é todo corpo celeste que orbita no espaço.

1. O nome do percurso que os astros fazem ao girar no espaço é:

giro

órbita

queda

noite

2. Os dias e as noites ocorrem porque:

a Terra gira em torno da Lua.

a Terra gira em torno dela mesma.

a Terra gira em torno do Sol.

3. Quanto tempo a Terra demora para dar uma volta completa em torno dela mesma?

3 horas

6 horas

12 horas

24 horas

4. O período que a Terra leva para dar uma volta completa em torno dela mesma compreende a:

um dia

uma noite

uma noite e um dia

5. Nesta imagem da Terra mostrando o dia e a noite, de que lado está o Sol? Desenhe-o





ATIVIDADES 3º ANO


ALUNO (A): _____

PROFESSOR (A): _____ DATA: ____ / ____ /2020

OLÁ ALUNO, ESSA É A AULA DE **EDUCAÇÃO FÍSICA** DESSA SEMANA.

Aguardarei o complemento das atividades em forma de foto, vídeo ou descrita no verso desta folha, Ok. Abraço.

Voa balão: Infile um balão colorido, os jogadores terão que atingi-lo jogando-o no ar como se estivesse jogando tênis, mas sem jogá-lo no chão. Você pode contar em voz alta quantas vezes o balão é atingido e tentar quebrar o recorde."



ATIVIDADE: CIRCUITO PSICOMOTOR

O QUE É CIRCUITO PSICOMOTOR? NA ATIVIDADE DE CIRCUITO PSICOMOTOR AS CRIANÇAS EXPLORAM UM ESPAÇO PREPARADO COM MATERIAIS DIVERSIFICADOS, COMO PNEUS, COLCHONETES, TÁBUAS DE MADEIRA, TÚNEIS, ENTRE OUTROS. O OBJETIVO É SUGERIR MOVIMENTOS CORPORAIS COMO SUBIR, DESCER, ROLAR, RASTEJAR, SALTAR, ETC.

MATERIAL NECESSÁRIO: OBJETOS PARA SERVIR COM OBSTÁCULO.





ESCOLA MUNICIPAL LAURO LUIZ

Anos Iniciais do Ensino Fundamental
Rua Treze de Maio, nº 311 Fone: (45) 3233-1222
Email: escolalauro Luiz@hotmail.com
CAMPO BONITO CEP: 85.450-000 PARANÁ

ARTE 3º ANO – ATIVIDADES – 10ª QUINZENA (11/09/2020 a 25/09/2020)

ALUNO (A): _____

PROFESSOR (A): _____ DATA ____/____/2020

USE SUA CRIATIVIDADE PARA COLORIR OS PERSONAGENS FOLCLÓRICOS.

REESCREVA AS FRASES ABAIXO DE FORMA CORRETA, DESCUBRA A QUAL PERSONAGEM PERTENCE, ESCRIVENDO NO NÚMERAL CORRESPONDENTE:

ATACA EM E LOBO,
MISTURA DE HOMEM
LUA CHEIA.

OS HOMENS COM
CANTO. SEU
ENCANTA IARA

FOGO PELO PESCOÇO.
MULA É UMA CABEÇA
E SOLTA QUE NÃO TEM

FAZER O SACI
TRAVESSURAS.
ADORA

MATAS.
PROTETOR DAS
CURUPIRA É O

A MATA, BOITATÁ
DE OLHO. ESTÁ
NÃO DESRESPEITA





ESCOLA MUNICIPAL LAURO LUIZ

Anos Iniciais do Ensino Fundamental
Rua Treze de Maio, nº 311 Fone: (45) 3233-1222
Email: escolalauroluiz@hotmail.com
CAMPO BONITO CEP: 85.450-000 PARANÁ

1 _____

2 _____

3 _____



4 _____

5 _____

6 _____