



## ESCOLA MUNICIPAL LAURO LUIZ

Anos Iniciais do Ensino Fundamental  
Rua Treze de Maio, nº 311 Fone: (45) 3233-1222  
Email: escolalauro Luiz@hotmail.com  
CAMPO BONITO CEP: 86.450-000 PARANÁ

3º ANO B - CIÊNCIAS – ATIVIDADES DE SÁBADO -REPOSIÇÃO DO DIA  
15/04/2020



ALUNO

(A): \_\_\_\_\_

PROFESSOR (A): \_\_\_\_\_ DIA \_\_\_\_ / \_\_\_\_ /2020

### O NOSSO PLANETA

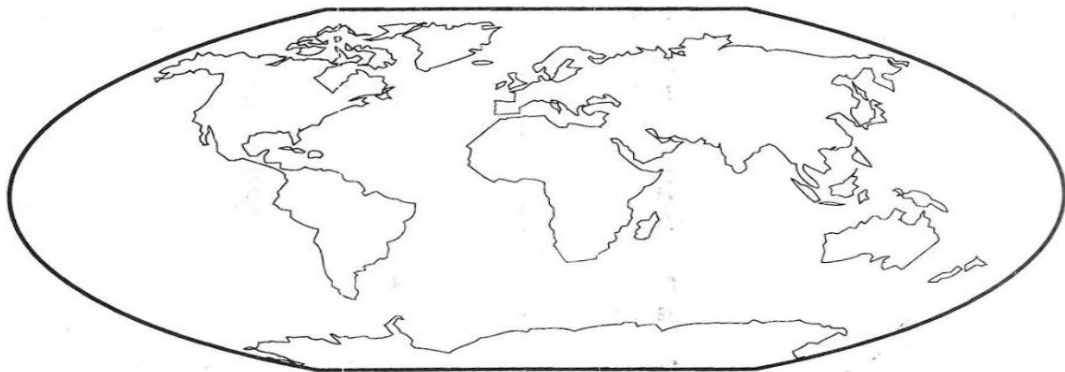
A Terra é o nosso planeta. Nela vivem os povos de toda raça.  
Veja as representações da Terra.



O planeta Terra tem mais água que terra.  
As águas formam os oceanos, os mares, os lagos, os rios, etc.  
Os continentes são formados de terra.

**LIGUE-SE NESTA!**

- 1 Pinte o globo terrestre usando azul para representar a água e marrom para representar os continentes.





# ESCOLA MUNICIPAL LAURO LUIZ

Anos Iniciais do Ensino Fundamental

Rua Treze de Maio, nº 311 Fone: (45) 3233-1222

Email: escolalauro Luiz@hotmail.com

CAMPO BONITO

CEP: 86.450-000

PARANÁ




3º ANO- ATIVIDADE REMOTA DE SÁBADO REPOSIÇÃO REFERENTE AO DIA 15/04/2020

## MATEMÁTICA

ALUNO (A): \_\_\_\_\_

PROFESSOR (A): \_\_\_\_\_

OBSERVE AS MULTIPLICAÇÕES E DIVISÕES, RECORTE E COLE NA OPERAÇÃO CORRETA.

4	X		=	32			:	4	=	3
	X	7	=	21			:	3	=	8
4	X	9	=				:	4	=	5
	X	5	=	20			:	3	=	2
3	X	6	=				:	3	=	3
4	X		=	16			:	3	=	9

---

4	6	18	36	3	12
20	27	16	8	24	9



## ESCOLA MUNICIPAL LAURO LUIZ

Anos Iniciais do Ensino Fundamental  
Rua Treze de Maio, nº 311 Fone: (45) 3233-1222  
Email: escolalauro Luiz@hotmail.com  
CAMPO BONITO CEP: 85.450-000 PARANÁ

3º ANO-ATIVIDADE REMOTA DE SÁBADO REPOSIÇÃO AO DIA 16/04/2020

### HISTÓRIA

ALUNO (A): \_\_\_\_\_

PROFESSOR (A): \_\_\_\_\_

## O MUNICÍPIO E SEU GOVERNO

1. Complete com as vogais adequadas.

Todo Estado está dividido em partes menores chamadas de

M		N		C		P			S
---	--	---	--	---	--	---	--	--	---

2. Os municípios são governados pelo:

- |                                     |                                     |
|-------------------------------------|-------------------------------------|
| <input type="checkbox"/> governador | <input type="checkbox"/> presidente |
| <input type="checkbox"/> prefeito   | <input type="checkbox"/> rei        |

3. A câmara municipal é formada por:

- |                                     |                                    |
|-------------------------------------|------------------------------------|
| <input type="checkbox"/> deputados  | <input type="checkbox"/> senadores |
| <input type="checkbox"/> vereadores | <input type="checkbox"/> ministros |



4. Quem escolhe o prefeito e os vereadores de um município? De que forma?

\_\_\_\_\_

\_\_\_\_\_

5. O que fazem os vereadores?

- Fazem as leis municipais e fiscalizam o governador do Estado.
- Governam e administram a cidade.
- Fazem as leis municipais e fiscalizam o prefeito.

6. Quanto tempo dura o mandato de prefeito e vereadores?

- 2 anos       4 anos       6 anos       8 anos

7. Como são chamados os assistentes nomeados pelo prefeito?

- ministros       auxiliares       secretários       diretores



## ESCOLA MUNICIPAL LAURO LUIZ

Anos Iniciais do Ensino Fundamental  
Rua Treze de Maio, nº 311 Fone: (45) 3233-1222  
Email: escolalauroluiz@hotmail.com  
CAMPO BONITO CEP: 86.450-000 PARANÁ

### ARTE 3º ANO B – ATIVIDADES DE SÁBADO - REPOSIÇÃO DIA 16/04/2020



ALUNO (A):

---

PROFESSOR (A):

---

Use sua criatividade para colorir o primeiro dos desenhos onde o casal dança e no segundo marque os 7 erros.



© SMARTKIDS