



**TURMA 3º ANO B – CIÊNCIAS ATIVIDADES REMOTAS**

ALUNO (A): \_\_\_\_\_

PROFESSOR (A): \_\_\_\_\_ DIA \_\_\_\_ / \_\_\_\_ /2020


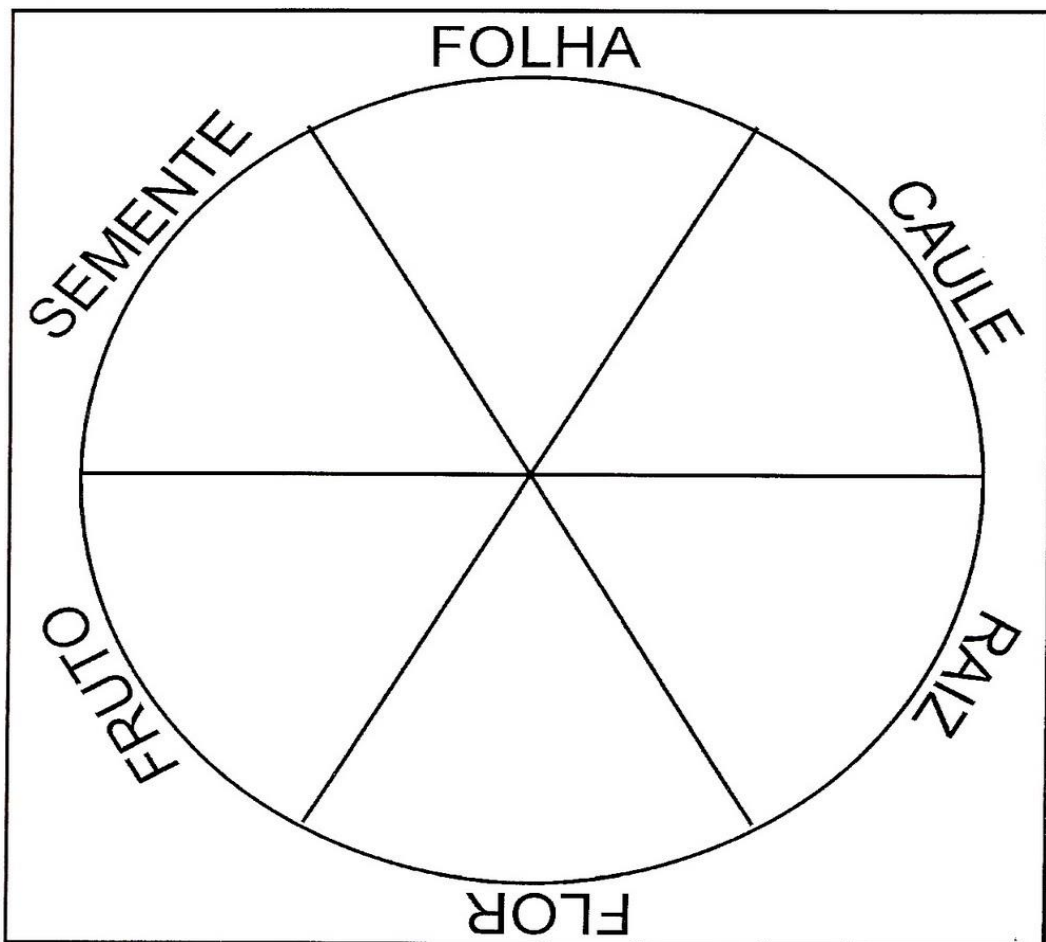
ATIVIDADES DE SÁBADO - REPOSIÇÃO REFERENTE AO DIA 08/04/2020.



As Plantas são importantes em  
..... nossa alimentação.



Recorte os alimentos abaixo e cole em cada parte correspondente :





3º ANO - ATIVIDADE REMOTA DE SÁBADO REPOSIÇÃO DO DIA

(08/04/2020) MATEMÁTICA.

<b>ALUNO (A):</b> _____
<b>PROFESSOR (A):</b> _____ <b>DATA</b> ___/___/___

RESOLVA AS MULTIPLICAÇÕES:

$$\begin{array}{r} 18 \\ \times 2 \\ \hline \square \square \end{array}$$

$$\begin{array}{r} 57 \\ \times 2 \\ \hline \square \square \square \end{array}$$

$$\begin{array}{r} 45 \\ \times 2 \\ \hline \square \square \end{array}$$

$$\begin{array}{r} 68 \\ \times 2 \\ \hline \square \square \square \end{array}$$

$$\begin{array}{r} 19 \\ \times 2 \\ \hline \square \square \end{array}$$

$$\begin{array}{r} 77 \\ \times 2 \\ \hline \square \square \square \end{array}$$

$$\begin{array}{r} 23 \\ \times 2 \\ \hline \square \square \end{array}$$

$$\begin{array}{r} 75 \\ \times 2 \\ \hline \square \square \square \end{array}$$

$$\begin{array}{r} 43 \\ \times 2 \\ \hline \square \square \end{array}$$

$$\begin{array}{r} 85 \\ \times 2 \\ \hline \square \square \square \end{array}$$

$$\begin{array}{r} 15 \\ \times 2 \\ \hline \square \square \end{array}$$

$$\begin{array}{r} 65 \\ \times 2 \\ \hline \square \square \square \end{array}$$

$$\begin{array}{r} 28 \\ \times 2 \\ \hline \square \square \end{array}$$

$$\begin{array}{r} 92 \\ \times 2 \\ \hline \square \square \square \end{array}$$

$$\begin{array}{r} 35 \\ \times 2 \\ \hline \square \square \end{array}$$

$$\begin{array}{r} 86 \\ \times 2 \\ \hline \square \square \square \end{array}$$

$$\begin{array}{r} 49 \\ \times 2 \\ \hline \square \square \end{array}$$

$$\begin{array}{r} 95 \\ \times 2 \\ \hline \square \square \square \end{array}$$

$$\begin{array}{r} 14 \\ \times 2 \\ \hline \square \square \end{array}$$

$$\begin{array}{r} 99 \\ \times 2 \\ \hline \square \square \square \end{array}$$



ARTE 3º ANO B – ATIVIDADES DE SÁBADO - REPOSIÇÃO DIA  
09/04/2020

**ALUNO (A):**

---

**PROFESSOR (A):**

---

Use sua criatividade para colorir um dos desenhos da lenda da lara e no outro  
marque os 7 erros

**JOGO DOS 7 ERROS**

11





3º ANO - ATIVIDADE REMOTA DE SÁBADO REPOSIÇÃO DO DIA

(09/04/2020) HISTÓRIA

ALUNO (A): \_\_\_\_\_

PROFESSOR (A): \_\_\_\_\_ DATA \_\_\_\_/\_\_\_\_/\_\_\_\_


### **MENINA BONITA DO LAÇO DE FITA**

ERA UMA VEZ UMA MENINA LINDA, LINDA.  
OS OLHOS PARECIAM DUAS AZEITONAS PRETAS  
BRILHANTES, OS CABELOS ENROLADINHOS E BEM  
NEGROS.

A PELE ERA ESCURA E LUSTROSA, QUE NEM O  
PELO DA PANTERA NEGRA NA CHUVA.

AINDA POR CIMA, A  
MÃE GOSTAVA DE FAZER  
TRANCINHAS NO CABELO  
DELA E ENFEITAR COM  
LAÇOS DE FITA  
COLORIDAS.

ELA FICAVA  
PARECENDO UMA PRINCESA  
DAS TERRAS DA ÁFRICA,  
OU UMA FADA DO REINO  
DO LUAR.



E, HAVIA UM COELHO BEM BRANQUINHO, COM  
OLHOS VERMELHOS E FOCINHO NERVOSO SEMPRE  
TREMELICANDO. O COELHO ACHAVA A MENINA A  
PESSOA MAIS LINDA QUE ELE TINHA VISTO NA VIDA.

E PENSAVA:

- AH, QUANDO EU CASAR QUERO TER UMA FILHA  
PRETINHA E LINDA QUE NEM ELA...

(ANA MARIA MACHADO)

ERA UMA VEZ UMA \_\_\_\_\_ LINDA, \_\_\_\_\_.  
OS OLHOS PARECIAM DUAS AZEITONAS \_\_\_\_\_ BRILHANTES.  
OS \_\_\_\_\_ ENROLADINHOS E BEM \_\_\_\_\_.  
A PELE ERA \_\_\_\_\_ E LUSTROSA, QUE NEM O PELO DA  
\_\_\_\_\_ NEGRA NA CHUVA.  
AINDA POR CIMA, A \_\_\_\_\_ GOSTAVA DE FAZER TRANCINHAS  
NO CABELO DELA E ENFEITAR COM LAÇOS DE \_\_\_\_\_  
COLORIDAS. ELA FICAVA PARECENDO UMA PRINCESA DAS  
TERRAS DA \_\_\_\_\_, OU UMA FADA DO REINO DO LUAR.



MENINA	LINDA
PRETAS	CABELOS
NEGROS	ESCURA
PANTERA	MÃE
FITA	ÁFRICA