



## ESCOLA MUNICIPAL LAURO LUIZ

Anos Iniciais do Ensino Fundamental  
Rua Treze de Maio, nº 311 Fone: (45) 3233-1222  
Email: escolalauro Luiz@hotmail.com  
CAMPO BONITO CEP: 85.450-000 PARANÁ

### ATIVIDADE DE SÁBADO- REPOSIÇÃO DE PORTUGUÊS DIA 28/04/2020

ALUNO (A): \_\_\_\_\_

PROFESSOR: \_\_\_\_\_ DATA: \_\_\_\_/\_\_\_\_/2020

### LEIA COM ATENÇÃO AS CARTAS

Campinas, 5 de setembro de 2010.

Amiga Dani

Tudo bem com você? Aqui está tudo bem, graças a Deus!

Como andam as coisas aí no Rio de Janeiro? Gostaria muito que você viesse me visitar, assim poderíamos passear, conversar e eu ainda te apresentaria todas as pessoas incríveis que existem por aqui.

Eu estou trabalhando em uma escola muito boa, com alunos maravilhosos! Precisamos conversar também a respeito do nosso projeto de escrita envolvendo os meus alunos e os seus. Vamos colocar essa galerinha pra escrever!

Estou morrendo de saudades das nossas conversas de madrugada na casa da Lú. aguardo retorno.

Beijos, te amo pra sempre!

Evelyn

Rio de Janeiro, 06 de setembro de 2010.

Querida Evelyn

Estou morrendo de saudades de você e espero que esteja tudo bem por aí! Não vejo a hora de você vir me visitar também! Quero que saiba que você é uma pessoa maravilhosa e que os momentos que passamos juntas são insubstituíveis. Você faz muita falta!

Quanto ao projeto com as crianças, vamos realizar sim! Como já havia te falado, vou pedir a permissão da coordenadora pedagógica do colégio onde trabalho e assim que tiver uma posição te dou um parecer.

Se cuida amiga querida! Que Deus te abençoe em todas em todas as áreas da sua vida!

Um grande beijo em seu coração!!!

Te amo...

Danielle

#### 1. A cidade onde encontra-se o remetente da primeira carta é:

- a) ( ) Campinas
- b) ( ) São Paulo
- c) ( ) Rio de Janeiro
- d) ( ) Minas Gerais





**ESCOLA MUNICIPAL LAURO LUIZ**

Anos Iniciais do Ensino Fundamental  
Rua Treze de Maio, nº 311 Fone: (45) 3233-1222  
Email: escolalauroluiz@hotmail.com  
CAMPO BONITO CEP: 85.450-000 PARANÁ

**TURMA 4º ANO B – ATIVIDADE DE SÁBADO-REPOSIÇÃO DE CIÊNCIAS- DIA 29/04/2020**

ALUNO (A): \_\_\_\_\_

PROFESSOR: \_\_\_\_\_ DATA: \_\_\_\_ / \_\_\_\_ /2020

# ORIENTANDO-SE!

Para nos orientarmos, podemos usar o Sol, a bússola, mapas e relógios.

Observe o desenho e complete abaixo:



1- O Sol nasce no \_\_\_\_\_ e se põe no \_\_\_\_\_.

2- O braço direito está indicando o \_\_\_\_\_ e o esquerdo está indicando o \_\_\_\_\_.

3- À frente do corpo está o \_\_\_\_\_ e atrás o \_\_\_\_\_.

Orientando-se pelo Sol, responda:

1- Em que direção do bairro fica a sua escola? \_\_\_\_\_

2- E a sua casa? \_\_\_\_\_





**ESCOLA MUNICIPAL LAURO LUIZ**

*Anos Iniciais do Ensino Fundamental*  
Rua Treze de Maio, nº 311 Fone: (45) 3233-1222  
Email: escolalauro Luiz@hotmail.com  
CAMPO BONITO CEP: 85.450-000 PARANÁ

**TURMA 4º ANO – ATIVIDADE DE SÁBADO - REPOSIÇÃO DE HISTÓRIA- DIA 28/04/2020**

ALUNO (A): \_\_\_\_\_

PROFESSOR: \_\_\_\_\_ DATA: \_\_\_\_/\_\_\_\_/2020

### INTERPRETAÇÃO DE TEXTO PORTUGUESES, ÍNDIOS E NEGROS

Os portugueses exerceram grande e decisiva influência na formação da cultura brasileira. O Brasil foi colônia de Portugal por mais de trezentos anos e disso resultou a adoção da língua portuguesa e da religião católica. A cultura indígena também teve forte influência sobre a formação da cultura brasileira.

Vários nomes de lugares brasileiros provêm do tupi-guarani.

Da mesma forma vários hábitos alimentares atuais são uma herança do contato entre colonizadores e indígenas, exemplo disso é o consumo de mandioca sob várias formas. Já a cultura africana chegou ao Brasil por intermédio dos povos africanos escravizados. Os africanos passaram para a cultura brasileira muitos elementos de dança, música, religião, cozinha e idioma.

1. Por mais de trezentos anos o Brasil foi colônia de Portugal, isso resultou em quê? \_\_\_\_\_

2. Como a cultura africana chegou ao Brasil?  
\_\_\_\_\_

3. Quais elementos africanos foram passados para a cultura brasileira? \_\_\_\_\_

4. A cultura indígena influenciou a formação da cultura brasileira? Cite uma frase do texto que justifique sua resposta. \_\_\_\_\_

ALUNO (A): \_\_\_\_\_

PROFESSOR: \_\_\_\_\_ DATA: \_\_\_\_/\_\_\_\_/2020

**Resolva as operações:**



$$\begin{array}{r} 607 \\ \times 2 \\ \hline \end{array}$$

$$\begin{array}{r} 316 \\ \times 3 \\ \hline \end{array}$$

$$\begin{array}{r} 162 \\ \times 4 \\ \hline \end{array}$$

$$\begin{array}{r} 902 \\ \times 5 \\ \hline \end{array}$$

$$\begin{array}{r} 823 \\ \times 6 \\ \hline \end{array}$$

$$\begin{array}{r} 605 \\ \times 7 \\ \hline \end{array}$$

$$\begin{array}{r} 241 \\ \times 8 \\ \hline \end{array}$$

$$\begin{array}{r} 304 \\ \times 9 \\ \hline \end{array}$$

$$\begin{array}{r} 174 \\ \times 2 \\ \hline \end{array}$$

$$\begin{array}{r} 345 \\ \times 3 \\ \hline \end{array}$$

$$\begin{array}{r} 190 \\ \times 4 \\ \hline \end{array}$$

$$\begin{array}{r} 416 \\ \times 5 \\ \hline \end{array}$$

$$\begin{array}{r} 537 \\ \times 6 \\ \hline \end{array}$$

$$\begin{array}{r} 236 \\ \times 7 \\ \hline \end{array}$$

$$\begin{array}{r} 452 \\ \times 8 \\ \hline \end{array}$$

$$\begin{array}{r} 635 \\ \times 9 \\ \hline \end{array}$$

$$\begin{array}{r} 150 \\ \times 2 \\ \hline \end{array}$$

$$\begin{array}{r} 519 \\ \times 3 \\ \hline \end{array}$$

$$\begin{array}{r} 706 \\ \times 4 \\ \hline \end{array}$$

$$\begin{array}{r} 814 \\ \times 5 \\ \hline \end{array}$$



**ESCOLA MUNICIPAL LAURO LUIZ**


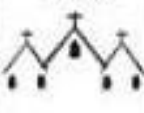




Anos Iniciais do Ensino Fundamental  
Rua Treze de Maio, nº 311 Fone: (45) 3233-1222  
Email: escolalauro Luiz@hotmail.com  
CAMPO BONITO CEP: 85.450-000 PARANÁ

## 4º ANO –ATIVIDADE DE REPOSIÇÃO ARTE (23/04/20 E 30/04/2020) 15ª QUINZENA

ALUNO (A): \_\_\_\_\_

PROFESSOR (A): \_\_\_\_\_ DATA: \_\_\_\_\_

Ajude Bruno a identificar a localização do CINEMA no mapa a seguir. Para isso, observe a letra da linha e o número da coluna no mapa.

D		Praça 	Igreja 	
C			Casa 	
B	Árvore 		Cinema 	
A			Escola 	
	1	2	3	4

Qual é a localização do cinema?

- A A4
- B B3
- C C3
- D D2

fonte: prova do Saesp







**4º ANO – ATIVIDADE DE REPOSIÇÃO ARTE (23/04/2020 E 30/04/2020) 15ª QUINZENA**

ALUNO (A): \_\_\_\_\_

PROFESSOR (A): \_\_\_\_\_ DATA: \_\_\_\_\_

**QUAL É A LOCALIZAÇÃO ?**

E				
D				
C				
B				
A	1	2	3	4

**RESPONDA:**

1) ONDE ESTA LOCALIZADO O CASTELO?

2) ONDE ESTA LOCALIZADO O CELEIRO?

3) ONDE ESTA LOCALIZADO O CAMPO DE FUTEBOL?

4) ONDE ESTA LOCALIZADO O PRÉDIO?