

ESCOLA MUNICIPAL DO CAMPO SANTO ANTÔNIO

Educação Infantil e Ensino Fundamental Anos Iniciais

Sertãozinho, S/Nº Fone: (45) 991029591

E-mail: escolarural@hotmail.com

CAMPO BONITO

CEP: 85.450-000

PARANÁ

PROFESSOR REGENTE: JULIANA PIANA DOS SANTOS

ALUNO(A): _____

DATA: ____/____/____

ATIVIDADES REMOTAS – 4º E 5º ANO

MATEMÁTICA – PROF. JULIANA PIANA DOS SANTOS

ARITMÉTICA

01- Resolva as operações e preencha a cruzadilha com os resultados, observando as setas:



A →				F ↓	G ↓
	B ↓	C →			
E →		D ↓			
H →					
					J ↓
	I →				
			K →		

(A)
$$\begin{array}{r} 9\ 6\ 4\ 3 \\ -1\ 4\ 5\ 1 \\ \hline \dots\dots \end{array}$$

(B)
$$\begin{array}{r} 4\ 9\ 7\ 3 \\ +\ 1\ 5\ 9 \\ \hline \dots\dots \end{array}$$

(C)
$$\begin{array}{r} 1\ 2\ 8\ 7 \\ +2\ 7\ 3\ 6 \\ \hline \dots\dots \end{array}$$

(D)
$$\begin{array}{r} 6\ 2\ 9\ 6 \\ -2\ 7\ 5\ 8 \\ \hline \dots\dots \end{array}$$

(E)
$$\begin{array}{r} 2\ 4 \\ +5\ 9 \\ \hline \dots\dots \end{array}$$

(F)
$$\begin{array}{r} 9\ 8\ 2\ 6 \\ -7\ 5\ 6\ 8 \\ \hline \dots\dots \end{array}$$

(G)
$$\begin{array}{r} 5\ 7\ 6\ 4 \\ +1\ 5\ 7\ 9 \\ \hline \dots\dots \end{array}$$

(H)
$$\begin{array}{r} 2\ 7\ 9\ 0 \\ +\ 4\ 6\ 0 \\ \hline \dots\dots \end{array}$$

(I)
$$\begin{array}{r} 6\ 8\ 6 \\ -\ 4\ 9\ 7 \\ \hline \dots\dots \end{array}$$

(J)
$$\begin{array}{r} 1\ 7\ 8 \\ +2\ 4\ 2 \\ \hline \dots\dots \end{array}$$

(K)
$$\begin{array}{r} 6\ 1\ 9 \\ +\ 2\ 1\ 1 \\ \hline \dots\dots \end{array}$$

02 – No verão aqui no Brasil, o clima é bastante quente e as sorveterias vendem muitos picolés. Veja quantos picolés a sorveteria Pólo Norte vendeu em apenas uma semana:

Domingo	230
Segunda-feira	80
Terça-feira	69
Quarta-feira	93
Quinta-feira	77
Sexta-feira	112
Sábado	210

a) Considerando o sábado e o domingo juntos, calcule quantos sorvetes foram vendidos? _____

b) Adicione as quantidades de sorvetes vendidos de segunda a quarta-feira? _____

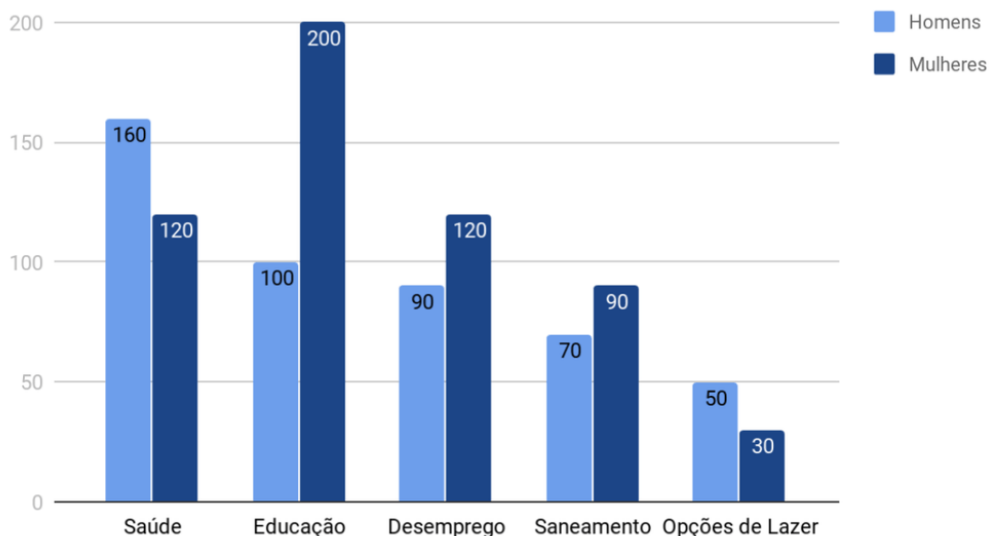
c) Considere a semana toda, quantos sorvetes foram vendidos?

Contas

ESTATISTICA

01) Para saber quais os principais problemas que estão ocorrendo na cidade e direcionar melhor suas ações um prefeito de uma cidade do interior do Paraná fez uma pesquisa com parte da população de 16 a 60 anos. O resultado da pesquisa esta representado pelo gráfico a seguir.

Problemas apontados pela população



a) Qual o maior problema indicado pelos homens? _____ E pelas mulheres?
_____.

b) Quantos homens foram entrevistados? _____

c) Quantas mulheres foram entrevistadas? _____

d) Qual o maior problema indicado pela população? _____

e) Foram entrevistadas mais homens ou mais mulheres? _____

f) Com os dados do gráfico preencha a tabela abaixo:

PROBLEMAS APONTADOS PELA POPULAÇÃO

PROBLEMAS	HOMENS	MULHERES
Saúde	160	120
Educação		
Desemprego		
Saneamento		
Opções de lazer		

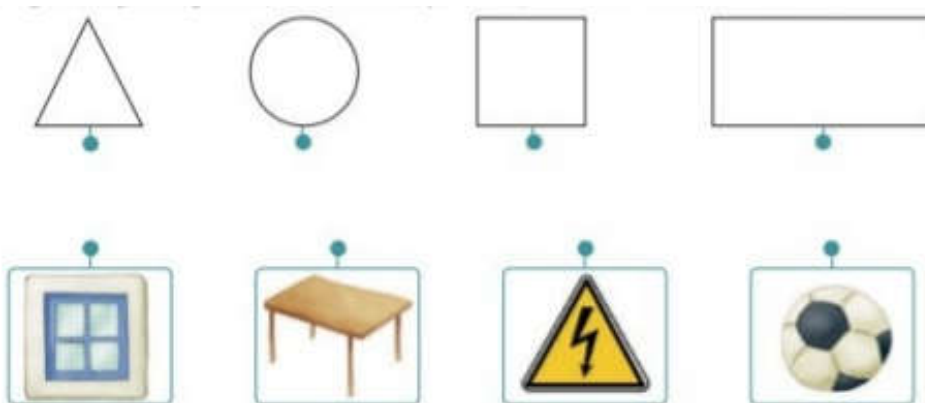
GEOMETRIA

Pinte o desenho conforme a legenda:

- Círculo de amarelo
- Quadrado de vermelho
- Triângulo de laranja
- Retângulo de azul.



02 – Ligue as figuras geométricas aos objetos que tem forma semelhante:



03 – De o nome das figuras geométricas planas acima:

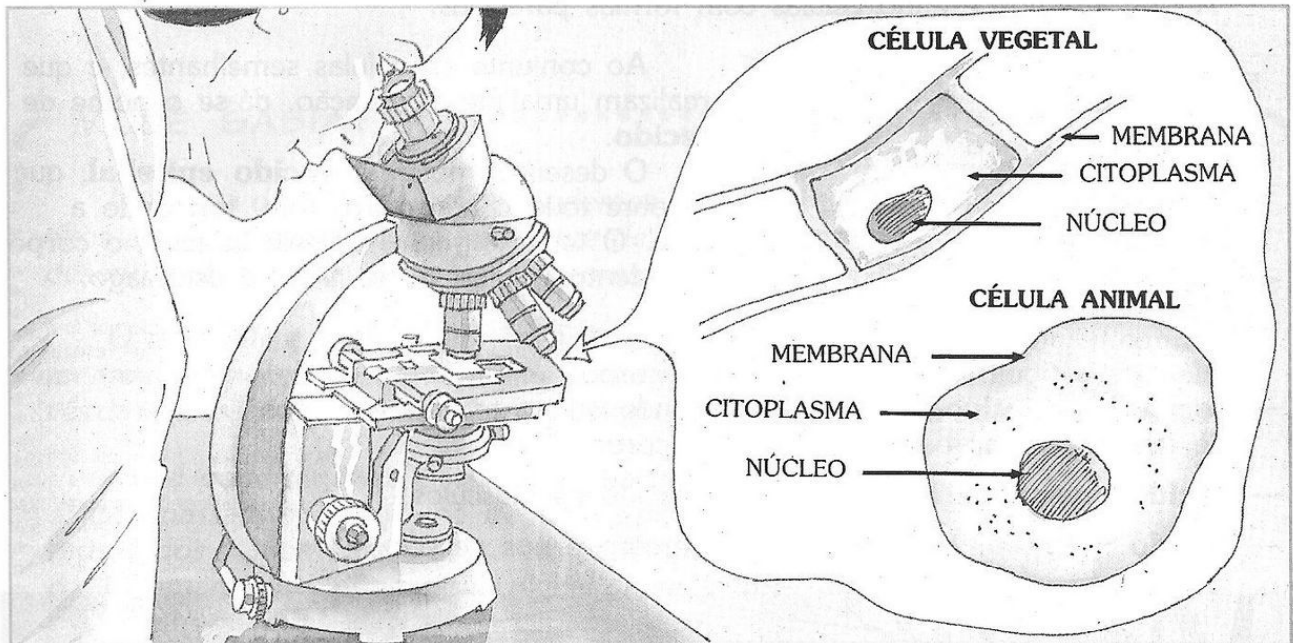
Leia com atenção o texto abaixo e responda as questões:

As células

O corpo humano e o corpo da maioria dos seres vivos é formado de pequenas partes vivas chamadas **células**.

As células geralmente são tão pequenas que só podem ser vistas com a ajuda do microscópio.

Observe uma célula de um vegetal e outra de um animal:



Geralmente, as células têm três partes:

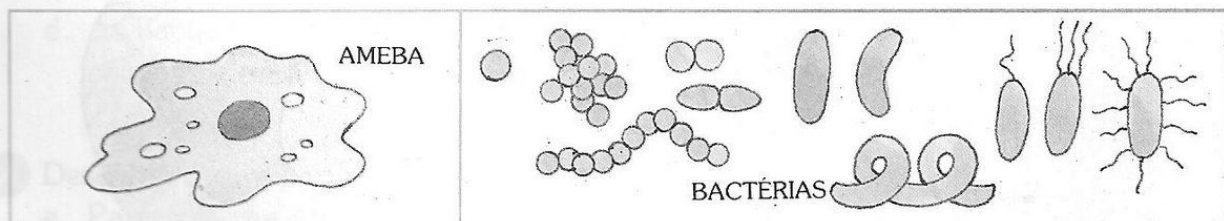
- **Membrana:** envolve e protege a célula; por ela entram substâncias como água, alimentos e oxigênio e saem outras substâncias;
- **Citoplasma:** é responsável pela nutrição* da célula; *nutrição: sustento
- **Núcleo:** é responsável pela reprodução da célula.

VOCE SABIA?

O corpo de quase todos os seres vivos é formado por um grande número de células, com formas e funções diferentes.

Existem também seres vivos formados por uma única célula.

São os seres **unicelulares**, como as amebas e bactérias, também chamados de micróbios ou microorganismos.



01- Como são chamadas as pequenas estruturas que formam o corpo de todos os seres vivos?

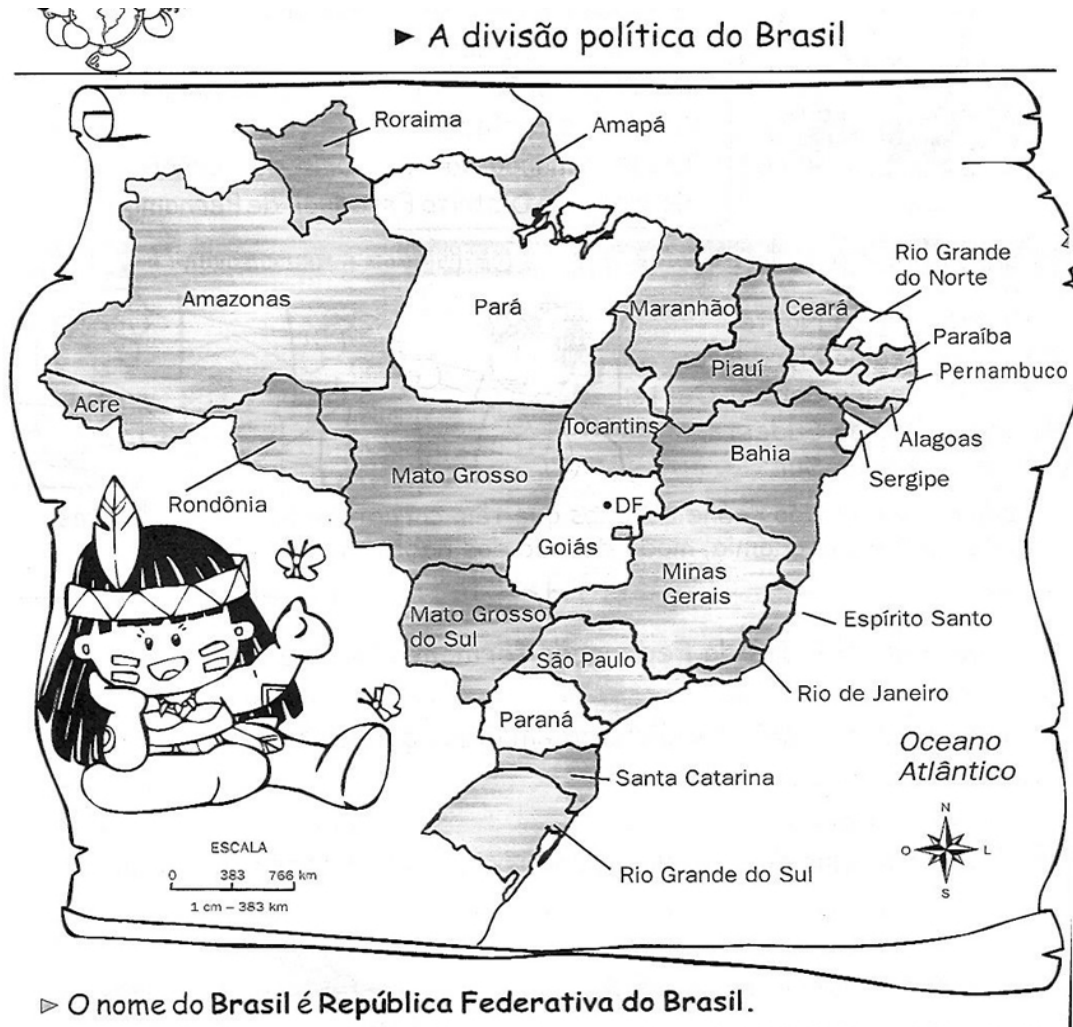
02 – As células são muito pequenas e só podem ser vistas com auxílio de um _____.

03 – Nomeie as três partes principais de uma célula. _____, _____, _____.

04 – Como são chamados os seres vivos formados por uma única célula? _____.

GEOGRAFIA – PROF. JULIANA PIANA DOS SANTOS

01 - Observe a imagem e leia com atenção o texto abaixo para responder as questões.



- ▶ O nome do Brasil é República Federativa do Brasil.
- ▶ O Brasil é um país muito extenso: tem 8.547.404 quilômetros quadrados de área. Sua população é muito numerosa. Eram aproximadamente 182 milhões de habitantes em 2004.
- ▶ De acordo com a Constituição de 1988, o Brasil passou a ter 27 unidades da Federação: 26 Estados e um Distrito Federal. No Distrito Federal encontra-se Brasília a capital do nosso país, sede do governo brasileiro.

01- Qual o correto nome do Brasil?

02- Quantos habitantes eram em 2014, no Brasil? _____ Escreva esse número por extenso _____

03- Qual é a extensão do Brasil? _____

04- Como o Brasil foi dividido, segundo a constituição de 1988?

_____.

ORTOGRAFIA.

01 - ACENTUAÇÃO DE PALAVRAS MONOSSÍLABAS, OXÍTONAS E PROPAROXÍTONAS.

As **palavras monossílabas tônicas** terminadas em A, AS, E, ES, O OS são acentuadas. Exemplo: **pá, gás, pé, mês, pó, nós.**

As **palavras oxítonas** terminadas em A, AS, E, ES, O, OS, EM, ENS são acentuadas. Exemplos: **poderá, sofás, chaminé, viés, vovô, xodós, também, parabéns.**

Todas as **palavras proparoxítonas** são acentuadas. Exemplos: **músico, síndrome, rápido, relâmpago, ônibus, sólido.**

01- Leia esta resenha.

“Dudu do Cavaco Convida” é o CD de estréia de Eduardo Gontijo e também o primeiro álbum completo lançado por um músico com Síndrome deDown no Brasil. [...]

O CD poderá ser encontrado nas palestras e shows do Dudu do Cavaco e do seu irmão e parceiro, Leonardo Gontijo, [...] a partir de 20 de novembro. [...]

Disponível em: <http://brasil.estadao.com.br/blogs/vencer-limites/dudu-do-cavaco-lanca-cd/>. Acesso em 23 jan. 2018.

- Circule as palavras **proparoxítonas**, sublinhe com um traço as **monossílabas tônicas** e com dois traços as **oxítonas** com acento gráfico, encontradas na resenha.

02- Leia estas palavras em voz alta.

exército	retângulo	incrível	Ângelo	português
beleza	mínimo	código	invisível	máquina
vatapá	enchente	melancia	célula	hipopótamo

a) Copie as palavras oxítonas.

b) Agora, copie as palavras proparoxítonas.

03- Copie as frases substituindo as figuras por palavras.



a) Vovó deu um _____ no fio de lã.



b) O pedreiro recolheu a terra com a _____



c) O jogador fez _____ cestas nos minutos finais do jogo.

04- Escreva o nome de cinco estados brasileiros que são palavras oxítonas acentuadas.

05- Escreva o nome de três frutas que são palavras oxítonas não acentuadas.

06- Acentue a palavra se necessário.

trânsito	cerebro	rustico	pendulo	timido
comodo	marmore	matematica	musica	relampago
principe	oculos	escandalo	modulo	sabado

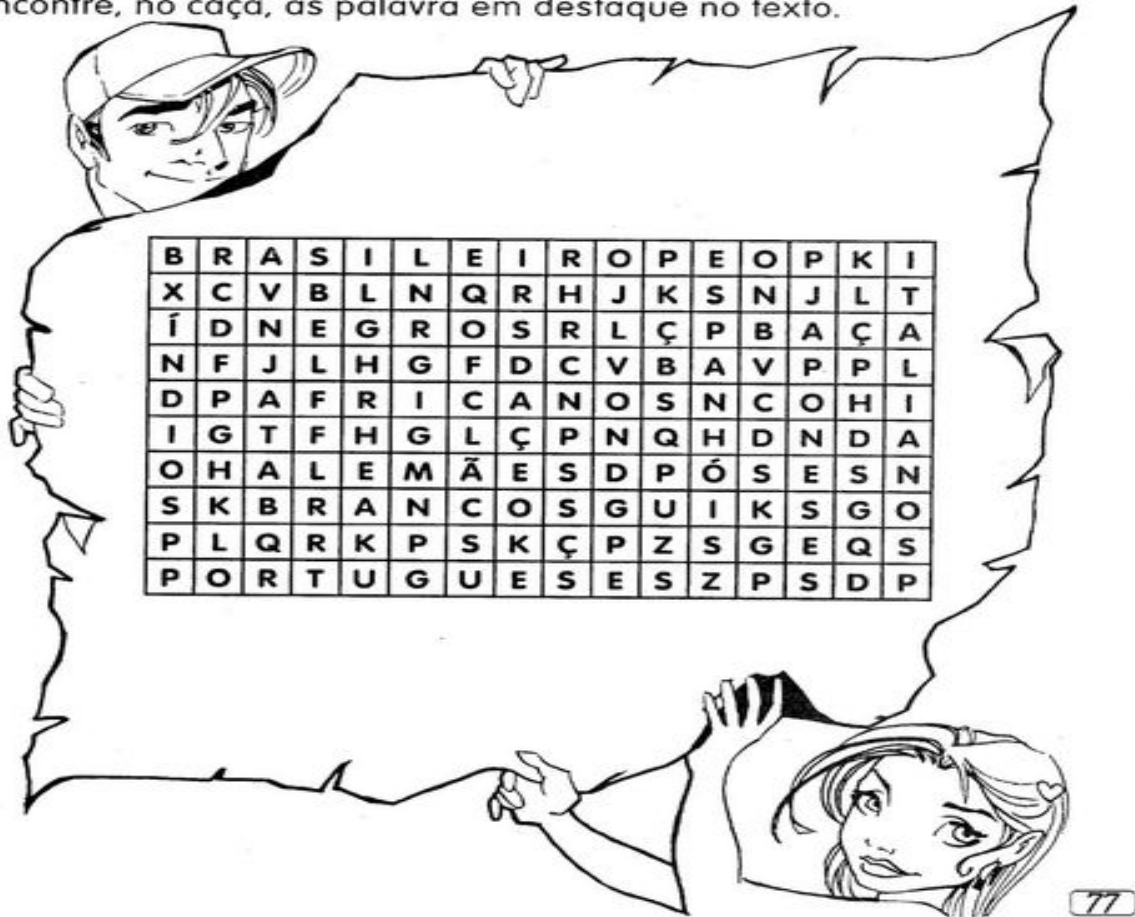
• O que você observou?

História - Profª Samara

Formação do Povo Brasileiro

O povo **brasileiro** é a união de vários povos, O primeiro povo a habitar as terras brasileiras foram os **índios** . Em 1500 chegaram os **portugueses**, depois os **espanhois**, que constituíram os **brancos** na formação do nosso povo. Com a colonização do Brasil, vieram os **africanos**, eram os **negros**. Muito mais tarde, juntaram-se a esse povo os imigrantes **italianos, alemães, japoneses** e muitos outros, que ajudaram a construir o nosso país.

7 Encontre, no caça, as palavras em destaque no texto.



Explique no quadro a seguir o que você entendeu sobre a formação do povo brasileiro.

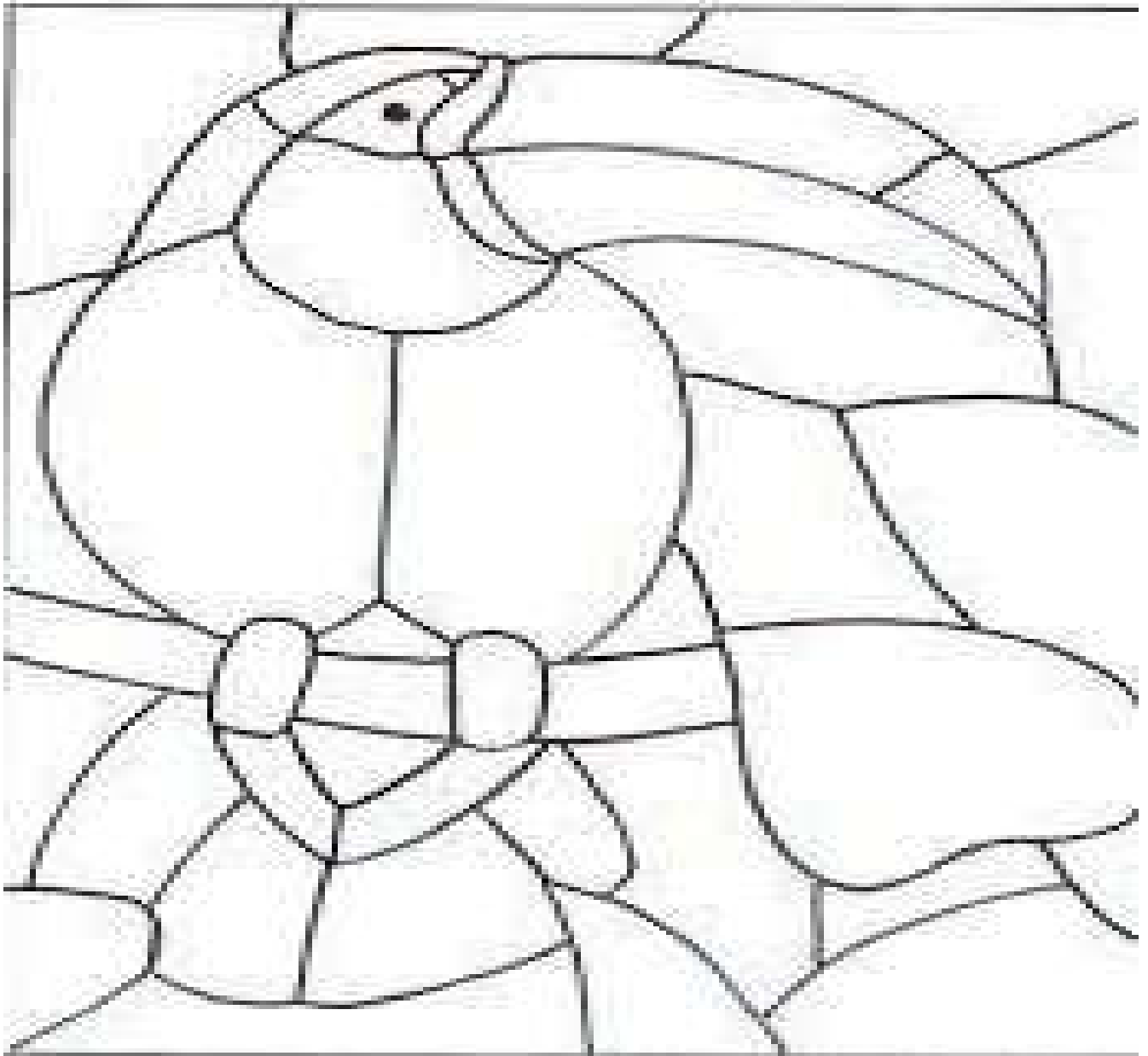
Artes - Profª Samara

Mosaico

O mosaico é uma das artes decorativas mais antigas. É originário das civilizações egípcias e assíria e estendeu-se por todo o oriente médio. A técnica consiste em cortar pequenos pedaços de papel e uni-los harmoniosamente, a arte do mosaico exige muita paciência e dedicação.



1ª Atividade: Utilize o material de apoio e confeccione no desenho abaixo a **Arte do Mosaico**.



Brincar é participar

Hoje em dia a televisão anuncia, com insistência, brinquedos incríveis: sofisticados, coloridos, autossuficientes, barulhentos e caros. Uma tentação para qualquer criança.

Mas, com a mesma intensidade com que atraem a criança, são deixados de lado após serem manipulados, no máximo, durante uma semana. É que a maioria deles dispensa a colaboração da criança. Esta precisa apenas apertar um botão e ver a máquina maravilhosa funcionar por si mesma. Está tudo previsto e certo, como um programa de televisão. Só tem um defeito: cansa.

Por outro lado, quem nos explica a magia dos velhos brinquedos e brincadeiras que sobreviveram às nossas bisavós, avós, pais e chegam a nós ainda fascinantes?

Que fada ou duende inventou o pião, a pipa, as bolas de gude, o jogo da amarelinha, o cabo-de-guerra, o mata-soltado, o bilboquê, os cubos de montar e inventar, o barro para modelar coisas e sujar crianças, a brincadeira de roda, o esconde-esconde?

Quem descobriu essas brincadeiras que nunca enjoam? Foi a televisão? Foram os engenheiros das fábricas de brinquedos? Não. Foram as próprias crianças através dos séculos. Uma herança que deve ser transmitida às crianças futuras. Afinal, brincar sempre é preciso...

Maria Helena Correa

Interpretação de texto

- 1) Qual o título do texto?

- 2) O que a televisão anuncia hoje em dia?

- 3) Por que esses brinquedos são deixados de lado no máximo após uma semana?

- 4) Quais são algumas das brincadeiras mais antigas apontadas no texto?

Utilize o espaço em branco e desenhe alguns brinquedos que são apontadas no texto?



Cruzadas da Ressurreição

2 letras:
FÉ

3 letras:
MÃE

4 letras:
ALMA
VIVE

5 letras:
ELIAS
FILHO
VIÚVA

6 letras:
CLAMOU
CHOROU
MENINO
MORREU
SENHOR

7 letras:
ADOECEU
ALEGRIA
PALAVRA
PROFETA
SAREPTA
VERDADE


10 letras:
SENTIMENTO

12 letras:
RESSURREIÇÃO



João 11:25

"Disse-lhe Jesus: Eu sou a ressurreição e a vida. Quem crê em mim, ainda que morra, viverá..."



DIA DO FOLCLORE – 22 DE AGOSTO

NO DIA 22 DE AGOSTO COMEMORAMOS O FOLCLORE BRASILEIRO. FOLCLORE QUER DIZER COSTUMES DE UM POVO: FESTAS, DANÇAS, MÚSICAS, VESTIMENTAS, JOGOS, HISTÓRIAS, LENDAS, BRINCADEIRAS.

OBSERVE ESTES PERSONAGENS DO NOSSO FOLCLORE E PINTE-OS.



SACI-PERERÊ





















NEGRINHO DO PASTOREIRO



CURUPIRA

SISTEMA MONETÁRIO

Dona Mariquinha está fazendo uma liquidação na sua loja e colocou vários produtos em promoção. Pinte as notas que você precisa para fazer as compras.

 <p>R\$ 85,00</p>	     
<p>R\$ 17,00</p> 	    
<p>R\$ 35,00</p> 	   
<p>R\$ 7,00</p> 