

CENTRO MUNICIPAL DE EDUCAÇÃO INFANTIL THEREZINHA FOSCHERA

Rua Sarandi, Nº 301 Bairro Santo Antônio Fone: (0xx45) 3233-12-49.

CAMPO BONITO

CEP: 85.450-000

PARANÁ

Turma: Pré II A

Data: 20/11/2020 á 04/12/2020

PROFESSORES RESPONSÁVEIS: Verinha Fiorese e Fabieli Sampietro

Nome do Aluno (a): _____

ATIVIDADE 1

PREVENÇÃO DE ACIDENTES

ANIMAIS PEÇONHENTOS X ANIMAIS VENENOSOS

ANIMAIS PEÇONHENTOS SÃO AQUELES QUE POSSUEM GLÂNDULAS DE VENENO E QUE O INJETAM COM FACILIDADE POR MEIO DE DENTES OCOS, FERRÕES OU AGULHÕES POR ONDE O VENENO PASSA ATIVAMENTE. EX.: SERPENTES, ARANHAS, ESCORPIÕES, ABELHAS, ARRAIAS. ANIMAIS VENENOSOS SÃO AQUELES QUE PRODUZEM VENENO, MAS NÃO POSSUEM UM APARELHO INOCULADOR (DENTES, FERRÕES) PROVOCANDO ENVENENAMENTO PASSIVO POR CONTATO (TATURANA), POR COMPRESSÃO (SAPO) OU POR INGESTÃO (PEIXE BAIACU). ESTUDOS MOSTRAM QUE O CONVÍVIO ENTRE AS CRIANÇAS E ANIMAIS TRAZ MUITOS BENEFÍCIOS PARA A SAÚDE E PARA O BEM-ESTAR, ENTRETANTO, É PRECISO TOMAR ALGUNS CUIDADOS PARA EVITAR QUE ACIDENTES OCORRAM.

AGORA QUE SABEMOS QUAIS SÃO ALGUNS DOS ANIMAIS PEÇONHENTOS/VENENOSOS E O QUE ELAS PODEM CAUSAR, REALIZE COM SEU (A) FILHO (A) A LEITURA DA ATIVIDADE ASSINALANDO VERDADEIRO (V) OU FALSO (F) PARA AS ALTERNATIVAS SEGUINTE:

() MANTER LIMPOS QUINTAIS, JARDINS E TERRENOS BALDIOS, NÃO ACUMULANDO ENTULHO E LIXO DOMÉSTICO PREVENINDO O ALOJAMENTO DOS ANIMAIS NESSES LOCAIS.

() É SEGURO TER ANIMAL PEÇONHENTO OU VENENOSO COMO ANIMAL DE ESTIMAÇÃO EM SEU AMBIENTE FAMILIAR.

() EXAMINAR ROUPAS, CALÇADOS E TOALHAS ANTES DE USÁ-LOS.

() DEVEMOS ANDAR SEMPRE DESCALÇO EM AMBIENTES COM ENTULHO OU MATAS.

() NÃO DEVEMOS BUSCAR AJUDA MÉDICA EM CASO DE PICADAS DE ESCORPIÃO OU COBRAS.

() A PRESENÇA DE ROEDORES PODE INDICAR A PRESENÇA DE SERPENTES TAMBÉM, POIS OS ROEDORES SÃO ALIMENTO PARA AS COBRAS.

ATIVIDADE 2

ANIMAIS NOCIVOS

SÃO ANIMAIS QUE FAZEM MAL AO HOMEM, AOS OUTROS ANIMAIS E ÀS PLANTAS.


ACESSE O LINK: <https://www.youtube.com/watch?v=wvscdTzHrEc>

DEPOIS QUE ASSISTIR AO VÍDEO, OBSERVE AS IMAGENS E NUMERE OS ANIMAIS DE ACORDO COM A FORMA COMO ELAS PODEM SER NOCIVOS AO HOMEM.

1 TRANSMITEM DOENÇAS

2 SÃO VENENOSOS


3 DESTROEM AS PLANTAÇÕES



_____ ○



_____ ○




_____ ○




○ _____


_____ ○



○ _____



_____ ○



○ _____




_____ ○



○ _____



_____ ○








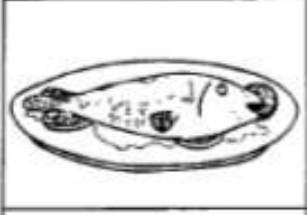





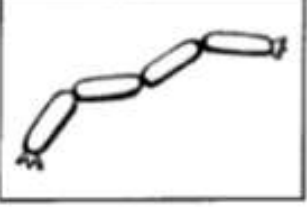
○ _____

ATIVIDADE 3

ANIMAIS ÚTEIS









OS ANIMAIS ÚTEIS SÃO AQUELES USADOS PELO HOMEM PARA REALIZAR TRABALHO OU PARA FORNECER ALIMENTOS E OUTROS PRODUTOS.

AGORA LIGUE O ANIMAL AO PRODUTO E ALIMENTO QUE ELE FORNECE:

	•	•	
	•	•	
	•	•	
	•	•	
	•	•	
	•	•	

ATIVIDADE 4

VAMOS CONTAR OS ANIMAIS DE CADA CERQUINHA, RECORTE E COLE A QUANTIDADE CORRESPONDENTE EM CADA RETÂNGULO.



1 GATO

2 GALINHAS

3 PATOS

4 CACHORROS

5 OVELHAS


6 PORCOS

7 CAVALOS

8 VACAS

ATIVIDADE 5

COM AJUDA DA FAMÍLIA RESOLVA O PROBLEMINHA:



2-QUANTOS ANIMAIS VOCÊ PODE VER DENTRO DA ARCA?

3-QUANTOS ESTÃO FORA DA ARCA?

4-QUANTOS ANIMAIS SÃO DOMÉSTICOS?

5-QUANTOS ANIMAIS SÃO SELVAGENS?

6-QUANTAS AVES?

7-QUANTOS PEIXES?

ATIVIDADE 6

VÔLEI CEGO

MATERIAL: DUAS CADEIRAS, UM CABO DE VASSOURA, LENÇOL, TOALHA OU TAPETE E BALÃO OU SACOLA PLÁSTICA.

REGRAS: SÓ PODE DAR TRÊS TOQUES ANTES DE JOGAR PARA O ADVERSÁRIO;

NÃO PODE BATER NO CHÃO;

OS PARTICIPANTES DEVEM FICAR SENTADOS NO CHÃO;

PARA REALIZAR ESTA ATIVIDADE É NECESSÁRIO DISPOR NO AMBIENTE DUAS CADEIRAS PRÓXIMAS UMA DA OUTRA, COLOCAR O CABO DE VASSOURA EM CIMA DAS CADEIRAS APOIADAS, COLOCANDO O LENÇOL, TOLHA OU TAPETE ESTENDIDO EM CIMA DO CABO DE VASSOURA, ENCHER O BALÃO OU SACOLA DE AR PARA FAZER A BOLA DE VÔLEI. PARA REALIZAR ESTA ATIVIDADE SÃO NECESSÁRIOS DOIS PARTICIPANTES, CADA PARTICIPANTE FICA SENTADO NO CHÃO, EM LADOS OPOSTOS, UM COMEÇA JOGANDO O BALÃO OU SACOLA PLÁSTICA E O OUTRO DEVE REBATER SEM DEIXAR A BALÃO CAIR NO CHÃO E SEM DEIXAR SAIR DO ESPAÇO DELIMITADO DAS CADEIRAS, QUEM CONSEGUIR FAZER O MAIOR NÚMERO DE PONTOS É O VENCEDOR.




ATIVIDADE 7

DESENVOLVIMENTO DO RACIOCÍNIO LÓGICO

O RACIOCÍNIO LÓGICO ESTÁ LIGADO A CONCEITOS CAPAZES DE ORGANIZAR E CLAREAR AS SITUAÇÕES COTIDIANAS, PREPARANDO CRIANÇAS E JOVENS PARA CIRCUNSTÂNCIAS MAIS COMPLEXAS.

RECORTE OS PRODUTOS DO QUADRADO AO LADO E COLOQUE EM CIMA DO CIRCULO QUE CORRESPONDE A SUA ORIGEM.




































ATIVIDADES DE REPOSIÇÃO


ATIVIDADE PARA SER REALIZADA NO DIA 21/11/2020 REFERENTE À REPOSIÇÃO DO DIA 28/04/2020

ATIVIDADE 1

- CONTE OS ANIMAIS DE CADA ESPÉCIE E REGISTRE

ATIVIDADE 2



ALFABETO

1- CIRCULE NO ALFABETO ABAIXO, AS LETRAS QUE FORMAM O SEU NOME:

A - B - C - D - E - F - G - H - I
J - K - L - M - N - O - P - Q - R
S - T - U - V - W - X - Y - Z

2 - COMPLETE A SEQUÊNCIA ALFABÉTICA:

A	→		→		→		→	
	→		→		→		→	
	→		→		→		→	
	→		→		→		→	
	→		→		→		→	
Z								

3 - PINTÉ COM A COR LARANJA, AS VOGAIS
E COM A COR AMARELA, AS CONSOANTES

CENTRO MUNICIPAL DE EDUCAÇÃO INFANTIL THEREZINHA FOSCHERA

Rua Sarandi, Nº 301 Bairro Santo Antônio Fone: (0xx45) 3233-12-49.

CAMPO BONITO

CEP: 85.450-000

PARANÁ

FICHA DE ACOMPANHAMENTO – PRÉ ESCOLAR II 4 Á 5 ANOS

ANO LETIVO: 2020

CAMPO PARA REGISTRO DE EXPERIÊNCIAS PARA OS PAIS OU RESPONSÁVEIS PREENCHER COM A REALIZAÇÃO DAS ATIVIDADES REMOTAS.

Atividade 1: _____

Atividade 2: _____

Atividade 3: _____

Atividade 4: _____

Atividade 5: _____

Atividade 6: _____

Atividade 7: _____

AVALIAÇÃO DAS ATIVIDADES DE REPOSIÇÃO

Atividade 1: _____

Atividade 2: _____
