



ESCOLA MUNICIPAL LAURO LUIZ

Anos Iniciais do Ensino Fundamental
Rua Treze de Maio, nº 311 Fone: (45) 3233-1222
Email: escolalauro Luiz@hotmail.com
CAMPO BONITO CEP: 85.450-000 PARANÁ

Campo Bonito, 14 de agosto de 2020. Sala de apoio 2º ano

Aluno(a) _____

Professora: Claudete Aparecida Simioni

ORTOGRAFIA- alfabeto minúsculo e maiúsculo. Vogais e consoantes

Alfabeto

1. Copie o alfabeto maiúsculo.

A	B	C	D	E	F	G
_____	_____	_____	_____	_____	_____	_____
H	I	J	K	L	M	N
_____	_____	_____	_____	_____	_____	_____
O	P	Q	R	S	T	U
_____	_____	_____	_____	_____	_____	_____
V	W	X	Y	Z		
_____	_____	_____	_____	_____		

2. Complete com as letras que estão faltando no alfabeto minúsculo.

a b _____ d e _____ g h _____

j k _____ n _____ o

r _____ t _____ v _____ x y _____

3. Complete as palavras dos quadrados com vogais e copie-as ao lado.

t <input type="text"/> m <input type="text"/> d <input type="text"/>	_____
s <input type="text"/> r v <input type="text"/> t <input type="text"/>	_____
c <input type="text"/> d <input type="text"/> <input type="text"/> r <input type="text"/>	_____
p <input type="text"/> s t <input type="text"/> l	_____
v <input type="text"/> <input type="text"/> l <input type="text"/> t <input type="text"/>	_____


5. Complete as palavras dos quadrados com consoantes e copie-as ao lado.

<input type="text"/> ua <input type="text"/> da	_____
e <input type="text"/> xu <input type="text"/> a <input type="text"/>	_____
la <input type="text"/> ar <input type="text"/> a	_____
<input type="text"/> é <input type="text"/> ola	_____
t <input type="text"/> a <input type="text"/> a <input type="text"/> ho	_____

4. Escreva o nome das figuras.



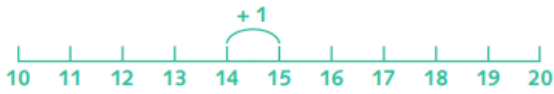




MATEMÁTICA

CÁLCULOS DIVERTIDOS

1 Calcule cada adição utilizando a reta numérica. Veja o modelo.



$14 + 1 = \underline{15}$

- a. $12 + 2 = \underline{\quad}$ d. $18 + 2 = \underline{\quad}$
 b. $16 + 2 = \underline{\quad}$ e. $11 + 6 = \underline{\quad}$
 c. $10 + 5 = \underline{\quad}$ f. $14 + 3 = \underline{\quad}$

2 Escreva, nos quadrinhos, a letra que corresponde ao resultado das somas e descubra a mensagem.

1	2	3	4	5
M	S	I	T	O
6	7	8	9	10
G	D	E	A	J

$1 + 1$	$4 + 4$	$5 + 4 + 1$	$3 + 3 + 3$


$3 + 2 + 4$	$1 + 0$	$1 + 1 + 1$	$2 + 2 + 2$	$3 + 2$

$4 + 3$	$5 + 3$

$2 + 2$	$3 + 2$	$4 + 3$	$4 + 1$	$0 + 2$

Agora, copie a mensagem encontrada.

5- Escreva números de 5 em 5 nos vagões do trem



3 Vamos caçar números? Pinte a resposta no quadro abaixo.

- a. A soma $10 + 10$.
 b. O mesmo que 3 dezenas.
 c. O sucessor de 47.
 d. Se acrescentar 5 unidades, vou encontrar o número 14.
 e. É o mesmo que $9 + 8$.

0	17	14	6	8	42	30
16	02	20	25	53	33	27
48	32	49	18	44	9	32

4 Com o resultado das adições por extenso, complete a cruzadinha.

