




(SALA DE RECURSOS MULTIFUNCIONAL- TURMAS A e D) ATIVIDADES REMOTAS-PORTUGUÊS

ALUNO (A): _____

PROFESSORA: MARIA JOSÉ VIEIRA DA ROCHA

8. VAMOS FAZER A CRUZADINHA.



- 1) GIRAFA
- 2) GELO
- 3) GELADO
- 4) GIRASSOL
- 5) GELADEIRA
- 6) GILETE

- 7) RELÓGIO
- 8) TIGELA
- 9) GENTIL
- 10) INTELIGENTE
- 11) GIBI
- 12) GEMA

- 13) GEMADA
- 14) GIGANTE
- 15) GELÉIA
- 16) AGENDA
- 17) GELATINA
- 18) FRIGIDEIRA



ESCOLA MUNICIPAL LAURO LUIZ

Anos Iniciais do Ensino Fundamental

Rua Treze de Maio, nº 311 Fone: (45) 3233-1222

Email: escolalauro Luiz@hotmail.com

CAMPO BONITO

CEP: 85.450-000

PARANÁ

AS FRUTAS

CRUZADINHA

CRUZADINHA

- CAQUI
- CEREJA
- PERA
- MAMÃO
- LARANJA
- GOIABA
- AMORA
- LIMÃO
- MAÇÃ



ESCOLA MUNICIPAL LAURO LUIZ





















Anos Iniciais do Ensino Fundamental
Rua Treze de Maio, nº 311 Fone: (45) 3233-1222
Email: escolalauro Luiz@hotmail.com
CAMPO BONITO CEP: 85.450-000 PARANÁ





















(SALA DE RECURSOS MULTIFUNCIONAL-TURMAS A e D) ATIVIDADES REMOTAS- MATEMÁTICA

ALUNO (A): _____

PROFESSORA: MARIA JOSÉ VIEIRA DA ROCHA

DESCUBRA OS NÚMEROS QUE ESTÃO NO LUGAR DOS SÍMBOLOS.

1	2	3		5			8		
11			14		16	17		19	20
21		23		25	26		28		30
31	32		34	35		37		39	40
41	42	43			46			49	50

	<input type="text"/>		<input type="text"/>		<input type="text"/>		<input type="text"/>
	<input type="text"/>		<input type="text"/>		<input type="text"/>		<input type="text"/>
	<input type="text"/>		<input type="text"/>		<input type="text"/>		<input type="text"/>
	<input type="text"/>		<input type="text"/>		<input type="text"/>		<input type="text"/>
	<input type="text"/>		<input type="text"/>		<input type="text"/>		<input type="text"/>

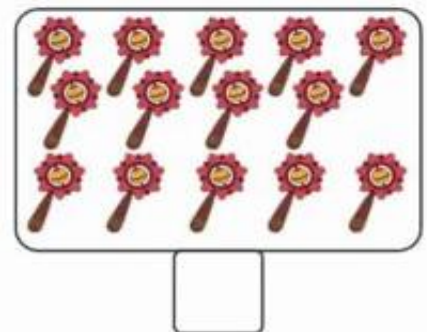
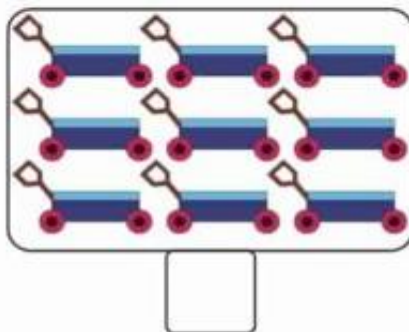
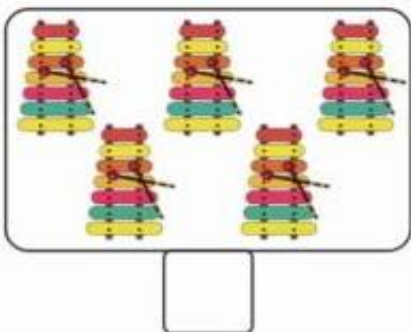
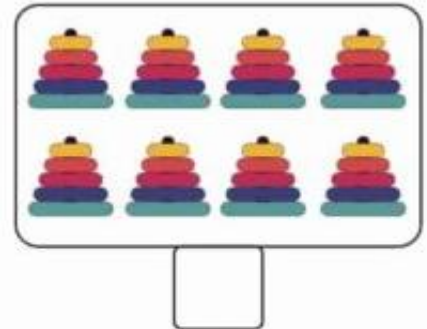
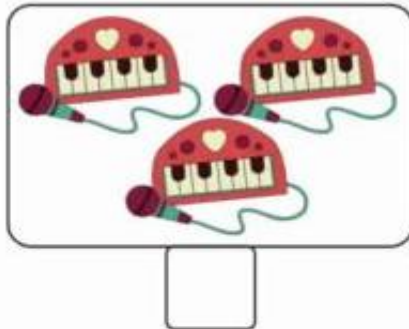
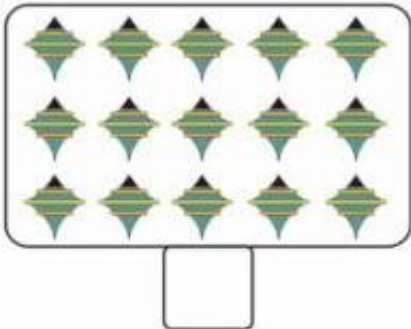
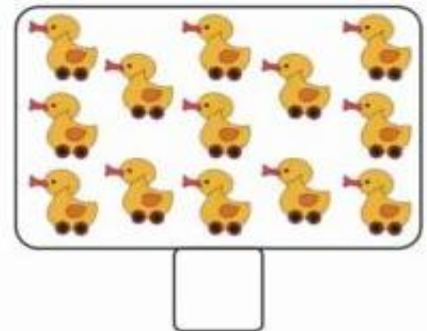
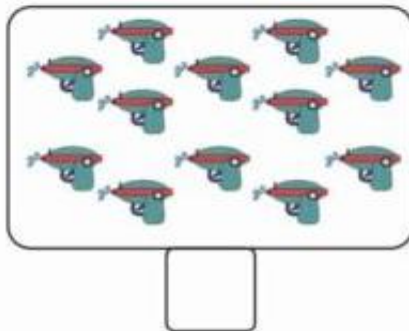
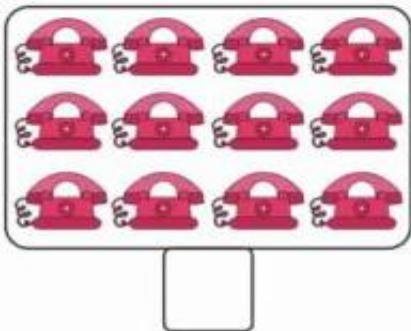
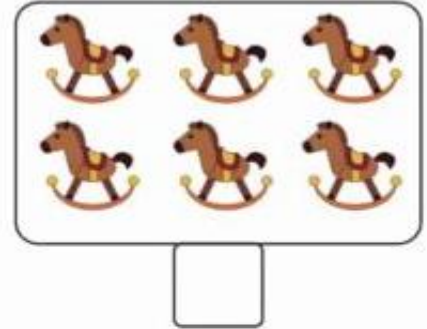
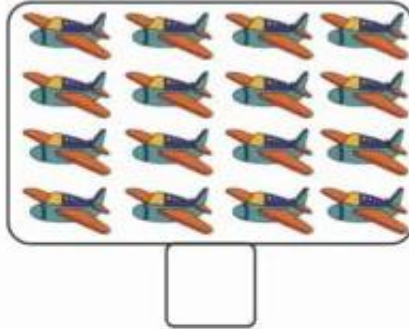
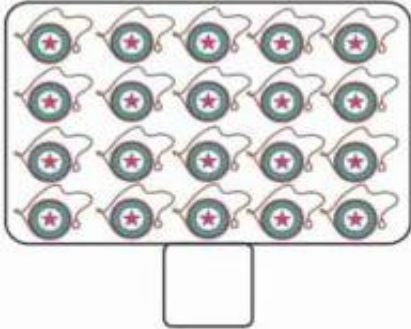


ESCOLA MUNICIPAL LAURO LUIZ

Anos Iniciais do Ensino Fundamental
Rua Treze de Maio, nº 311 Fone: (45) 3233-1222

Email: escolalauro Luiz@hotmail.com
CAMPO BONITO CEP: 86.450-000 PARANÁ

CONTE ATÉ 20.






ESCOLA MUNICIPAL LAURO LUIZ

Anos Iniciais do Ensino Fundamental
Rua Treze de Maio, nº 311 Fone: (45) 3233-1222
Email: escolalauro Luiz@hotmail.com
CAMPO BONITO CEP: 85.450-000 PARANÁ

(SALA DE RECURSOS MULTIFUNCIONAL-TURMAS A e D) ATIVIDADES REMOTAS-
MATEMÁTICA

REPOSIÇÃO REFERENTE AO DIA 17/04/2020

Matemática



1 - COMPLETE A SEQUÊNCIA NUMÉRICA ATÉ 30.

1					6				

2 - COMPLETE.

A) O NÚMERO QUE VEM ANTES DO 11 É _____.

B) O NÚMERO QUE ESTÁ ENTRE O 27 E O 29 É _____.

C) O ÚLTIMO NÚMERO DA 1ª LINHA É _____.

D) O 1º NÚMERO DA 3ª LINHA É _____.

E) O NÚMERO QUE VEM DEPOIS DO 19 É _____.

F) ESTA SEQUÊNCIA VAI ATÉ O NÚMERO _____.

G) QUANTAS DEZENAS TEM NA SEQUÊNCIA? _____.



ESCOLA MUNICIPAL LAURO LUIZ


Anos Iniciais do Ensino Fundamental
Rua Treze de Maio, nº 311 Fone: (45) 3233-1222
Email: escolalauro Luiz@hotmail.com
CAMPO BONITO CEP: 86.450-000 PARANÁ

(SALA DE RECURSOS MULTIFUNCIONAL- TURMAS B e E) ATIVIDADES REMOTAS-PORTUGUÊS

ALUNO (A): _____

PROFESSORA: MARIA JOSÉ VIEIRA DA ROCHA

CONFECCIONAR O JOGO DA MEMÓRIA





ESCOLA MUNICIPAL LAURO LUIZ


Anos Iniciais do Ensino Fundamental
Rua Treze de Maio, nº 311 Fone: (45) 3233-1222

Email: escolalauro Luiz@hotmail.com

CAMPO BONITO

CEP: 85.450-000

PARANÁ





ESCOLA MUNICIPAL LAURO LUIZ

Anos Iniciais do Ensino Fundamental
Rua Treze de Maio, nº 311 Fone: (45) 3233-1222
Email: escolalauro Luiz@hotmail.com
CAMPO BONITO CEP: 85.450-000 PARANÁ

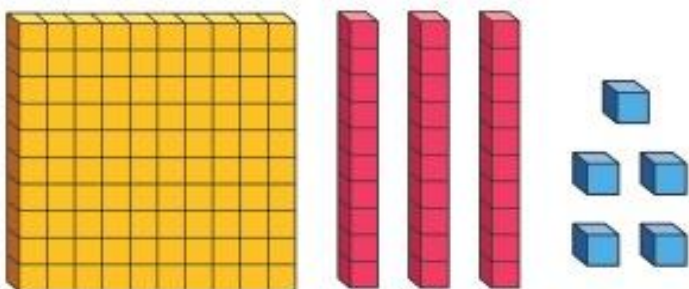
SALA DE RECURSOS MULTIFUNCIONAL-TURMAS B e E) ATIVIDADES REMOTAS-MATEMÁTICA

ALUNO (A): _____

PROFESSORA: MARIA JOSÉ VIEIRA DA ROCHA

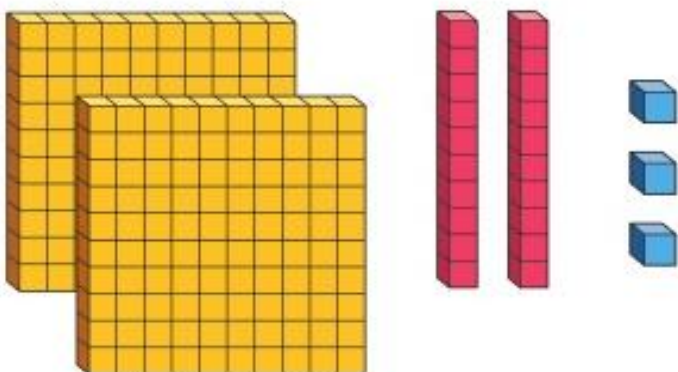
1. Escreva quantas centenas, dezenas e unidades.

a)



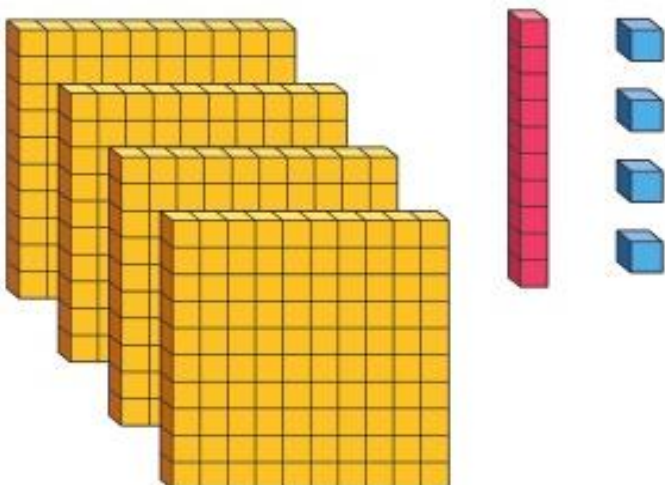
CENTENAS	DEZENAS	UNIDADES

b)



CENTENAS	DEZENAS	UNIDADES

c)

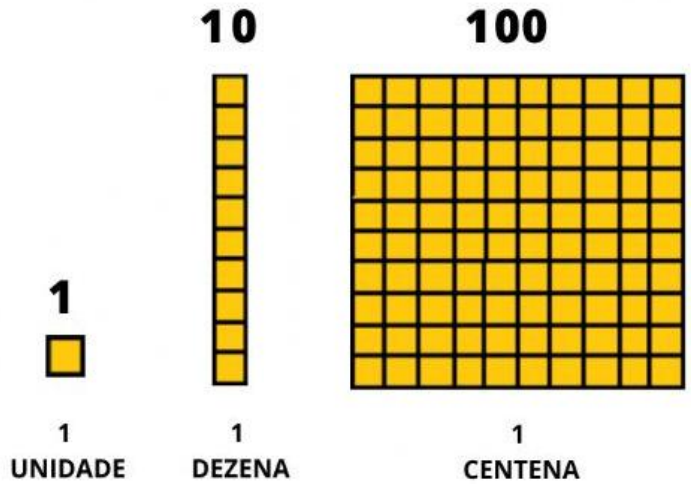


CENTENAS	DEZENAS	UNIDADES

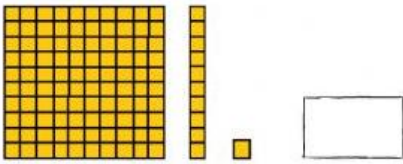


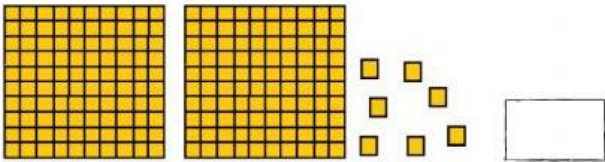
SISTEMA DE NUMERAÇÃO DECIMAL

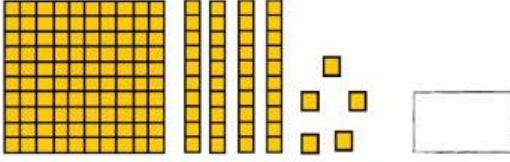
C	D	U		
CENTENA	DEZENA	UNIDADE		
1	0	0	1 CENTENA	100
	1	0	1 DEZENA	10
		1	1 UNIDADE	1




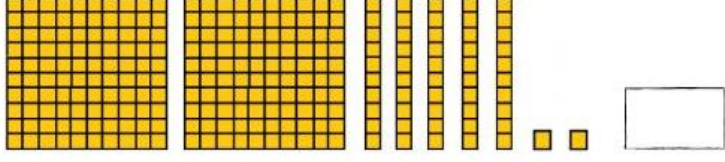
Represente com algarismos as quantidades do material dourado representados:


1 

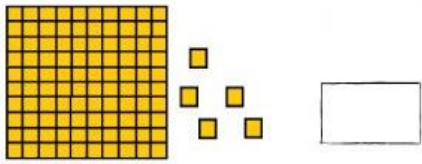
2 

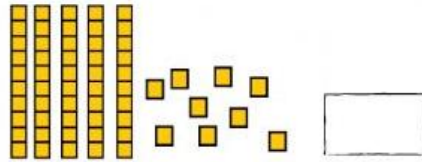
3 

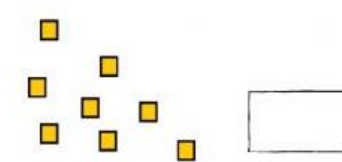
4 

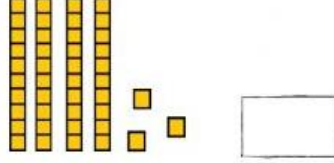
5 

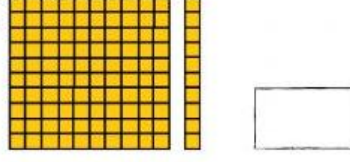
6 

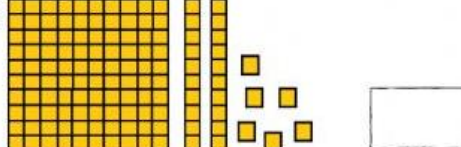
7 

8 

9 

10 

11 

12 



ESCOLA MUNICIPAL LAURO LUIZ

Anos Iniciais do Ensino Fundamental
 Rua Treze de Maio, nº 311 Fone: (45) 3233-1222
 Email: escolalauro Luiz@hotmail.com
 CAMPO BONITO CEP: 86.450-000 PARANÁ

(SALA DE RECURSOS MULTIFUNCIONAL-TURMAS C e F) ATIVIDADES REMOTAS- MATEMÁTICA

ALUNO (A): _____

PROFESSORA: MARIA JOSÉ VIEIRA DA ROCHA

Observe:

2 dezenas
 ou
 20 unidades

• Quantos há? Complete.

D	U
2	

2 dezenas e _____ unidades

D	U

_____ dezenas e _____ unidades

D	U

_____ dezenas e _____ unidades

D	U

_____ dezenas e _____ unidades

7. Escreva a seqüência.

20

--

--



ESCOLA MUNICIPAL LAURO LUIZ

Anos Iniciais do Ensino Fundamental
Rua Treze de Maio, nº 311 Fone: (45) 3233-1222
Email: escolalauro Luiz@hotmail.com
CAMPO BONITO CEP: 85.450-000 PARANÁ

Terminadas as competições da parte da manhã, dona Olga, a diretora da escola, afixou um cartaz com a pontuação das turmas na gincana.

Pontuação na gincana			
Turmas	Pontuação da parte da manhã	Pontuação da parte da tarde	Pontuação total
1º Ano A	8		
1º Ano B	7		
2º Ano A	5		
2º Ano B	9		
3º Ano A	6		
3º Ano B	11		
4º Ano A	12		
4º Ano B	10		

Fonte: Direção da Escola Monteiro Lobato

À tarde, ela completou a tabela com os resultados obtidos nesse período. Complete a coluna correspondente na tabela, sabendo que à tarde:

- A. O 1º ano A fez o dobro de pontos da manhã
- B. O 1º ano B fez o triplo de pontos da manhã
- C. O 2º ano A fez seis pontos a mais do que o da manhã
- D. O 2º ano B fez dois pontos a menos do que o da manhã
- E. O 3º ano A fez o dobro de pontos da manhã
- F. O 3º ano B fez o triplo de pontos da manhã
- G. O 4º ano A fez quatro pontos a mais do que o da manhã
- H. O 4º ano B fez a mesma quantidade de pontos da manhã

Calcule o total de pontos de cada turma e indique qual foi a vencedora da gincana.



ESCOLA MUNICIPAL LAURO LUIZ


Anos Iniciais do Ensino Fundamental
Rua Treze de Maio, nº 311 Fone: (45) 3233-1222
Email: escolalauro Luiz@hotmail.com
CAMPO BONITO CEP: 85.450-000 PARANÁ

(SALA DE RECURSOS MULTIFUNCIONAL-TURMAS C e F)ATIVIDADES REMOTAS-PORTUGUÊS

ALUNO (A): _____

PROFESSORA: MARIA JOSÉ VIEIRA DA ROCHA

ESCREVA AS FALAS DOS PERSONAGENS NOS BALÕES:





(SALA DE RECURSOS MULTIFUNCIONAL-TURMAS C e F) ATIVIDADES REMOTAS-PORTUGUÊS

REPOSIÇÃO REFERENTE AO DIA 22/04/2020

1- Leia a tirinha:



2- Responda.

a) A tirinha está fazendo referência a qual Conto de Fadas?

b) Que elementos te levaram a resposta a "a"?

c) Por que motivo Cebolinha se chama de inteligente?

d) O reflexo do espelho foi muito rápido na resposta e saiu correndo. Por quê?
