




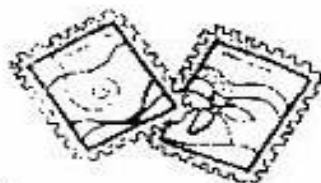

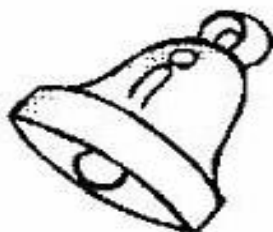
(SALA DE RECURSOS MULTIFUNCIONAL- TURMAS A e D)ATIVIDADES REMOTAS-PORTUGUÊS

ALUNO (A): \_\_\_\_\_

PROFESSORA: MARIA JOSÉ VIEIRA DA ROCHA

# DITADO RECORTADO

Recorte as palavras e cole-as nos lugares correspondentes aos desenhos.



SELO

SOFÁ

SAIA

SUCO

SACO

SINO

SAPO

SAPATO

SACOLA




# ESCOLA MUNICIPAL LAURO LUIZ

Anos Iniciais do Ensino Fundamental  
 Rua Treze de Maio, nº 311 Fone: (45) 3233-1222  
 Email: escolalauro Luiz@hotmail.com  
 CAMPO BONITO CEP: 85.450-000 PARANÁ

16 - Complete as palavras usando **S** ou **SS**. Depois preencha a cruzadinha.

- |               |               |                  |                |
|---------------|---------------|------------------|----------------|
| 1 - O__O      | 7 - PE__OA    | 13 - TRAVE__A    | 19 - TRAVE__ÃO |
| 2 - __ORVETE  | 8 - VANE__A   | 14 - __ABIÁ      | 20 - __APATO   |
| 3 - PÊ__EGO   | 9 - VA__OURA  | 15 - TRAVE__EIRO | 21 - PÁ__ARO   |
| 4 - __EDEX    | 10 - __ERROTE | 16 - __UCO       | 22 - __INO     |
| 5 - PA__AS    | 11 - MA__A    | 17 - CARRO__EL   | 23 - CÁ__IO    |
| 6 - __ABONETE | 12 - __OL     | 18 - __ALADA     | 24 - __OPA     |







**ESCOLA MUNICIPAL LAURO LUIZ**

Anos Iniciais do Ensino Fundamental

Rua Treze de Maio, nº 311 Fone: (45) 3233-1222

Email: escolalauro Luiz@hotmail.com

CAMPO BONITO

CEP: 85.450-000

PARANÁ

(SALA DE RECURSOS MULTIFUNCIONAL- TURMAS A e D) ATIVIDADES REMOTAS-PORTUGUÊS







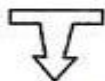







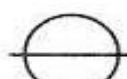







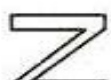

### REPOSIÇÃO- SÁBADO


ALUNO (A): \_\_\_\_\_

PROFESSORA: MARIA JOSÉ VIEIRA DA ROCHA

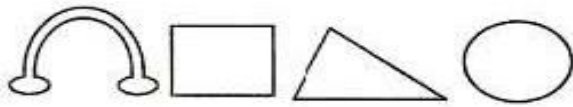
### PALAVRAS SECRETAS

Descubra quais são as palavras secretas abaixo:

 PAS	 RI	 NHO	 SE	 GUEI	 RO	 TRA	 SEI	 VES
 SA	 PES	 VAS	 RA	 O	 GAN	 SOU		
 SO	 SER	 ROS	 TE	 CAR	 SÁ	 SEL	 BI	



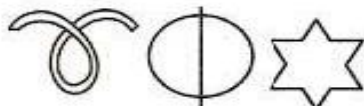
\_\_\_\_\_




\_\_\_\_\_



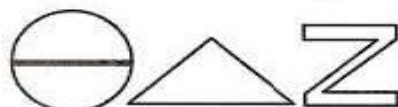
\_\_\_\_\_



\_\_\_\_\_



\_\_\_\_\_



\_\_\_\_\_



\_\_\_\_\_





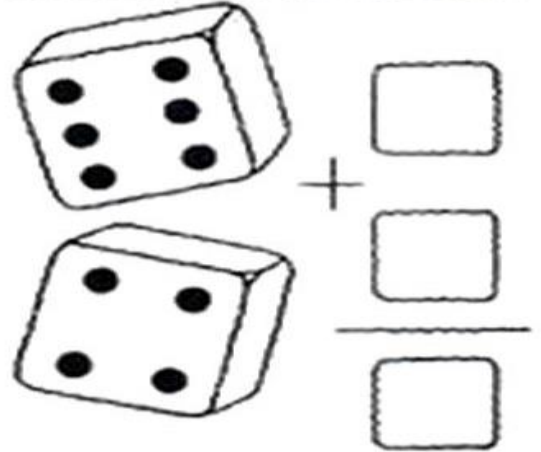
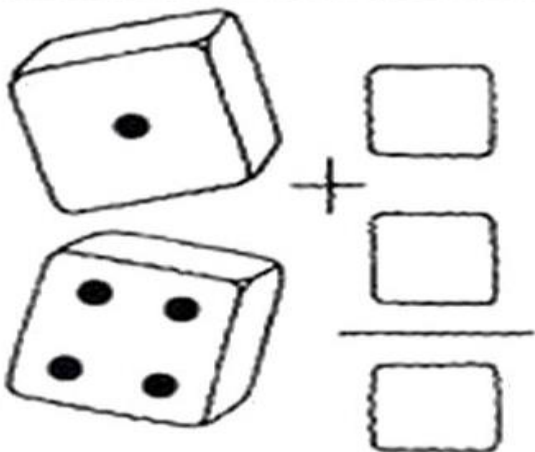
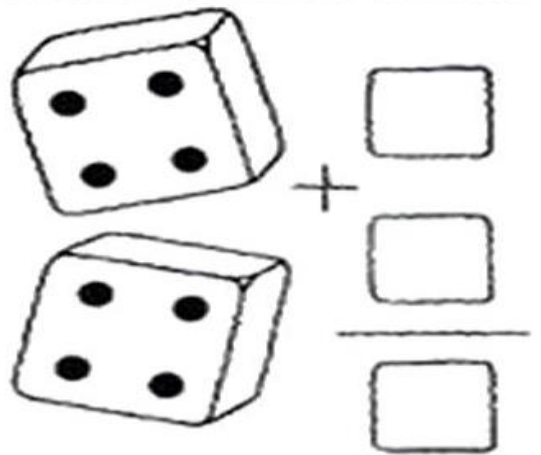
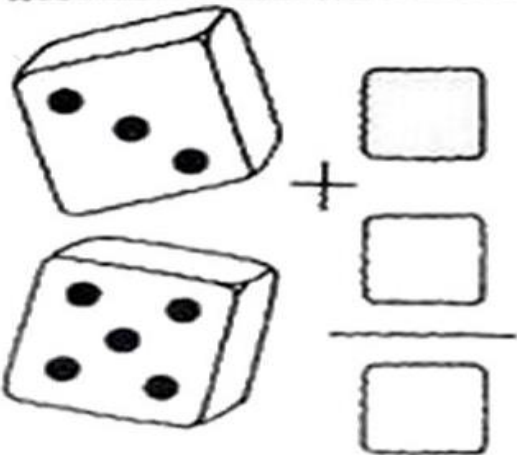
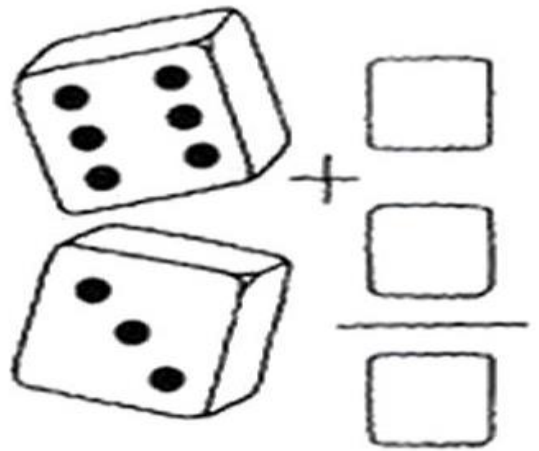
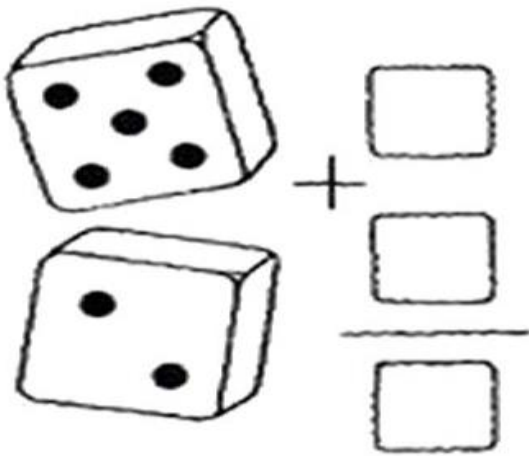
(SALA DE RECURSOS MULTIFUNCIONAL- TURMAS A e D) ATIVIDADES REMOTAS-MATEMÁTICA

ALUNO (A): \_\_\_\_\_

PROFESSORA: MARIA JOSÉ VIEIRA DA ROCHA

## Jogando os dados

**1. Calcule quantos pontos você levou em cada volta.**





**COLORIR OS DADOS**

**• Fatos e Operações •**

• Resolva os fatos e as operações:



$$\begin{array}{r} 1 \\ + 2 \\ \hline \end{array}$$

$$\begin{array}{r} 2 \\ + 2 \\ \hline \end{array}$$

$$\begin{array}{r} 3 \\ + 4 \\ \hline \end{array}$$

$$\begin{array}{r} 5 \\ + 5 \\ \hline \end{array}$$

$$\begin{array}{r} 4 \\ + 4 \\ \hline \end{array}$$

$$\begin{array}{r} 6 \\ + 2 \\ \hline \end{array}$$

$$\begin{array}{r} 7 \\ + 1 \\ \hline \end{array}$$

$$\begin{array}{r} 8 \\ + 8 \\ \hline \end{array}$$

$$\begin{array}{r} 7 \\ + 2 \\ \hline \end{array}$$

$$\begin{array}{r} 9 \\ + 1 \\ \hline \end{array}$$

$$\begin{array}{r} 9 \\ + 5 \\ \hline \end{array}$$

$$\begin{array}{r} 10 \\ + 3 \\ \hline \end{array}$$

$$\begin{array}{r} 11 \\ + 8 \\ \hline \end{array}$$

$$\begin{array}{r} 12 \\ + 2 \\ \hline \end{array}$$

$$\begin{array}{r} 11 \\ + 4 \\ \hline \end{array}$$

$$\begin{array}{r} 13 \\ + 5 \\ \hline \end{array}$$

$$\begin{array}{r} 19 \\ + 1 \\ \hline \end{array}$$

$$\begin{array}{r} 15 \\ + 2 \\ \hline \end{array}$$

$$\begin{array}{r} 15 \\ + 1 \\ \hline \end{array}$$

$$\begin{array}{r} 16 \\ + 1 \\ \hline \end{array}$$

$$\begin{array}{r} 17 \\ + 2 \\ \hline \end{array}$$

$$\begin{array}{r} 18 \\ + 1 \\ \hline \end{array}$$

$$\begin{array}{r} 18 \\ + 0 \\ \hline \end{array}$$

$$\begin{array}{r} 19 \\ + 0 \\ \hline \end{array}$$







**ESCOLA MUNICIPAL LAURO LUIZ**

Anos Iniciais do Ensino Fundamental  
Rua Treze de Maio, nº 311 Fone: (45) 3233-1222  
Email: escolalauro Luiz@hotmail.com  
CAMPO BONITO CEP: 85.450-000 PARANÁ

## COLORIR AS FIGURAS


(SALA DE RECURSOS MULTIFUNCIONAL- TURMAS A e D) ATIVIDADES REMOTAS-MATEMÁTICA

### REPOSIÇÃO - SÁBADO

ALUNO (A): \_\_\_\_\_

PROFESSORA: MARIA JOSÉ VIEIRA DA ROCHA

1) CONTE QUANTAS BOLINHAS HÁ EM CADA LADO DAS JOANINHAS, SOME-OS E FORME OS SUBCONJUNTOS DO 5. VEJA O MODELO.



$$0 + 5 = 5$$



$$\text{---} + \text{---} = \text{---}$$



$$\text{---} + \text{---} = \text{---}$$



$$\text{---} + \text{---} = \text{---}$$



$$\text{---} + \text{---} = \text{---}$$



$$\text{---} + \text{---} = \text{---}$$

2) AGORA, RESOLVA AS ADIÇÕES.



$$0 + \text{---} = 5$$

$$\text{---} + 0 = 5$$

$$3 + \text{---} = 5$$

$$2 + \text{---} = 5$$

$$\text{---} + 1 = 5$$

$$\text{---} + 4 = 5$$










# ESCOLA MUNICIPAL LAURO LUIZ

Anos Iniciais do Ensino Fundamental  
Rua Treze de Maio, nº 311 Fone: (45) 3233-1222  
Email: escolalauro Luiz@hotmail.com  
CAMPO BONITO CEP: 85.450-000 PARANÁ

## COLORIR AS FIGURAS

① Observe as ilustrações, escreva as adições e resolva-as conforme o modelo.


$$6 + 0 = \square$$

$$\square + \square = \square$$

$$\square + \square = \square$$

$$0 + 6 = \square$$

$$2 + 4 = 6$$

$$\square + \square = \square$$

$$\square + \square = \square$$



**ESCOLA MUNICIPAL LAURO LUIZ**

*Anos Iniciais do Ensino Fundamental*

Rua Treze de Maio, nº 311 Fone: (45) 3233-1222

Email: escolalauro Luiz@hotmail.com

CAMPO BONITO

CEP: 85.450-000

PARANÁ

## Descubra o Segredo

Um antes		Um depois
<input type="text"/>	←	39 → <input type="text"/>
<input type="text"/>	←	47 → 48
<input type="text"/>	←	21 → <input type="text"/>
29	←	30 → <input type="text"/>
<input type="text"/>	←	48 → <input type="text"/>



Dez antes		Dez depois
<input type="text"/>	←	24 → 34
<input type="text"/>	←	36 → <input type="text"/>
<input type="text"/>	←	40 → <input type="text"/>
27	←	37 → <input type="text"/>
<input type="text"/>	←	28 → <input type="text"/>



(SALA DE RECURSOS MULTIFUNCIONAL- TURMAS B e E)ATIVIDADES REMOTAS-PORTUGUÊS

ALUNO (A): \_\_\_\_\_

PROFESSORA: MARIA JOSÉ VIEIRA DA ROCHA






# ESCOLA MUNICIPAL LAURO LUIZ

Anos Iniciais do Ensino Fundamental  
 Rua Treze de Maio, nº 311 Fone: (45) 3233-1222  
 Email: escolalauro Luiz@hotmail.com  
 CAMPO BONITO CEP: 85.450-000 PARANÁ

16 - Complete as palavras usando **S** ou **SS**. Depois preencha a cruzadinha.

- |               |               |                  |                |
|---------------|---------------|------------------|----------------|
| 1 - O__O      | 7 - PE__OA    | 13 - TRAVE__A    | 19 - TRAVE__ÃO |
| 2 - __ORVETE  | 8 - VANE__A   | 14 - __ABIÁ      | 20 - __APATO   |
| 3 - PÊ__EGO   | 9 - VA__OURA  | 15 - TRAVE__EIRO | 21 - PÁ__ARO   |
| 4 - __EDEX    | 10 - __ERROTE | 16 - __UCO       | 22 - __INO     |
| 5 - PA__AS    | 11 - MA__A    | 17 - CARRO__EL   | 23 - CÁ__IO    |
| 6 - __ABONETE | 12 - __OL     | 18 - __ALADA     | 24 - __OPA     |





**ESCOLA MUNICIPAL LAURO LUIZ**

*Anos Iniciais do Ensino Fundamental*

Rua Treze de Maio, nº 311 Fone: (45) 3233-1222

Email: escolalauro Luiz@hotmail.com

CAMPO BONITO

CEP: 85.450-000

PARANÁ

# CHICO COCHICHO

Esta é a chácara do Chico Cochicho,

Onde você vai poder achar

Muita planta, gente e bicho.

Mas na chácara do Chico Cochicho

Você nunca vai achar

(não adianta procurar...)

Estas coisas que eu vou falar:

Menino chorão,

Poeira no chão,

Chicote na mão,

Chefe ou patrão,

Chave no portão

Ou chuva de algodão!



*Cristina Porto*



**ESCOLA MUNICIPAL LAURO LUIZ**

*Anos Iniciais do Ensino Fundamental*

Rua Treze de Maio, nº 311 Fone: (45) 3233-1222

Email: escolalauro Luiz@hotmail.com

CAMPO BONITO

CEP: 85.450-000

PARANÁ

1) FAZER LEITURA DO TEXTO E COLORIR AS FIGURAS.

2) COPIAR DA POESIA TODAS AS PALAVRAS QUE TENHAM CH:

3) QUAL É O TITULO DA POESIA?

-----

4) QUAL É O NOME DA AUTORA DA POESIA?

-----

5) SE VOCÊ FOR NA CHÁCARA DO CHICO COCHICHO, O QUE VOCÊ VAI PODER ACHAR LÁ?

-----

6) ESCREVA O NOME DE TRES(3) COISAS QUE VOCÊ NUNCA VAI ACHAR NA CHÁCARA?

-----

-----

-----

-----

7) FAÇA UM DESENHO DAS COISAS QUE VOCÊ GOSTARIA QUE TIVESSE NA CHÁCARA DO CHICO COCHICHO:





**ESCOLA MUNICIPAL LAURO LUIZ**

*Anos Iniciais do Ensino Fundamental*

Rua Treze de Maio, nº 311 Fone: (45) 3233-1222

Email: escolalauro Luiz@hotmail.com

CAMPO BONITO

CEP: 85.450-000

PARANÁ

(SALA DE RECURSOS MULTIFUNCIONAL- TURMAS B e E) ATIVIDADES REMOTAS-PORTUGUÊS

REPOSIÇÃO - SÁBADO

ALUNO (A): \_\_\_\_\_

PROFESSORA: MARIA JOSÉ VIEIRA DA ROCHA

## **DESAFIO**

ESCREVA QUANTAS PALAVRAS CONSEGUIR COM CADA GRUPO SILÁBICO:

**TRA TRE TRI TRO TRU**




**PRA PRE PRI PRO PRU**




**FRA FRE FRI FRO FRU**








(SALA DE RECURSOS MULTIFUNCIONAL- TURMAS B e E)ATIVIDADES REMOTAS-MATEMÁTICA

ALUNO (A): \_\_\_\_\_

PROFESSORA: MARIA JOSÉ VIEIRA DA ROCHA

Quantos frutos eu tenho em cada árvore?




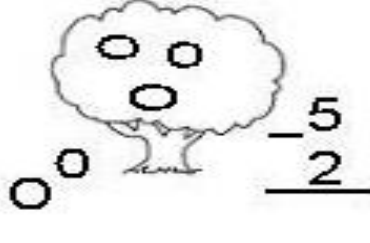
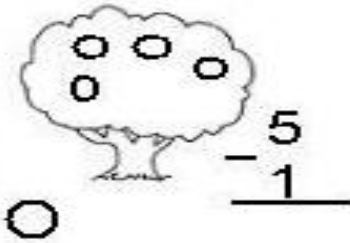
3 dezenas e  
5 unidades

5 dezenas

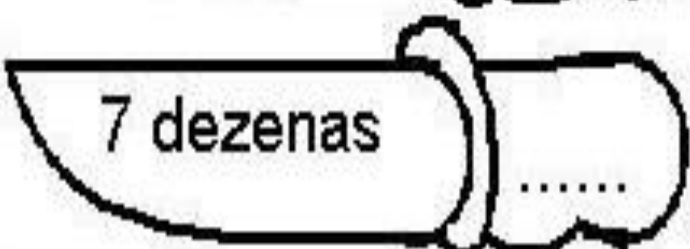
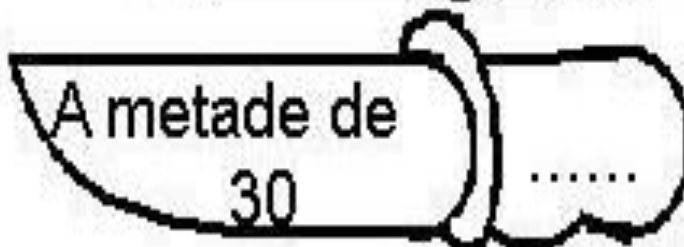
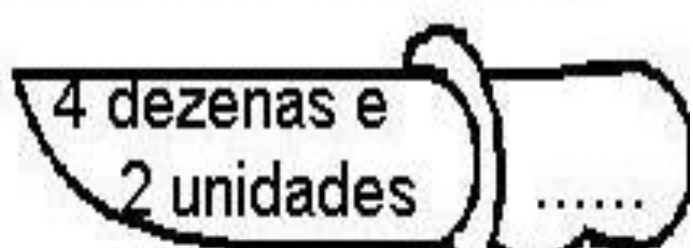
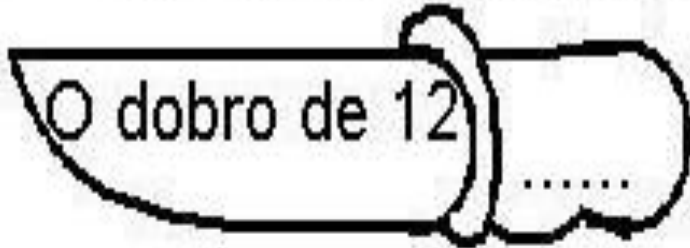
1 dúzia

4 dezenas e  
8 unidades

Quantas laranjas ficaram em cada árvore?







Escreva o que se pede dentro das facas:





## DE OLHO NOS PREÇOS

1) Veja os preços de cada objeto e, depois, responda:

 2 reais	 30 reais	 70 reais	 7 reais
---	---	--	--

a) Qual é o objeto mais barato? \_\_\_\_\_

b) Qual é o objeto mais caro? \_\_\_\_\_

c) Qual é o preço da mochila? \_\_\_\_\_

d) Qual é o preço do pião e do caderno juntos?

OBSERVE OS PREÇOS DOS PRODUTOS DA LANCHONETE DA ESCOLA:

<p>SUCO</p>  R\$ 4	<p>REFRIGERANTE</p>  R\$ 5	<p>PICOLÉ</p>  R\$ 2
<p>PIPOCA</p>  R\$ 1	<p>SANDUÍCHE</p>  R\$ 4	<p>BOLO</p>  R\$ 3

1. QUAL O PRODUTO MAIS CARO? 2. QUAL O PRODUTO MAIS BARATO?

3. QUAIS OS PRODUTOS CUSTAM O MESMO VALOR?

4. SE VOCÊ COMPRAR UM PICOLÉ E UMA FATIA DE BOLO, QUANTO GASTARÁ?





## ESCOLA MUNICIPAL LAURO LUIZ

Anos Iniciais do Ensino Fundamental  
Rua Treze de Maio, nº 311 Fone: (45) 3233-1222  
Email: escolalauro Luiz@hotmail.com  
CAMPO BONITO CEP: 85.450-000 PARANÁ

### (SALA DE RECURSOS MULTIFUNCIONAL- TURMAS B e E) ATIVIDADES REMOTAS-MATEMÁTICA REPOSIÇÃO - SÁBADO

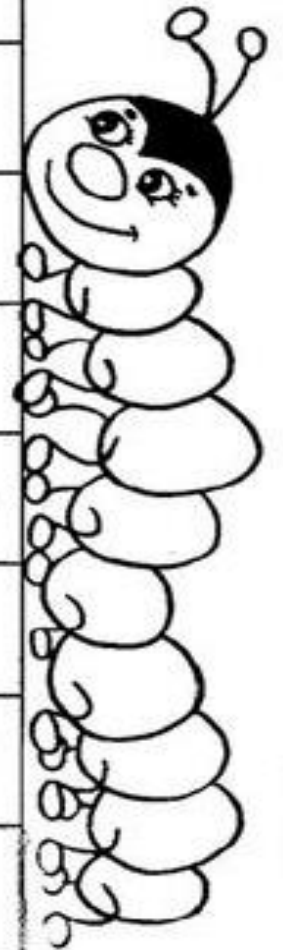
ALUNO (A): \_\_\_\_\_

PROFESSORA: MARIA JOSÉ VIEIRA DA ROCHA

## FAZENDO COMPRAS

Vários alunos da sala 8 foram ao bazar beneficente da escola para fazer compras. Complete o quadro com os valores que faltam.

Nome do aluno	Pagou com:	Valor da compra	Recebeu de troco
Carlos	Uma nota de 10 reais.	3 reais e 40 centavos	
Luana	Quatro moedas de 25 centavos		20 centavos
Pedro	Uma nota de 5 reais.	2 reais e 75 centavos	
Joana	Três moedas de 50 centavos	1 real e 15 centavos	
Rita	Uma nota de 2 reais.		1 real e 20 centavos
Celso	Duas moedas de 1 real.		80 centavos
Marco	Uma nota de 1 real.	25 centavos	
Laura	Uma nota de 5 reais.		2 reais e 90 centavos
Bruno	Uma nota de 20 reais.	7 reais e 30 centavos	





**ESCOLA MUNICIPAL LAURO LUIZ**

*Anos Iniciais do Ensino Fundamental*

Rua Treze de Maio, nº 311 Fone: (45) 3233-1222

Email: escolalauro Luiz@hotmail.com

CAMPO BONITO

CEP: 85.450-000

PARANÁ

(SALA DE RECURSOS MULTIFUNCIONAL- TURMAS C e F) ATIVIDADES REMOTAS-PORTUGUÊS

ALUNO (A): \_\_\_\_\_

PROFESSORA: MARIA JOSÉ VIEIRA DA ROCHA

## **EU COMEÇO, VOCÊ TERMINA...**

Complete o texto abaixo usando sua imaginação e sua criatividade.  
Dê-lhe um título.



\_\_\_\_\_ (Título)

Juquinha foi à sorveteria comprar um gostoso sorvetão com bastante cobertura de chocolate.

Mas, quando chegou à sorveteria, percebeu que tinha esquecido o dinheiro em casa.

Então, ele \_\_\_\_\_

\_\_\_\_\_

\_\_\_\_\_

\_\_\_\_\_

\_\_\_\_\_

\_\_\_\_\_

\_\_\_\_\_

\_\_\_\_\_

\_\_\_\_\_

**COLORIR A FIGURA**



**ESCOLA MUNICIPAL LAURO LUIZ**

*Anos Iniciais do Ensino Fundamental*  
Rua Treze de Maio, nº 311 Fone: (45) 3233-1222  
Email: escolalauroluiz@hotmail.com  
CAMPO BONITO CEP: 85.450-000 PARANÁ

## AS JOANINHAS

A JOANINHA É UM PEQUENO INSETO QUE MEDE APROXIMADAMENTE MEIO CENTÍMETRO. ELA TEM UMA CASCA DURA QUE PROTEGE SUAS ASAS E POSSUI SEIS PATAS MUITO CURTAS. A JOANINHA VERMELHA É A MAIS COMUM, MAS TAMBÉM EXISTEM JOANINHAS COR DE LARANJA E AMARELA. NA CASCA EXISTE ENTRE DUAS A OITO PINTAS PRETAS. AS CORES VISTOSAS NO REINO ANIMAL INDICAM VENENO OU GOSTO MUITO RUIM, DESTA FORMA AS JOANINHAS FICAM LIVRES DE PREDADORES. QUANDO ATACADAS SÃO CAPAZES DE LIBERAR UM LÍQUIDO AMARELO COM SUBSTÂNCIAS TÓXICAS E CHEIRO DESAGRADÁVEL.

EM VÁRIAS CULTURAS DO MUNDO ATRIBUI-SE A JOANINHA O PODER DE TRAZER SORTE. ELA SE ALIMENTA PRINCIPALMENTE DE PULGÕES QUE SÃO INSETOS QUE ATACAM AS PLANTAÇÕES. É MUITO COMILONA, COME ENTRE 45 E 70 PULGÕES POR DIA, POR ISSO OS AGRICULTORES CONSIDERAM AS JOANINHAS INSETOS BENÉFICOS.

TEXTO DISPONÍVEL EM: [WWW.SALADEATIVIDADES.COM.BR](http://WWW.SALADEATIVIDADES.COM.BR)

1) QUAL É O TÍTULO DO TEXTO?

---

2) QUAL É O TEMA PRINCIPAL DO TEXTO?

---

3) CITE 3 CARACTERÍSTICAS DAS JOANINHAS:

---

---

4) QUAL É O PRINCIPAL ALIMENTO DAS JOANINHAS?

---

---

5) QUAL É O TIPO MAIS COMUM DE JOANINHA?

---

---

6) O QUE AS JOANINHAS FAZEM PARA SE PROTEGER?

---





**ESCOLA MUNICIPAL LAURO LUIZ**

*Anos Iniciais do Ensino Fundamental*  
Rua Treze de Maio, nº 311 Fone: (45) 3233-1222  
Email: escolalauro Luiz@hotmail.com  
CAMPO BONITO CEP: 85.450-000 PARANÁ

**(SALA DE RECURSOS MULTIFUNCIONAL- TURMAS C e F)ATIVIDADES REMOTAS-PORTUGUÊS**  
**REPOSIÇÃO – SÁBADO**

**ALUNO (A):** \_\_\_\_\_

**PROFESSORA: MARIA JOSÉ VIEIRA DA ROCHA**

**7) EXPLIQUE QUAL É A FUNÇÃO DAS CORES FORTES PARA AS JOANINHAS?**

---

---

**8) QUAL É O PODER ATRIBUÍDO AS JOANINHAS?**

---

---

**9) PORQUÊ OS AGRICULTORES GOSTAM DAS JOANINHAS?**

---

---

---

**10) DESENHE O INSETO QUE FOI CITADO NO TEXTO ACIMA:**



## ESCOLA MUNICIPAL LAURO LUIZ

Anos Iniciais do Ensino Fundamental  
Rua Treze de Maio, nº 311 Fone: (45) 3233-1222  
Email: escolalauro Luiz@hotmail.com  
CAMPO BONITO CEP: 85.450-000 PARANÁ

(SALA DE RECURSOS MULTIFUNCIONAL-TURMAS C e F)ATIVIDADES REMOTAS-MATEMÁTICA

ALUNO (A): \_\_\_\_\_

PROFESSORA: MARIA JOSÉ VIEIRA DA ROCHA

**Uma escola resolveu anunciar por meio de uma legenda, o número de vagas disponíveis. Veja no quadro a quantidade de vagas.**

Série \ Ano	Cor	Número de Vagas
1º ano	verde	950
2º ano	rosa	100
3º ano	vermelho	200
4º ano	azul	300
5º ano	preto	250
6º ano	amarelo	700
7º ano	lilás	400
8º ano	verde escuro	150
9º ano	azul escuro	300

RESPONDA:

1. PARA QUAL SÉRIE / ANO HÁ MAIS NUMEROS DE VAGAS?

\_\_\_\_\_

2. PARA QUAL SÉRIE/ANO HÁ MENOS VAGAS?

\_\_\_\_\_

3. QUANTAS VAGAS SÃO OFERECIDAS NO 7º ANO?

\_\_\_\_\_

4.QUANTAS VAGAS SÃO OFERECIDAS NO 9º ANO?

\_\_\_\_\_

5. QUANTAS VAGAS DISPONIVEIS A ESCOLA OFERECE NO TOTAL?

\_\_\_\_\_



➤ Observe a tabela abaixo com os anos em que foram inventados alguns brinquedos

Brinquedo	Ano
Patins	1863
Ioiô	1929
Lego	1932
Skate	1975
Bambolê	1958
Fliperama	1947
Barbie	1958



A) Dos brinquedos da tabela, qual foi inventado há mais tempo?

\_\_\_\_\_

B) Dos brinquedos da tabela, qual foi inventado há menos tempo?

\_\_\_\_\_

C) O lego foi inventado antes ou depois do ioiô? \_\_\_\_\_

D) E o bambolê, foi inventado antes ou depois do fliperama? \_\_\_\_\_

E) Há quantos anos foi inventado o skate? \_\_\_\_\_

F) Escreva os números da tabela em ordem crescente:

\_\_\_\_\_

G) Há quantos anos a Barbie foi inventada? \_\_\_\_\_


H) Qual é a diferença de idade entre a invenção dos Patins e da Barbie? \_\_\_\_\_

(COLORIR A FIGURA)





► **RESOLVA AS SITUAÇÕES PROBLEMÁTICAS, REPRESENTANDO COM DESENHOS:**



**1-A BRUXA CASTANHA TINHA COLOCADO 20 COPOS EM CIMA DO FOGÃO. MAS, DE REPENTE, VEIO UM GATINHO E PULOU NO FOGÃO DERRUBANDO 6 COPOS. ELA FICOU FURIOSA! QUANTOS COPOS ELA TEM AGORA?**

**RESPOSTA:** \_\_\_\_\_

**2-ESSA BRUXA É MUITO GULOSA, COMPROU UMA CAIXA COM 25 BOMBONS E COMEU 15 DE UMA VEZ. QUANTOS BOMBONS RESTARAM NA CAIXA?**

**RESPOSTA:** \_\_\_\_\_

**3-ORA ESSA, A BRUXA CASTANHA ADORA UM DISPARATE! TINHA 12 VASSOURAS VELHAS E RESOLVEU COMPRAR 7 VASSOURAS QUEBRADAS.COM ISSO ELA FICOU COM QUANTAS VASSOURAS AO TODO?**

**RESPOSTA:** \_\_\_\_\_

**4-A BRUXA CASTANHA RESOLVEU FAZER UMA SOPA SABOROSA. PARA FAZER A TAL SOPA, ELA VAI PRECISAR DE 14 BANANAS E 10 MELANCIAS. QUANTAS FRUTAS ELA VAI USAR AO TODO?**

**RESPOSTA:** \_\_\_\_\_



(SALA DE RECURSOS MULTIFUNCIONAL-TURMAS C e F) ATIVIDADES REMOTAS-MATEMÁTICA  
REPOSIÇÃO - SÁBADO

ALUNO (A): \_\_\_\_\_

PROFESSORA: MARIA JOSÉ VIEIRA DA ROCHA

O número de balas produzidas durante um dia numa fábrica de doces, está representado na tabela abaixo.

<i>Sabores</i>	<i>Número de produção</i>
Uva	500
Banana	800
Leite	900
Limão	1.200
Coco	1.300
Mel	1.400
Hortelã	1.450



De acordo com as informações, resolva em seu caderno.

- Se as balas de hortelã forem colocadas em saquinhos para 5 unidades cada, quantos saquinhos serão necessários?
- Se as balas de mel forem colocadas em embalagens para 50 unidades cada, quantas embalagens serão necessárias?
- Quantas balas ao todo, foram produzidas no dia?
- Se eu comprasse a metade da produção das balas de mel mais um terço das balas de limão, quantas balas eu compraria?
- De quanto é a diferença entre a bala de maior e menor produção?



## **ESCOLA MUNICIPAL LAURO LUIZ**

*Anos Iniciais do Ensino Fundamental*  
Rua Treze de Maio, nº 311 Fone: (45) 3233-1222  
Email: escolalauroluiz@hotmail.com  
CAMPO BONITO CEP: 85.450-000 PARANÁ

**ATENÇÃO:**

**RESOLVER NESTE ESPAÇO AS CONTINHAS DAS SITUAÇÕES PROBLEMAS:**





1. NA FESTA DE ANIVERSÁRIO DE MARIA CLARA, FORAM ENCOMENDADOS 87 BRIGADEIROS E 35 BEIJINHOS. QUANTOS BRIGADEIROS FORAM FEITOS A MAIS QUE BEIJINHOS?

- A) 122
- B) 112
- C) 87
- D) 52

2. A MÃE DE MARIA CLARA FEZ TRÊS TIPOS DE BOLO (CHOCOLATE, BAUNILHA E LARANJA) E QUATRO TIPOS DE SORVETE (CREME, MORANGO, CHOCOLATE E DE DOCE DE LEITE). DE QUANTAS MANEIRAS DIFERENTES SEUS AMIGOS PODERÃO COMBINAR A SOBREMESA?

- A) 1
- B) 7
- C) 9
- D) 12

3. MARIA CLARA E SUA MÃE FIZERAM SAQUINHOS-SURPRESAS DE LEMBRANCINHA DE ANIVERSÁRIO. ELAS COMPRARAM 48 PIRULITOS PARA COLOCAR EM 8 SAQUINHOS. CADA SAQUINHO DEVERÁ TER A MESMA QUANTIDADE. SENDO ASSIM, QUANTOS PIRULITOS ELAS COLOCARAM EM CADA SAQUINHO?

- A) 6
- B) 12
- C) 40
- D) 15