



(SALA DE RECURSOS MULTIFUNCIONAL- TURMAS A e D) ATIVIDADES REMOTAS-MATEMÁTICA

ALUNO (A): _____

PROFESSORA: MARIA JOSÉ VIEIRA DA ROCHA

I – PINTE O NÚMERO CORRESPONDENTE AO MATERIAL DOURADO.

	30		
31	32	33	
34	35	36	
37	38	39	

	30		
31	32	33	
34	35	36	
37	38	39	

	30		
31	32	33	
34	35	36	
37	38	39	

	30		
31	32	33	
34	35	36	
37	38	39	

	30		
31	32	33	
34	35	36	
37	38	39	

	30		
31	32	33	
34	35	36	
37	38	39	

	30		
31	32	33	
34	35	36	
37	38	39	

	30		
31	32	33	
34	35	36	
37	38	39	

	30		
31	32	33	
34	35	36	
37	38	39	

	30		
31	32	33	
34	35	36	
37	38	39	

(OBS: CADA BARRINHA DO MATERIAL DOURADO TEM 10 UNIDADES)



ESCOLA MUNICIPAL LAURO LUIZ


Anos Iniciais do Ensino Fundamental
Rua Treze de Maio, nº 311 Fone: (45) 3233-1222
Email: escolalauro Luiz@hotmail.com
CAMPO BONITO CEP: 85.450-000 PARANÁ

**(SALA DE RECURSOS MULTIFUNCIONAL- TURMAS A e D) ATIVIDADES REMOTAS-
MATEMÁTICA**


ALUNO (A): _____

PROFESSORA: MARIA JOSÉ VIEIRA DA ROCHA

HIRO ADORA FRUTAS. NO SÍTIO ONDE ELE MORA ELE COLHEU 6 CAJUS E 5 MAÇÃS. QUANTAS FRUTAS ELE COLHEU AO TODO?



MAGALI E DORINHA SAÍRAM PARA A FEIRA E COMPRARAM 4 ABOBRINHAS E 5 BERINJELAS. QUANTOS LEGUMES ELAS COMPRARAM JUNTAS?



NA FESTA DE ANIVERSÁRIO DO CEBOLINHA FORAM 8 MENINAS E 3 MENINOS. QUANTAS CRIANÇAS FORAM NESTA FESTA?



NO SUPERMERCADO MAGALI COMPROU 2 ABACAXIS E 3 MAÇAS. QUANTAS FRUTAS ELA COMPROU?



(OBS: FAZER AS CONTINHAS NOS QUADRINHOS E COLORIR AS FIGURAS)



ESCOLA MUNICIPAL LAURO LUIZ

Anos Iniciais do Ensino Fundamental
 Rua Treze de Maio, nº 311 Fone: (45) 3233-1222
 Email: escolalauro Luiz@hotmail.com
 CAMPO BONITO CEP: 85.450-000 PARANÁ



(SALA DE RECURSOS MULTIFUNCIONAL- TURMAS A e D) ATIVIDADES REMOTAS-PORTUGUÊS

ALUNO (A): _____

PROFESSORA: MARIA JOSÉ VIEIRA DA ROCHA

➔ ENCONTRE AS PALAVRAS E ESCREVA-AS PERTO DOS DESENHOS.

CAÇA-PALAVRAS							
C	A	R	R	O	P	X	C
P	O	R	C	O	I	V	A
L	F	K	J	H	C	S	M
L	B	O	L	A	O	T	A
U	M	N	B	O	L	O	A
A	C	A	S	A	É	Z	N
Z	E	B	R	A	S	T	E
O	V	E	L	H	A	M	L
S	O	R	V	E	T	E	B
P	I	R	U	L	I	T	O



1) Descubra os nomes das figuras e circule-as no diagrama.

U	C	A	W	R	N	C	B	P
B	O	L	S	A	J	A	A	U
B	P	F	V	E	M	L	R	L
A	H	I	Q	S	V	Ç	R	S
C	G	N	B	L	S	Ã	I	E
D	K	E	Q	Y	W	O	L	I
E	V	T	N	O	O	A	S	R
L	T	E	B	A	L	D	E	A
C	A	R	A	C	O	L	J	B





ESCOLA MUNICIPAL LAURO LUIZ

Anos Iniciais do Ensino Fundamental
Rua Treze de Maio, nº 311 Fone: (45) 3233-1222
Email: escolalauro Luiz@hotmail.com
CAMPO BONITO CEP: 85.450-000 PARANÁ

(SALA DE RECURSOS MULTIFUNCIONAL- TURMAS A e D) ATIVIDADES REMOTAS-PORTUGUÊS

ALUNO (A): _____

PROFESSORA: MARIA JOSÉ VIEIRA DA ROCHA

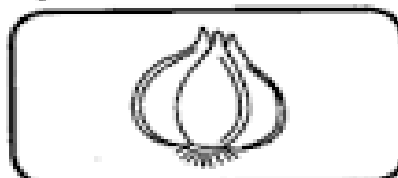
ADIVINHAÇÃO



COMPLETE E PINTE:


A) TENHO CABEÇA E DENTES, MAS NÃO SOU GENTE.

SOU O




B) CAI EM PÉ E CORRE DEITADA.

É A



C) TEM ASA E NÃO VOA.

É A



➔ **1) LIGUE AS PALAVRAS AOS DESENHOS:**



XÍCARA

CHUVA

ALHO

DENTE

CABEÇA

PÉ





ESCOLA MUNICIPAL LAURO LUIZ

Anos Iniciais do Ensino Fundamental
Rua Treze de Maio, nº 311 Fone: (45) 3233-1222
Email: escolalauro Luiz@hotmail.com
CAMPO BONITO CEP: 85.450-000 PARANÁ

(SALA DE RECURSOS MULTIFUNCIONAL- TURMAS A e D) ATIVIDADES REMOTAS-PORTUGUÊS

ALUNO (A): _____

PROFESSORA: MARIA JOSÉ VIEIRA DA ROCHA

L EIA PARA RESPONDER:

HERÓI	HINO	HARPA
HABILIDADE	HÓSPEDE	HOTEL
HELICÓPTERO	HÉLICE	HOMEM



Q UAL É A PALAVRA?

- A) TEM 5 LETRAS E TERMINA COM L.
- B) NESTA PALAVRA ESTÁ A PALAVRA IDADE.
- C) FAZ PARTE DO HELICÓPTERO, TEM ACENTO AGUDO E TEM 6 LETRAS.
- D) É UM INSTRUMENTO MUSICAL E TEM 5 LETRAS.
- E) É O NOME QUE SE DÁ A ALGUÉM CORAJOSO QUE SALVA E AJUDA AS PESSOAS.
- F) É UMA PALAVRA QUE ESTÁ RELACIONADA À MÚSICA E TEM 4 LETRAS.
- G) É A ÚLTIMA PALAVRA DOS NOMES ACIMA.
- H) É UM MEIO DE TRANSPORTE AÉREO.
- I) AQUELE QUE ESTÁ HOSPEDADO NO HOTEL.



ESCOLA MUNICIPAL LAURO LUIZ

Anos Iniciais do Ensino Fundamental
Rua Treze de Maio, nº 311 Fone: (45) 3233-1222
Email: escolalauro Luiz@hotmail.com
CAMPO BONITO CEP: 85.450-000 PARANÁ

(SALA DE RECURSOS MULTIFUNCIONAL- TURMAS B e E) ATIVIDADES REMOTAS-MATEMÁTICA

ALUNO (A): _____

PROFESSORA: MARIA JOSÉ VIEIRA DA ROCHA

Leia, resolva e marque a resposta certa:

Paulo, José e Joana foram ao shopping. Observe os preços dos brinquedos de que mais gostaram.



A) Paulo tem 52 reais. Pode comprar dois desses brinquedos. Quais são os dois brinquedos que ele pode comprar?

- O carrinho e a bola.
- A boneca e a bola.
- O carrinho e a boneca.

B) Joana tem uma nota de 50 reais, uma de 20 reais e uma de 10 reais. Quanto Joana tem?

- 70 reais.
- 60 reais.
- 80 reais.

C) Joana quer comprar 2 bonecas com o dinheiro que tem. Quanto receberá de troco se comprar as bonecas?

- 10 reais.
- Não terá troco a receber.
- 20 reais.

D) José tinha 10 reais. Ele queria comprar uma bola para dar de presente a sua irmã. Quanto falta para poder comprar a bola?

- 1 real.
- 2 reais.
- 3 reais.

(SE NECESSÁRIO FAZER CONTINHAS PARA OBTER AS RESPOSTAS, PODE UTILIZAR O ESPAÇO ABAIXO)



ESCOLA MUNICIPAL LAURO LUIZ

Anos Iniciais do Ensino Fundamental
Rua Treze de Maio, nº 311 Fone: (45) 3233-1222
Email: escolalauro Luiz@hotmail.com
CAMPO BONITO CEP: 85.450-000 PARANÁ

(SALA DE RECURSOS MULTIFUNCIONAL- TURMAS B e E) ATIVIDADES REMOTAS-MATEMÁTICA

ALUNO (A): _____

PROFESSORA: MARIA JOSÉ VIEIRA DA ROCHA

PROBLEMAS

Paulinho tem 96 bolas de gude, Pedrinho tem 37 bolas de gude a mais que Paulinho, e Junior tem 85. Quantas bolas de gude têm os três juntos?

Cálculo	Resposta:
---------	-----------

Numa quitanda há meia centena de melancias, 3 centenas e 7 dezenas de laranjas e 2 centenas de abacates. Quantas frutas há na quitanda?

Cálculo	Resposta:
---------	-----------

Uma escola tem 1 536 alunos de 1º ao 5º ano e 1878 de 6º ao 9º. Quantos alunos há na escola?

Cálculo	Resposta:
---------	-----------



ESCOLA MUNICIPAL LAURO LUIZ

Anos Iniciais do Ensino Fundamental
Rua Treze de Maio, nº 311 Fone: (45) 3233-1222
Email: escolalauro Luiz@hotmail.com
CAMPO BONITO CEP: 85.450-000 PARANÁ

(SALA DE RECURSOS MULTIFUNCIONAL- TURMAS B e E) ATIVIDADES REMOTAS-PORTUGUÊS

ALUNO (A): _____

PROFESSORA: MARIA JOSÉ VIEIRA DA ROCHA

ATIVIDADE DE INTERPRETAÇÃO DE TEXTO

GOL DESCALÇO

VOCÊ CONSEGUE IMAGINAR QUE, EM UMA PARTIDA DE FUTEBOL DE UM CAMPEONATO TÃO IMPORTANTE COMO A COPA DO MUNDO, UM JOGADOR FEZ UM GOL DESCALÇO? NÃO? POIS ACREDITE: ISSO ACONTECEU DE VERDADE!

FOI NA COPA DO MUNDO DE 1938, O BRASIL JOGAVA CONTRA A POLÔNIA DEBAIXO DE FORTE TEMPORAL, QUANDO DE REPENTE O JOGADOR BRASILEIRO LEÔNIDAS SILVA, PERDEU UMA DE SUAS CHUTEIRAS E, COM O PÉ DESCALÇO, FEZ UM GOLAÇO!

ATUALMENTE, ESSE GOL CERTAMENTE SERIA ANULADO, MAS NA ÉPOCA FOI ACEITO.

AUTOR DESCONHECIDO.

RESPONDA

1) QUAL É O TÍTULO DO TEXTO?

R: _____

2) QUEM É O AUTOR DO TEXTO?

R: _____

3) ESSE TEXTO TEM QUANTOS PARÁGRAFOS?

R: _____

4) QUAL É O TEMA DESSE TEXTO?

R: _____

5) QUANDO E ONDE ACONTECEU ESTA COPA DO MUNDO?

R: _____

6) QUEM FOI O RESPONSÁVEL PELO GOL?

R: _____

7) EM QUE CIRCUNSTANCIA ESSE GOL ACONTECEU?

R: _____



ESCOLA MUNICIPAL LAURO LUIZ

Anos Iniciais do Ensino Fundamental
Rua Treze de Maio, nº 311 Fone: (45) 3233-1222
Email: escolalauro Luiz@hotmail.com
CAMPO BONITO CEP: 85.450-000 PARANÁ

(SALA DE RECURSOS MULTIFUNCIONAL- TURMAS B e E) ATIVIDADES REMOTAS-PORTUGUÊS

ALUNO (A): _____

PROFESSORA: MARIA JOSÉ VIEIRA DA ROCHA

8) FAÇA UM DESENHO RELACIONADO AO TEXTO: **(GOL DESCALÇO)**



ESCOLA MUNICIPAL LAURO LUIZ

Anos Iniciais do Ensino Fundamental
Rua Treze de Maio, nº 311 Fone: (45) 3233-1222
Email: escolalauro Luiz@hotmail.com
CAMPO BONITO CEP: 85.450-000 PARANÁ

(SALA DE RECURSOS MULTIFUNCIONAL- TURMAS B e E) ATIVIDADES REMOTAS-PORTUGUÊS

ALUNO (A): _____
PROFESSORA: MARIA JOSÉ VIEIRA DA ROCHA

CAÇA-PALAVRA SILÁBICO

CANIL
JORNAL
FAROL
PAPEL
ÚLTIMO
CARACOL
FUNIL
COLGATE
ANIMAL
ALFACE
BOLSA
PULSEIRA
ALMOFADA

BA	LA	FU	XA	PUL	SEI	RA	PA
DA	CA	NIL	QUA	BE	ME	XU	ZU
HA	RA	RA	AL	MO	FA	DA	YA
ZA	COL	GE	FA	NE	FE	KA	FA
A	JA	VU	CE	QUI	ZU	WA	ROL
NI	XE	COL	GA	TE	TA	LE	ZE
MAL	TE	HE	MA	VA	RE	RO	BOL
NA	PA	PEL	SE	JOR	NAL	RU	SA
DE	SA	VE	ÚL	TI	MO	SE	QUE

ADIVINHE!

Começo com R
Posso andar.



Começo com T
Posso falar



Começo com A
Posso voar



Começo com C
Posso abrir



Começo com L
Posso iluminar



Começo com P
Posso rodopiar



Começo com E
Posso subir



Começo com S
Posso aquecer.





ESCOLA MUNICIPAL LAURO LUIZ

Anos Iniciais do Ensino Fundamental
Rua Treze de Maio, nº 311 Fone: (45) 3233-1222
Email: escolalauro Luiz@hotmail.com
CAMPO BONITO CEP: 85.450-000 PARANÁ

(SALA DE RECURSOS MULTIFUNCIONAL- TURMAS C e F) ATIVIDADES REMOTAS-MATEMÁTICA

ALUNO (A): _____
PROFESSORA: MARIA JOSÉ VIEIRA DA ROCHA



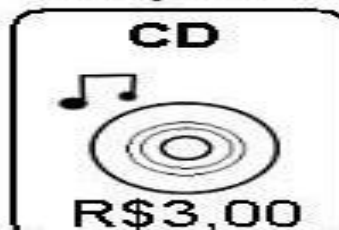
DESAFIO

Responda as perguntas
e vença o desafio!



1. QUANTAS DEZENAS TEM NO NÚMERO 231? _____
2. O NÚMERO 632 TEM 3 CENTENAS? _____
3. QUANTAS CENTENAS TEM O NÚMERO 324? _____
4. QUAL VALOR DO 9 NO NÚMERO 592? _____
5. QUANTAS UNIDADES TEM O NÚMERO 627? _____
6. QUANTAS DEZENAS TEM O NÚMERO 498? _____
7. O NÚMERO 987 TEM 8 DEZENAS? _____
8. QUANTAS CENTENAS TEM O NÚMERO 129? _____
9. QUAL VALOR DO 7 NO NÚMERO 721? _____
10. QUANTAS UNIDADES TEM O NÚMERO 345? _____

Eu fiz uma compra. Complete:



- O caderno vale.....
- A bola vale
- O chinelo vale.....
- O CD vale
- Qual deles vale mais?.....
- Qual deles vale menos?.....
- Quanto eu gastei ao todo?.....

CHINELO + BOLA: _____

CD + CADERNO: _____

CD + BOLA: _____

CHINELO + CADERNO: _____

CHINELO: **R\$3,00** três reais

CD: _____

BOLA: _____

CADERNO: _____



ESCOLA MUNICIPAL LAURO LUIZ

Anos Iniciais do Ensino Fundamental
 Rua Treze de Maio, nº 311 Fone: (45) 3233-1222
 Email: escolalauro Luiz@hotmail.com
 CAMPO BONITO CEP: 85.450-000 PARANÁ

(SALA DE RECURSOS MULTIFUNCIONAL- TURMAS C e F) ATIVIDADES REMOTAS-MATEMÁTICA

ALUNO (A): _____
 PROFESSORA: MARIA JOSÉ VIEIRA DA ROCHA

❖ Faça um "X" no troco, de acordo com o preço e a importância dada para pagamento:

Mercadoria	Paguei com	Operação	troco
 calça R\$ 59,90	R\$ 60,00		<input type="checkbox"/> dois reais <input type="checkbox"/> cinco reais <input type="checkbox"/> dez centavos
 celular R\$ 202,00	R\$ 220,00		<input type="checkbox"/> trinta centavos <input type="checkbox"/> dezoito reais <input type="checkbox"/> cinco reais
 liquidificador R\$ 85,00	R\$ 100,00		<input type="checkbox"/> dez reais <input type="checkbox"/> oito reais <input type="checkbox"/> quinze reais
 mp4 player R\$ 153,00	R\$ 160,00		<input type="checkbox"/> dez reais <input type="checkbox"/> sete reais <input type="checkbox"/> quinze reais

$$\begin{array}{r} 784 \\ -269 \\ \hline \end{array}$$

$$\begin{array}{r} 525 \\ -226 \\ \hline \end{array}$$

$$\begin{array}{r} 904 \\ -784 \\ \hline \end{array}$$

$$\begin{array}{r} 879 \\ -525 \\ \hline \end{array}$$

$$\begin{array}{r} 957 \\ -325 \\ \hline \end{array}$$

$$\begin{array}{r} 773 \\ -222 \\ \hline \end{array}$$

$$\begin{array}{r} 625 \\ -474 \\ \hline \end{array}$$

$$\begin{array}{r} 948 \\ -250 \\ \hline \end{array}$$

$$\begin{array}{r} 788 \\ -297 \\ \hline \end{array}$$

$$\begin{array}{r} 496 \\ -337 \\ \hline \end{array}$$

$$\begin{array}{r} 829 \\ -579 \\ \hline \end{array}$$

$$\begin{array}{r} 600 \\ -244 \\ \hline \end{array}$$



(SALA DE RECURSOS MULTIFUNCIONAL- TURMAS C e F) ATIVIDADES REMOTAS-MATEMÁTICA

ALUNO (A): _____

PROFESSORA: MARIA JOSÉ VIEIRA DA ROCHA

Fazendo compras

Observe os preços dos produtos e responda as perguntas:



18 X sem juros
de R\$ 68,50



12 X sem juros
de R\$ 33,00



3 X sem juros
de R\$ 113,00



3 X sem juros
de R\$ 59,90



3 X sem juros
de R\$ 14,30

1. Simone comprou uma televisão a prazo. Quanto ela pagou?

2. Rosana comprou um liquidificador e uma torradeira em 3 pagamentos. Quanto pagará por mês? Qual é o preço do liquidificador? E da torradeira?

3. Luiz comprou um DVD a prazo. Quanto pagará por ele?

4. Paulo comprou uma batedeira e um liquidificador. Quanto ele pagou por mês de prestação? E qual o valor da sua compra?

5. Calcule o custo final de cada produto.

6. Ana comprou 02 televisões e 02 DVDs. Quanto ela pagou?



ESCOLA MUNICIPAL LAURO LUIZ

Anos Iniciais do Ensino Fundamental
Rua Treze de Maio, nº 311 Fone: (45) 3233-1222
Email: escolalauro Luiz@hotmail.com
CAMPO BONITO CEP: 85.450-000 PARANÁ

(SALA DE RECURSOS MULTIFUNCIONAL- TURMAS C e F) ATIVIDADES REMOTAS-MATEMÁTICA

ALUNO (A): _____

PROFESSORA: MARIA JOSÉ VIEIRA DA ROCHA

CÁLCULOS (CONTINHAS) DA ATIVIDADE ANTERIOR DEVERÃO ESTAR REGISTRADAS NESSA FOLHA



(SALA DE RECURSOS MULTIFUNCIONAL- TURMAS C e F) ATIVIDADES REMOTAS-PORTUGUÊS

ALUNO (A): _____

PROFESSORA: MARIA JOSÉ VIEIRA DA ROCHA

A RAPOSA E A CEGONHA

Fábula de La Fontaine

Um dia a Raposa convidou a Cegonha para jantar e serviu-lhe sopa, que ambas gostavam muito, num prato raso.

- Estás a gostar da minha sopa? - perguntou, enquanto a Cegonha bicava em vão no líquido, sem conseguir comer nada.

- Como posso saber, se nem consigo comer? - respondeu a Cegonha, vendo a Raposa lambe a sopa com um ar todo deliciado.

Dias depois foi a vez de a Cegonha retribuir o gesto, pelo que convidou a Raposa para comer com ela na sua casa à beira do lago. Serviu-lhe a sopa num jarro largo embaixo e estreito em cima.

- Hummmm, está deliciosa, querida amiga! - exclamou a Cegonha, enfiando o comprido bico pelo gargalo. - Não achas?

Claro que a Raposa não achava nem podia achar nada, pois o focinho não passava pelo gargalo estreito do jarro. Tentou várias vezes sem sucesso até que, bastante mal humorada, se despediu da Cegonha, resmungando entredentes:

- Não te achei graça nenhuma...!

ESTUDO DO TEXTO

1. Quais são os personagens da história?

2. Para que a raposa convidou a cegonha?

3. O que perguntou a raposa a Cegonha?

4. O que respondeu a cegonha?

5. O que fez a Cegonha dias depois?

6. Onde ficava a casa da Cegonha?

7. Onde a Cegonha serviu sopa a raposa?

8. Como ficou a raposa após o jantar?

9. Analise as frases e marque aquela que explica a moral da história.

a) Casa de ferreiro, espeto de pau.

b) Aqui se faz, aqui se paga.

c) Quem burro nasce, burro morre.

d) A inveja não admite o mérito.



ESCOLA MUNICIPAL LAURO LUIZ

Anos Iniciais do Ensino Fundamental
Rua Treze de Maio, nº 311 Fone: (45) 3233-1222
Email: escolalauro Luiz@hotmail.com
CAMPO BONITO CEP: 85.450-000 PARANÁ

(SALA DE RECURSOS MULTIFUNCIONAL- TURMAS C e F) ATIVIDADES REMOTAS-PORTUGUÊS

ALUNO (A): _____

PROFESSORA: MARIA JOSÉ VIEIRA DA ROCHA



FAÇA UMA LISTA DE CORES.



FAÇA UMA LISTA DE PALAVRAS QUE
TENHAM 4 LETRAS.



FAÇA UMA LISTA DE COISAS QUE
ENCONTRAMOS NA ESCOLA.



FAÇA UMA LISTA DE COISAS QUE TEM
NA RUA DE SUA CASA.



ESCOLA MUNICIPAL LAURO LUIZ

Anos Iniciais do Ensino Fundamental
Rua Treze de Maio, nº 311 Fone: (45) 3233-1222
Email: escolalauro Luiz@hotmail.com
CAMPO BONITO CEP: 85.450-000 PARANÁ

(SALA DE RECURSOS MULTIFUNCIONAL- TURMAS C e F) ATIVIDADES REMOTAS-PORTUGUÊS

ALUNO (A): _____
PROFESSORA: MARIA JOSÉ VIEIRA DA ROCHA



FAÇA UMA LISTA DE COISAS QUE TEM
NO JARDIM.



FAÇA UMA LISTA DE COISAS QUE TEM
NO SUPERMERCADO.



FAÇA UMA LISTA DE COISAS QUE
UTILIZAMOS PARA MANTER NOSSA
HIGIENE.



FAÇA UMA LISTA DE BRINCADEIRAS.
